

高雄市立大社國中 112 學年度第 2 學期第一次段考 國文科 三年級試卷

命題者:許淑玲 範圍:第六冊 1-3 課

\_\_\_年 \_\_\_班 座號: \_\_\_ 姓名: \_\_\_\_\_

一、選擇:(每題 2 分,共 64 分)

- ( ) 下列選項「    」中的字,何者意思說明正確? (A)鐵板沙連到七「鯤」:一種古代傳說中的大魚 (B)任教巨「舶」難輕犯:停靠 (C)天「險」生成鹿耳門:危急 (D)只留蔗葉「餉」群犀:餽贈。
- ( ) 郁永河 鹿耳門一詩中,如何展現出鹿耳門重要的戰略地位? (A)描寫臺江內海天然的地理屏障 (B)列出當地政府施行的邊防政策 (C)刻畫當地人民周密的備戰措施 (D)與鄰近地點的軍事設施進行比較。
- ( ) 郁永河 鹿耳門一詩中,哪一句著重形容海浪的動態描寫? (A)鐵板沙連到七鯤 (B)鯤身激浪海天昏 (C)任教巨舶難輕犯 (D)天險生成鹿耳門。
- ( ) 郁永河 蔗田一詩中,哪兩句點出了甘蔗茂密的生長情況? (A)蔗田萬頃碧萋萋/一望龍蔥路欲迷 (B)蔗田萬頃碧萋萋/只留蔗葉餉群犀 (C)一望龍蔥路欲迷/網載都來糖廊裡 (D)一望龍蔥路欲迷/只留蔗葉餉群犀。
- ( ) 「鐵板沙連到七鯤,鯤身激浪海天昏。」詩中第一句末字「鯤」與第二句首字「鯤」相連,呈現出何種效果? (A)對仗工整,形式上很整齊 (B)讓讀者產生一種視覺上的美感 (C)使人對傳說中的鯤魚產生好奇心 (D)表現出連貫的詩意,讀來一氣呵成。
- ( ) 下列謎語,何者謎底不是甘蔗? (A)像竹不是竹,常年不離土,製糖好原料,吃生不吃熟 (B)身穿綠衣裳,肚裡水汪汪,生的子兒多,個個黑臉膛 (C)莊稼長得高又直,光長秸稈不結實,只能嚼來不能吃,乾的扔掉不吸汁 (D)地裡有個獨腳娘,生來一副甜心腸。孩兒吸盡甜娘奶,剩下骨頭扔路旁。
- ( ) 「鐵板沙連到七鯤,鯤身激浪海天昏。任教巨舶難輕犯,天險生成鹿耳門。」根據這首詩,下列對於「    」中字詞的解讀何者正確? (A)從「鐵」字可以了解,此處的沙適合用來煉鐵 (B)「海天昏」意謂這裡經常下雨,所以天色總是昏昏暗暗 (C)由於鹿耳門特殊的地理環境,所以敵人的大型船艦「難輕犯」 (D)因漚廷在此建造防禦工事,所以「天險生成」,易守難攻。
- ( ) 「鐵板沙連到七鯤,鯤身激浪海天昏。任教巨舶難輕犯,天險生成鹿耳門。」根據此詩,下列哪一句為全詩的轉折點? (A)鐵板沙連到七鯤 (B)鯤身激浪海天昏 (C)任教巨舶難輕犯 (D)天險生成鹿耳門。
- ( ) 下列成語的含義關係,何者與其他三者不同? (A)汪洋浩博/孤陋寡聞 (B)殫精竭慮/掉以輕心 (C)心有靈犀/心心相印 (D)鯤鵬展翅/途窮日暮。
- ( ) 下列選項「    」中的字,何組讀音完全相同? (A)「鯤」餛麵/「鯤」身/「混」水摸魚 (B)「裨」海紀遊/奴顏「婢」膝/「睥」睨群雄 (C)淡「泊」明志/「舶」來商圈/琥「珀」項鍊 (D)晚景「淒」涼/擇木而「棲」/芳草「萋」萋。
- ( ) 關於曲的說明,下列何者正確? (A)曲分為雜劇和散曲,都有科、白 (B)曲牌只標明曲子的音樂性,與內容無關 (C)曲是金、元以前的新文體 (D)散曲分為小令、中調和長調。
- ( ) 下列選項,何者不是對偶句? (A)黃蘆岸白蘋渡口,綠楊堤紅蓼灘頭 (B)點秋江白鷺沙鷗。傲殺人間萬戶侯 (C)白日依山盡,黃河入海流 (D)野鹿眠山草,山猿戲野花。
- ( ) 「古道西風瘦馬」的「道」字,是「路途、途徑」的意思。下列選項中的「道」字,何者也是「路途、途徑」的意思? (A)取捨之「道」 (B)「道」過晚安 (C)穿過鐵「道」 (D)一「道」水流。
- ( ) 「雖無刎頸交,卻有忘機友」一句的句型應為下列何者? (A)表態句 (B)判斷句 (C)敘事句 (D)有無句。
- ( ) 馬致遠 天淨沙秋思一曲中,何者最能點出作者的心境? (A)枯藤老樹昏鴉 (B)古道西風瘦馬 (C)夕陽西下 (D)斷腸人在天涯。
- ( ) 「古道西風瘦馬」所透露的季節與下列何者不同? (A)江楓漁火對愁眠(張繼 楓橋夜泊) (B)漸颯颯、丹楓撼曉(周邦彥 霜葉飛) (C)一路秋山紅葉,老圃黃花(劉鶚 老殘遊記) (D)清和天氣陰陰,南風初奏新琴(趙師俠 清平樂)。
- ( ) 沉醉東風漁父詞一曲中,哪一句是漁父對隱逸生活的自我肯定? (A)黃蘆岸白蘋渡口,綠楊堤紅蓼灘頭 (B)

雖無刎頸交，卻有忘機友 (C) 點秋江白鷺沙鷗 (D) 傲殺人間萬戶侯，不識字煙波釣叟。

18. ( ) 「夕陽西下，斷腸人在天涯。」此句意境與下列何者最相近？ (A) 姑蘇城外寒山寺，夜半鐘聲到客船 (張繼 楓橋夜泊) (B) 孤舟蓑笠翁，獨釣寒江雪 (柳宗元 江雪) (C) 萬里赴戎機，關山度若飛 (木蘭詩) (D) 孤帆遠影碧山盡，唯見長江天際流 (李白 黃鶴樓送孟浩然之廣陵)。
19. ( ) 下列有關「曲」的敘述，何者正確？ (A) 元曲可分為傳奇和散曲兩類 (B) 散曲是元代的戲劇 (C) 散曲和詞的性質相近 (D) 曲又稱為「詩餘」。
20. ( ) 下列選項「 」中的字，何組讀音前後相同？ (A) 潔「淨」／「掙」脫 (B) 天「涯」／懸「崖」 (C) 黃「蘆」岸／頭「顛」 (D) 紅「蓼」／綢「繆」。
21. ( ) 校內舉辦舞臺劇表演，二年三班的同學想改編元曲作為表演內容，以你對元曲的認識，你會建議該班採用下列何者為腳本？ (A) 沉醉東風漁父詞 (B) 天淨沙秋思 (C) 山坡羊潼關懷古 (D) 竇娥冤。
22. ( ) 馬致遠 天淨沙秋思前三句用名詞相疊構成一幅畫，下列文句，何者前三句也運用相同的手法？ (A) 紅蕉隱隱窗紗，朱簾小小人家，綠柳匆匆去馬。斷橋西下，滿湖煙雨愁花 (張可久 天淨沙湖上送別) (B) 春山暖日和風，闌干樓閣簾櫳，楊柳秋千院中。啼鶯舞燕，小橋流水飛紅 (白樸 天淨沙春) (C) 星依雲渚濺濺，露零玉液涓涓，寶砌衰蘭剪剪。碧天如練，光搖北斗闌干 (孟昶 天淨沙星依雲渚濺濺) (D) 一聲畫角譙門，豐庭新月黃昏，雪裡山前水濱。竹籬茅舍，淡煙衰草孤村 (白樸 天淨沙冬)。
23. ( ) 「雖無刎頸交，卻有忘機友」使用了映襯修辭技巧，與下列何者相同？ (A) 天，和雲，和山的倒影，靜靜地躺在注滿了水的田隴裡 (鍾理和 做田) (B) 敗草裡的鮮花 (徐志摩 我所知道的康橋) (C) 太陽又探出了雲端 (陳冠學 田園之秋選) (D) 現在人老了，魚蝦愈來愈少，溪好像也老了 (路寒袖 守護灣潭的燈)
24. ( ) 「警察身軀健壯，一面走一面挨家挨戶巡查，手上警棍舞得花俏熟練，目光警覺，還不時回頭張望平靜的街道，是個稱職的安全守護者。」根據這段文字，下列敘述何者正確？ (A) 警察盡忠職守的巡街 (B) 警察值勤輕佻散漫 (C) 街頭巷尾熱鬧非凡 (D) 警察工時很長。
25. ( ) 下列文句，何者用字完全正確？ (A) 深夜時刻，街上只有通霄營業的便利商店亮著燈光 (B) 許多人千里迢迢來到這裡，只為了購買一張演唱會門票 (C) 疫情嚴重期間，許多店家的生意大受影響，只能關門打洋 (D) 大華捨不得離開家鄉，因為這是他安生立命的地方。
26. ( ) 「鮑伯在二十年後被稱為『滑頭鮑伯』，成為一名□□□□的通緝犯。」句中缺空處應填入下列何者最恰當？ (A) 光風霽月 (B) 惡名昭彰 (C) 行不由徑 (D) 好逸惡勞。
27. ( ) 「我們一起在紐約長大，情同手足，那時我十八歲，吉米二十歲。……我們相約，無論彼此境況如何，無論要跋涉多少路途，二十年後的同一天、同一時間，還要在這兒碰面。」二十年後，吉米和鮑伯最接近下列哪一個年紀？ (A) 花甲之年 (B) 古稀之年 (C) 強仕之年 (D) 弱冠之年。
28. ( ) 「如果我們以人文關懷角度切入，不難發現囤積者的生命都承受著失落與喪慟。囤積，其實是一種無法割捨的情感阻礙。只有透過囤積，他們以為自己並未失去什麼。所以從這個角度來看，囤積者實際上無法處理的，是關於□□。」根據文意脈絡，空格處填入下列何者最恰當？ (A) 分離 (B) 收納 (C) 時間 (D) 理想。
29. ( ) 下列成語，何者前後意思最相近？ (A) 威風凜凜／外強中乾 (B) 老奸巨猾／行不由徑 (C) 志得意滿／躊躇未決 (D) 一成不變／陳陳相因。
30. ( ) 下列文句「 」中的疊字詞，何者運用最恰當？ (A) 他千里「迢迢」來到這裡，只為了見恩人一面 (B) 秋意一染上山頭，樹上紅葉便「渺渺」的落下 (C) 我拚命的準時趕到那裡，但卻等了一個鐘頭才見到他們「翩翩」來遲 (D) 她對自己的表現很滿意，但並不得意「勃勃」。
31. ( ) 下列選項「 」中的注音寫成國字後，何組字形前後相同？ (A) 「ㄉㄛˊ」無幾／晨星「ㄉㄛˊ」落 (B) 「ㄍㄨˋ」風苦雨／越鳥南「ㄍㄨˋ」 (C) 寒風凜「ㄉㄛˊ」／興高采「ㄉㄛˊ」 (D) 身「ㄍㄨˋ」健壯／「ㄍㄨˋ」炎附勢。
32. ( ) 下列選項「 」中的字，何組讀音前後相同？ (A) 切磋琢「磨」／紅「磨」坊 (B) 來龍去「脈」／含情「脈」脈 (C) 「悶」頭苦幹／「悶」不吭聲 (D) 「劃」火柴／「劃」清界線。

## 二、題組(每題3分,共36分)

1.

很多年後,我翻著十九世紀末的日本人去臺灣回來寫的報告書,看到一則記載說:「當地物產極其豐富,住民不吃過夜菜」。當年日本經濟水平還不很高,人們傾向於一次做大量飯菜後,分幾次消費,為的是節約燃料和勞力。相比之下,臺灣人一次做一頓飯,不習慣吃前一頓留下來的東西。有可能是處於亞熱帶、熱帶的臺灣氣溫、溼度雙高,還沒有冰箱的時代,隔夜菜變壞的機率很高所致吧!無論如何,日本即將要獲得臺灣,對豐富物產的憧憬無疑是動機之一。

後來日本新家庭要推行「今天吃的,明天不吃」政策。這絕不等於說「今天吃剩的就扔掉」。那樣子在環保上、人倫上都說不過去。那麼為了不扔掉剩菜,需要採取什麼樣的戰術呢?必須記住:最終目的是十分享受美好的飯菜,絕不能為了節約而在品質、味道上做妥協。

首先是,開始做飯以前就要掌握好所需分量到底是多少。一個人吃一頓晚飯,大概需要有一碗飯、一碗湯、一塊肉(或魚)、兩三種副菜吧。飯量的大小每個人都不一樣,不過,一般來說,四個人吃的一頓飯,要有四碗飯、四碗湯、四塊肉(或魚)、兩三種副菜應該可以了。至於肉(或魚),一份一百公克是平均的分量;要少吃肉(或魚)就把一半換成雞蛋(一顆五十公克)、豆腐等其他類蛋白質即可。

第二步就是把做好的飯菜分給每個人以後再端出去。其實在日本家庭,我小時候的習慣是從大盤上自己夾菜過來吃的。但是,那麼做,就很難掌握每一個人吃了多少。尤其當孩子們猛烈成長胃口驚人大的一段時間裡,始終有「做父母的慢了一步就沒東西吃了」的危險。相反的,沒開動之前先把飯菜分好,就不用擔心有人搶不到菜,大家能泰然自若的就餐,對消化也有幫助了。畢竟,負責分菜的主廚是我,心裡很清楚:要給胃口大的兒子多一半的飯菜,給需要減肥的人則少盛幾成飯菜等。

把做好的飯菜提前分好後端出去,這其實是日本餐廳常見的「定食」型態。每個人面前就有一人份的飯、湯、主菜、副菜。如果成長中的孩子們還吃不飽的話,大可再來添白飯。菜肴沒了,亦可打開冰箱拿出來納豆呀、海苔呀、雞蛋呀、鹹菜呀等來。(新井一二三 秘訣是定食和冷凍)

33. ( ) 根據本文,作者推斷臺灣「住民不吃過夜菜」的原因不包括下列何者? (A) 溫度、溼度太高,食物容易腐壞 (B) 沒有冰箱,無法長久保鮮食物 (C) 經濟水平不高,一餐飯菜量不多 (D) 物產豐富,燃料充足,無須節約。
34. ( ) 文中作者為了不扔掉剩菜所採取的做法為何? (A) 將剩菜均分到新菜之中 (B) 品質達到標準的剩菜才能繼續吃 (C) 做飯前先計算好所需的飯量 (D) 只做家人喜愛的料理。
35. ( ) 根據本文,下列敘述何者最恰當? (A) 不扔掉剩菜的最佳做法是兼顧節約與享受美食 (B) 搶食飯菜能使消化更加順暢 (C) 父母的食量與孩子不相上下 (D) 傳統的日本家庭普遍以定食型態上菜。

2. 請先閱讀曲作,再回答下列問題。

舊酒沒,新醅(1)潑。老瓦盆(2)邊笑呵呵。共山僧野叟閒吟和。他出一對雞,我出一個鵝,閒快活。(關漢卿〈四塊玉閒適〉)

【注釋】(1)醅:音ㄉㄞˋ,未過濾的酒。(2)老瓦盆:陳舊的陶製酒器。

36. ( ) 「舊酒沒,新醅潑。老瓦盆邊笑呵呵。共山僧野叟閒吟和。」據這段曲文,下列敘述,何者最符合作者的生活? (A) 生活富庶,每日皆能享用豐盛的餐點 (B) 生活悠閒,平時能與好友共度逍遙時光 (C) 生活困頓,時常需要借酒澆愁 (D) 生活窘迫,不時得靠鄰居接濟。
37. ( ) 本曲所表現出來的心境,與下列何者最相近? (A) 夕陽無限好,只是近黃昏 (B) 欲窮千里目,更上一層樓 (C) 肯與鄰翁相對飲,隔籬呼取盡餘杯 (D) 天生我才必有用,千金散盡還復來。

3. 讀完曲作後,將最適當的答案填入( )中。

平生淡薄(1),雞兒不見,童子休焦(2)。家家都有閒鍋灶,任意烹炮(3)。煮湯的貼他三枚火燒(4),穿(5)炒的助他一把胡椒。倒省了我開東道(6),免終朝報曉,直睡到日頭高。(王磐〈滿庭芳失雞〉)

【注釋】(1)淡薄:此指對得失不重視。(2)休焦:不要著急。(3)烹炮:烹煮。炮,音ㄆㄞˋ。(4)火燒:一種烤餅。(5)穿:通「川」,一種烹調的方法。將食物置於開水中,水一開即刻撈起。(6)東道:設宴待客之意。

38. ( ) 根據本曲,下列何者是作者以諧趣說明失雞的好處? (A) 雞兒不見,童子休焦 (B) 家家都有閒鍋灶,任意烹炮 (C) 煮湯的貼他三枚火燒,穿炒的助他一把胡椒 (D) 免終朝報曉,直睡到日頭高。
39. ( ) 關於本曲的寫作手法,下列說明何者正確? (A) 以生動的摹寫手法,描寫失雞的過程 (B) 運用對比的方式,凸顯失雞前後的心情變化 (C) 以第三人稱的視角,刻畫鄉間的淳樸民情 (D) 用淺白詼諧的語言,點出自己豁達的性格。

4.

興亡千古繁華夢,詩眼倦天涯。孔林(1)喬木,吳宮蔓草(2),楚廟寒鴉。數間茅舍,藏書萬卷,投老村家。山中何事?松花釀酒,春水煎茶。(張可久 人月圓山中書事)

【注釋】（1）孔林：孔子的墓地。（2）蔓草：蔓延滋生的草。

40. ( ) 「孔林喬木，吳宮蔓草，楚廟寒鴉。」這句話予人何種感受？（A）歷史的殘酷（B）山中生活的寂寥（C）富貴功名到頭一場空（D）田園生活的情趣。
41. ( ) 在這首小令中，面對歷史的興亡滄桑，作者選擇如何面對？（A）不向環境低頭，眾人皆醉我獨醒（B）看破世情，歸隱鄉間，以詩酒自娛（C）悲天憫人，努力兼善天下（D）希望效法古聖先賢，開創不朽基業。

4. 讀完文章後，將最適當的答案填入 ( ) 中。

今年芳齡四十的瑪莎小姐開了一家麵包店，她是個心思細密，溫柔多情的人。

近來，有一個中年男子每星期都來光顧三次。他戴著眼鏡，留著整齊的棕色鬍子，說話時流露出德國腔英語，看起來很有氣質，也很有禮貌。他總是買兩個隔夜麵包，新鮮的麵包一個五分錢，但同樣的價錢卻可以買兩個隔夜麵包。除了隔夜麵包以外，他從來沒有買過其他東西。

瑪莎每天看著他來又目送他走，對他產生了興趣。她常在心裡想，這個男人從事什麼樣的職業呢？

有一天，瑪莎看見他的手指上出現一塊紅褐色的汗漬，她立刻直覺的認為這個男人肯定是個藝術家。當然，絕對是貧窮的那一種，沒錢吃大餐，只好啃啃隔夜麵包。

瑪莎常在吃起牛排和麵包捲的時候，不自覺的嘆起氣來，說：「要是那個斯文的藝術家可以跟我一起分享這些美食就好了。」

她最近開始懷疑，自己的猜測到底對不對呢？為了證實自己的猜測，她在櫃臺後的牆上掛上一幅威尼斯的風景畫，有一座壯麗的大理石宮殿，河道裡有幾艘小船，天空掛著幾絲雲彩，筆觸鮮明，相信任何一個藝術家都不可能不注意到的。

兩天以後，那個男人出現了。「麻煩您，兩個隔夜麵包。」他一如往常，客氣的對瑪莎說。瑪莎拿麵包的時候，心思其實還停留在男人的身上。她想知道，男人究竟會不會注意到那幅畫？

男人果然開口了：「小姐，你這幅畫很不錯，整個筆觸呈現出一種特別的風格，如果透視法用得再真實一點會更好。」

他注意到了，瑪莎終於鬆了一口氣。他果然是個藝術家吧，還能夠說出這麼專業的評斷，她甜甜的微笑起來。「是嗎？」瑪莎高興的回應，忍不住說：「我最喜歡藝術和……」她差點要說出「藝術家」了，好險及時打住，要不然不是太難為情了嗎？她趕緊轉彎說：「……和繪畫。」

自從那幅畫打開話匣子之後，男人來買麵包時，他們開始會隔著櫃臺小聊一會兒，雖然沒談什麼，但都是美好的經驗。只要男人來的那一天，她就會穿上自己最滿意的藍絲綢背心，甚至還熬起美容湯汁，覺得自己除了多情，外表也應該更美麗，才能與藝術家匹配。

一段日子過去了，一直觀察男人的瑪莎感覺到彷彿越來越瘦。有一天，瑪莎靈機一動，拿起麵包刀挖了新鮮的牛油，偷偷的塞進男人準備購買的麵包裡。那男人跟往常一樣的買回去。瑪莎想著：當他肚子餓，在咬下隔夜麵包的那一刻，發現一股香濃的牛油溢出嘴角，絕對是一件很享受的事情！天啊！真是太棒了。瑪莎想到這裡，臉頰竟然泛起一陣紅。

不久，有兩個人喧嚷的走進來。瑪莎一看，其中一個男人是叼著菸斗的年輕人，而另外一個竟是她心儀的那位藝術家。她很緊張，不敢相信一天之內可以見到他兩次。不過，藝術家身旁的男人氣沖沖的走上前，狠狠的抓住瑪莎猛力搖晃，把瑪莎晃得幾乎頭昏了。「你這個女人！你這笨女人！你把我害慘了！」瑪莎虛弱的倒在貨架上，不知到底發生了什麼事。

藝術家費了一番力氣才把那個暴跳如雷的男人架出門外，自己又走進來。瑪莎吃力的站起來，覺得自己分外狼狽，再也無法在他面前保持美麗優雅的樣子了。

「小姐，」男人開口說：「我想我應該解釋清楚。首先，我要代剛剛那位男士向你道歉。他是個建築設計師，我在他的工作室裡替他工作。平常，我都替他來你這裡買隔夜麵包，因為用隔夜麵包來擦拭掉草圖的鉛筆稿，效果比橡皮擦來得好。」瑪莎不發一語的聽著，臉上沒有表情。男人繼續說：「可是，我不知道為什麼，今天麵包裡竟然出現幾塊牛油。他的設計稿當場一擦，全變成了廢紙，現在大概只能用來包三明治了吧。」

男人說完，搖搖頭嘆口氣，沒有再理會瑪莎就離開了。瑪莎仍佇立在原地，過了很久才回神。她默然的走進廚房，脫下那件藍絲綢背心，轉身看見爐臺上還煮著那鍋美容湯汁時，顯得有些不知所措，甚至覺得有些困窘。

最後，她把那鍋湯汁拿起，推開窗，全倒在窗外的草坪上。那些倒在草地上的湯汁被土壤吸乾了，像是從來沒有發生任何事一樣。（改寫自歐·亨利〈麵包的祕密〉）

42. ( ) 瑪莎根據什麼線索，直覺的認為那個常來買隔夜麵包的男人是藝術家？（A）他留著棕色鬍子，符合藝術家應有的形象（B）他看起來很有氣質，也很有禮貌（C）他的手指出現了紅褐色的汗漬（D）他看牆上掛的風景畫時，眼神特別專注。
43. ( ) 關於文中的「隔夜麵包」，下列敘述何者正確？（A）是那位男客人接近瑪莎的藉口（B）是那位男客人賴以維生的主要糧食（C）是那位建築設計師最喜歡吃的點心（D）是那位建築設計師擦去鉛筆稿的最佳工具。
44. ( ) 「她把那鍋湯汁拿起，推開窗，全倒在窗外的草坪上。那些倒在草地上的湯汁被土壤吸乾了，像是從來沒有發生任何事一樣。」關於這段文字的含義，下列敘述何者正確？（A）瑪莎痛恨那鍋美容湯汁，因為它完全不具美容效果（B）瑪莎默默的、不留痕跡的結束了這分愛情幻想（C）瑪莎想發洩對那位男客人始亂終棄的不滿情緒（D）瑪莎感到羞愧，藉此宣示從此不再愛慕任何男人。

高雄市立大社國中 112 學年度第 2 學期第一次段考 國文科 三年級簡答卷

一、選擇：(每題 2 分，共 64 分)

1.A 2.A 3.B 4.A 5.D

6.B 7.C 8.C 9.C 10.D

11.B 12.B 13.C 14.D 15.D

16.D 17.D 18.A 19.C 20.C

21.D 22.B 23.B 24.A 25.B

26.B 27.C 28.A 29.D 30.A

31.A 32.C

二、題組：(每題 3 分，共 36 分)

1. 33.C 34.C 35.A

2. 36.B 37.C

3. 38.D 39.D

4. 40.C 40.B

5. 41.C 42.D 43.B

高雄市立大社國中 112 學年度第二學期  
第一次段考英語科三年級英聽試卷

\_\_\_\_\_年 \_\_\_\_\_號 姓名 \_\_\_\_\_

一、聽 CD，若符合圖意或表格內容的選 A，否則選 B。(5%)

1. \_\_\_\_\_

(A) True (B) False



2. \_\_\_\_\_

(A) True (B) False




3. \_\_\_\_\_

(A) True (B) False




4. \_\_\_\_\_

(A) True (B) False



5. \_\_\_\_\_


(A) True (B) False



二、聽 CD，配合圖片選出最適當的答案。

(5%)

6. \_\_\_\_\_



7. \_\_\_\_\_




8. \_\_\_\_\_



9. \_\_\_\_\_



10. \_\_\_\_\_



三、基本問答：每題均有三個選項，請依據所聽到的內容，選出一個最適合的回應。

(10%)

11. \_\_\_\_\_

(A) I'm so proud of you.

(B) You should tell him as soon as you find out the truth.

(C) You should check again before you hand in your report next time.

12. \_\_\_\_\_  
 (A) Because I dropped some chalk in the yard.  
 (B) This way, we can see things from another angle.  
 (C) Because they're eating the honey that was left on it.
13. \_\_\_\_\_  
 (A) Yes, as soon as you spot an error.  
 (B) Yes, as long as you list the source.  
 (C) Yes, as long as you don't smoke here.
14. \_\_\_\_\_  
 (A) Because that is actually a fake one.  
 (B) Because his clothes smell bad after he smokes.  
 (C) Because he has been spotted smoking several times.
15. \_\_\_\_\_  
 (A) He attacked the woman with a sharp knife.  
 (B) Maybe the woman said something bad to him.  
 (C) As soon as he saw the woman, he attacked her.
16. \_\_\_\_\_  
 (A) It took a long time to correct all the spelling errors.  
 (B) It's easy to spot some insects in this garden.  
 (C) It's terrible. You can't just copy sentences from the website.
17. \_\_\_\_\_  
 (A) Good idea. Just leave the money here.  
 (B) Really? I lent him one thousand dollars yesterday.  
 (C) Do you really see me that way?
18. \_\_\_\_\_  
 (A) He ran into heavy traffic near the airport.  
 (B) He is going to visit his relatives there.  
 (C) It takes fifty minutes to fly to Penghu.
19. \_\_\_\_\_

- (A) He is a stranger to me, too.  
 (B) So do I. Let's ask him.  
 (C) Those blue pants are too cheap.

20. \_\_\_\_\_  
 (A) He's so mean.  
 (B) He's so polite.  
 (C) He's so shy.

四、言談理解：每題均有三個選項，請依據所聽到的對話與問題，選出一個最適當的答案。

(10%)

21. \_\_\_\_\_  
 (A) They might be in the garden.  
 (B) They might be on the sidewalk.  
 (C) They might be in the yard.
22. \_\_\_\_\_  
 (A) They are spotting fake news.  
 (B) Their neighbor got them into trouble.  
 (C) They are preparing for a coming typhoon.
23. \_\_\_\_\_  
 (A) An ant.  
 (B) Honey.  
 (C) A bee.
24. \_\_\_\_\_  
 (A) Because the teacher spotted many errors in the boy's report.  
 (B) Because the information in the boy's report wasn't from a trusted source.  
 (C) Because the teacher found that the boy copied Ashely's report.
25. \_\_\_\_\_  
 (A) There are errors in the news sources.  
 (B) There is a spelling error in the headline.  
 (C) They don't like the way the news was written.
26. \_\_\_\_\_  
 (A) He is lazy and seldom cleans his apartment.  
 (B) He is playing video games while the woman is talking to him.  
 (C) There are bugs all over his apartment

floor.

27. \_\_\_\_\_

(A) "I didn't tell anyone your secret. You should trust me."

(B) "I'm glad that we aren't friends anymore."

(C) "It was stupid of me to make that mistake."

28. \_\_\_\_\_

(A) He was eating honey.

(B) He was smoking.

(C) He was taking a rest.

29. \_\_\_\_\_

(A) The woman will eat in another restaurant, and so will the man.

(B) The woman will leave for another restaurant, but the man won't.

(C) Either the man or the woman will keep waiting in the restaurant.

30. \_\_\_\_\_

(A) People with hobbies are less likely to feel bored.

(B) Hobbies will make us happy and bring us joy.

(C) Never let our hobbies become our jobs.

高雄市立大社國中 112 學年度第二學期  
第一次段考英語科三年級英聽解析卷

一、聽 CD，若符合圖意或表格內容的選 A，否則選 B。

1. 《腳本區》

CD: (B:) My dad got angry as soon as he saw my math grade.

《題目區》

(A) True (B) False



《答案區》

答案：A

題號：A06L1041

2. 《腳本區》

CD: The kid was laughing while his mother was reading him a story.

《題目區》

(A) True (B) False



《答案區》

答案：A


題號：A06L1044

3. 《腳本區》

CD: The teacher was unhappy when he found Tina copied her classmate's answers.

《題目區》

(A) True (B) False



《答案區》

答案：A


題號：A06L1050

4. 《腳本區》

CD: Mr. Chen can't stand the loud music, and neither can Mrs. Chen.

《題目區》

(A) True (B) False



《答案區》

答案：A


題號：A06L2040

5. 《腳本區》

CD: The girl wanted to get the milk on the top shelf, but she was too short to get it.

《題目區》

(A) True (B) False



《答案區》

答案：A

題號：A06L2053

二、聽 CD，配合圖片選出最適當的答案。

6. 《腳本區》

CD: (A) Sophia turned off the TV as soon as she sat on the sofa.

(B) Sophia enjoys watching TV with her

neighbor.

(C) Sophia was watching TV while she was sitting on the sofa.

《題目區》



《答案區》

答案：C

題號：A06L1128

7. 《腳本區》

CD: (A) The foreigners can't leave the airport because of the typhoon.

(B) The foreigners are looking for information on the Internet.

(C) The foreigners were chatting while they were walking out of the airport.

《題目區》



《答案區》

答案：C

題號：A06L1133

8. 《腳本區》

CD: (A) My grandpa is the man who is sitting on the bench.

(B) My grandpa is the man who is sitting under the bridge.

(C) My grandpa is the man who caught the bug.

《題目區》



《答案區》

答案：A

題號：A06L1136

9. 《腳本區》

CD: (A) They felt a few drops of rain, so they put up their umbrella.

(B) They got wet in the rain because they left their umbrella at home.

(C) They were walking along the beach without an umbrella.

《題目區》



《答案區》

答案：A

題號：A06L2129


10. 《腳本區》

CD: (A) The boat is so heavy that the man can't move it easily.

(B) It appears that the man can move the boat easily by himself.

(C) The man is strong enough to push the boat into the sea.

《題目區》



《答案區》

答案：A

題號：A06L2134

三、基本問答：每題均有三個選項，請依據所聽到的內容，選出一個最適合的回應。

11. 《腳本區》

**CD: Mr. Smith told me that I made lots of errors in my history report.**

《題目區》

- \_\_\_\_\_
- (A) I'm so proud of you.
  - (B) You should tell him as soon as you find out the truth.
  - (C) You should check again before you hand in your report next time.

《答案區》

答案：C

題號：A06L1063

12. 《腳本區》

**CD: Why are there so many ants on the dining table?**

《題目區》

- \_\_\_\_\_
- (A) Because I dropped some chalk in the yard.
  - (B) This way, we can see things from another angle.
  - (C) Because they're eating the honey that was left on it.

《答案區》

答案：C

題號：A06L1065

13. 《腳本區》

**CD: Can I put the information I found on the Internet in my report?**

《題目區》

- \_\_\_\_\_
- (A) Yes, as soon as you spot an error.
  - (B) Yes, as long as you list the source.
  - (C) Yes, as long as you don't smoke here.

《答案區》

答案：B

題號：A06L1072

14. 《腳本區》

**CD: Why do you always get mad when**

**your husband smokes?**

《題目區》

- \_\_\_\_\_
- (A) Because that is actually a fake one.
  - (B) Because his clothes smell bad after he smokes.
  - (C) Because he has been spotted smoking several times.

《答案區》

答案：B

題號：A06L1074

15. 《腳本區》

**CD: The police still have no idea why the foreigner attacked the woman.**

《題目區》

- \_\_\_\_\_
- (A) He attacked the woman with a sharp knife.
  - (B) Maybe the woman said something bad to him.
  - (C) As soon as he saw the woman, he attacked her.

《答案區》

答案：B

題號：A06L1077

16. 《腳本區》

**CD: What do you think about my science report?**

《題目區》

- \_\_\_\_\_
- (A) It took a long time to correct all the spelling errors.
  - (B) It's easy to spot some insects in this garden.
  - (C) It's terrible. You can't just copy sentences from the website.

《答案區》

答案：C

題號：A06L1205

17. 《腳本區》

**CD: Frank borrows money from everyone he knows, but he pays it back to no one.**

《題目區》

- \_\_\_\_\_
- (A) Good idea. Just leave the money here.  
(B) Really? I lent him one thousand dollars yesterday.  
(C) Do you really see me that way?

《答案區》

答案：B

題號：A06L2074

18. 《腳本區》

**CD: Do you know why Lucas is flying to Penghu tomorrow?**

《題目區》

- \_\_\_\_\_
- (A) He ran into heavy traffic near the airport.  
(B) He is going to visit his relatives there.  
(C) It takes fifty minutes to fly to Penghu.

《答案區》

答案：B

題號：A06L2204

19. 《腳本區》

**CD: Do you know the man in blue pants over there? I have never met him.**

《題目區》

- \_\_\_\_\_
- (A) He is a stranger to me, too.  
(B) So do I. Let's ask him.  
(C) Those blue pants are too cheap.

《答案區》

答案：A

題號：A06L2071

20. 《腳本區》

**CD: Gary is a man who likes laughing at people by putting them down.**

《題目區》

- \_\_\_\_\_
- (A) He's so mean.  
(B) He's so polite.  
(C) He's so shy.

《答案區》

答案：A

題號：A06L2069

四、言談理解：每題均有三個選項，請依據所聽到的對話與問題，選出一個最適當的答案。

21. 《腳本區》

**CD: M: This is surely my favorite part of our house.**

**W: I couldn't agree more. It's nice that we can sit here and look at the stars.**

**M: We can also see the garden from here.**

**W: When we have kids, we can even put a swing set here.**

**M: That's a wonderful idea!**

**Q: Where might the man and the woman be?**

《題目區》

- \_\_\_\_\_
- (A) They might be in the garden.  
(B) They might be on the sidewalk.  
(C) They might be in the yard.

《答案區》

答案：C

題號：A06L1094

22. 《腳本區》

**CD: M: It's rainy and windy outside. The weather report said it would get even worse on Friday.**

**W: Should we prepare some food and water?**

**M: Yes, we should. I'll go out and buy some.**

**W: All right. Then I'll put tape on the windows.**

**Q: What do we know about the man and the woman?**

《題目區》

- \_\_\_\_\_
- (A) They are spotting fake news.  
(B) Their neighbor got them into trouble.  
(C) They are preparing for a coming typhoon.

《答案區》

答案：C

題號：A06L1092

23. 《腳本區》

**CD: M:** Take a guess. This insect can fly. What is it?

**W:** I have no idea. What color is it?

**M:** Black and yellow. Besides, it can make something sweet.

**W:** I think I know the answer. When they fly, they make lots of noise, right?

**M:** You're right!

**Q:** What are the man and the woman talking about?

《題目區》

(A) An ant.

(B) Honey.

(C) A bee.

《答案區》

答案：C

題號：A06L1097

24. 《腳本區》

**CD: B:** What's wrong, Mom?

**W:** I got a call from your teacher. She said that your Chinese report was almost the same as Ashley's. Why is that?

**B:** I guess that's because the information we found was from the same sources.

**W:** I don't think that's the truth. Do your report again by yourself and stop being lazy!

**Q:** Why did the teacher call the mother?

《題目區》

(A) Because the teacher spotted many errors in the boy's report.

(B) Because the information in the boy's report wasn't from a trusted source.

(C) Because the teacher found that the boy copied Ashley's report.

《答案區》

答案：C

題號：A06L1100

25. 《腳本區》

**CD: M:** Let's not buy this newspaper anymore. Some of the news reports aren't true. Did the reporters ever check the news sources?

**W:** I couldn't agree more. Hey, look at the headline here on the first page.

**M:** I can't believe it. They even spelled the word "angle" wrong!

**Q:** Which of the following ISN'T what the man and the woman think about the newspaper?

《題目區》

(A) There are errors in the news sources.

(B) There is a spelling error in the headline.

(C) They don't like the way the news was written.

《答案區》

答案：C

題號：A06L1103

26. 《腳本區》

**CD: M:** Welcome to my apartment. I'm sorry that I haven't cleaned it for a while.

**W:** There's trash everywhere on the floor. How can you live like this?

**M:** I've been busy playing video games.

**W:** Come on. Just stop and do the cleaning for 15 minutes every day, and you'll have a better place to live in.

**Q:** What can we say about the man?

《題目區》

(A) He is lazy and seldom cleans his apartment.

(B) He is playing video games while the woman is talking to him.

(C) There are bugs all over his apartment floor.

《答案區》

答案：A

題號：A06L1110

27. 《腳本區》

**CD: (W:) Dear Diary, I feel bad because Judy stopped talking to me after she found out that I told other girls her secret. She said she wouldn't trust me again. I didn't know what to say at the time, but now I do. I sent her a message and asked her to meet me at the bridge at 10 tomorrow morning. I will tell her how sorry I am and that this thing won't happen again. I really hope she'll come...**

**Q: What might the writer say to Judy when she sees her?**

《題目區》

(A) "I didn't tell anyone your secret. You should trust me."

(B) "I'm glad that we aren't friends anymore."

(C) "It was stupid of me to make that mistake."

《答案區》

答案：C

題號：A06L1207

28. 《腳本區》

**CD: W: How did you get hurt?**

**M: Some bees attacked me when I was in the mountains.**

**W: How did that happen?**

**M: I got too close to the tree while I was resting.**

**Q: What was the man doing when he was attacked by bees?**

《題目區》

(A) He was eating honey.

(B) He was smoking.

(C) He was taking a rest.

《答案區》

答案：C

題號：A06L1206

29. 《腳本區》

**CD: M: I can't believe it. This restaurant**

**is still full of people after two p.m.**

**W: I'm so hungry. I can't wait any longer.**

**M: Neither can I. Let's go to another restaurant.**

**Question: What will the man and the woman do?**

《題目區》

(A) The woman will eat in another restaurant, and so will the man.

(B) The woman will leave for another restaurant, but the man won't.

(C) Either the man or the woman will keep waiting in the restaurant.

《答案區》

答案：A

題號：A06L2100

30. 《腳本區》

**CD: (M:) Everyone should have at least a hobby. For example, some people like reading, others enjoy cooking, and still others love playing sports. Hobbies can keep us from a boring life. We can get pleasure from our hobbies, and we might even turn them into businesses. As the saying goes, "If you do what you love, you'll never work a day in your life."**

**Q: What doesn't the man say about hobbies?**

《題目區》

(A) People with hobbies are less likely to feel bored.

(B) Hobbies will make us happy and bring us joy.

(C) Never let our hobbies become our jobs.

《答案區》

答案：C

題號：A06L2109

高雄市立大社國中 112 學年度第二學期第一次段考英語科三年級解答

- 一、單選題 1-15:           CBDBA   BBDBC   DCAAC  
二、克漏字 16-25:        CADAD   DDCDA  
三、閱讀素養 26-35       ACACD   CBDAC

高雄市立大社國中 112 學年度第二學期第一次段考英語科三年級題目卷

班級: 三年\_\_\_\_\_班 座號: \_\_\_\_\_ 姓名: \_\_\_\_\_

◎ 範圍: L1-L2

II 綜合測驗: 70%

一、單選題:請依文意選出一個正確或最佳的答案。30%(每題 2 分)

- ( ) 1. The man kicked the \_\_\_\_\_ off his shoes before he entered the house because he did not want to make the floor dirty.  
(A) death (B) event (C) mud (D) heat
- ( ) 2. The shopkeeper put tape across all the windows and doors to prepare for the big \_\_\_\_\_ that was coming.  
(A) rainbow (B) typhoon (C) shower (D) sight
- ( ) 3. Paul \_\_\_\_\_ a book from the library but forgot to give it back.  
(A) lent (B) paid (C) bought (D) borrowed
- ( ) 4. Please be \_\_\_\_\_ to others anytime anywhere. You can say hello to your family, teachers, or friends with a smile.  
(A) lonely (B) polite (C) lazy (D) sharp
- ( ) 5. Playing the violin has been a \_\_\_\_\_ of Nick's since he was in senior high school. When he plays it, he usually forgets all his troubles.  
(A) hobby (B) humor (C) honey (D) habit
- ( ) 6. Neither Mike nor Bruce \_\_\_\_\_ a lot. Online games are more interesting to them.  
(A) exercise (B) exercises (C) exercised (D) are exercised
- ( ) 7. Not only setting up goals but also making plans \_\_\_\_\_ to me.  
(A) sound difficult (B) sounds difficult (C) is sound difficult (D) are sounded difficult
- ( ) 8. I had to stay up all night for this work, and \_\_\_\_\_ my friends.  
(A) neither have (B) neither do (C) so have (D) so did
- ( ) 9. Though my baby sister fell down and cried loudly, she stopped crying \_\_\_\_\_ Mother held her in the arms.  
(A) until (B) as soon as (C) as long as (D) since
- ( ) 10. In Taiwan, people don't have to wear masks all the time in most public places \_\_\_\_\_ they are in good health.  
(A) until (B) as soon as (C) as long as (D) though
- ( ) 11. Because of the traffic jams, my father didn't arrive at home \_\_\_\_\_ we finished dinner. It took him more time to drive home than before.  
(A) as soon as (B) since (C) while (D) until
- ( ) 12. Fried chicken is \_\_\_\_\_ for me \_\_\_\_\_ stop eating although eating it too often is not good for my health.  
(A) delicious enough ; to (B) so delicious ; that (C) too delicious ; to (D) such delicious food ; that.
- ( ) 13. Barry : I don't know what to do this afternoon.  
Stacey : \_\_\_\_\_ do I. All I can do is stay at home and do nothing.  
(A) Neither (B) So (C) Not (D) Also
- ( ) 14. Emily: The book is put too high for me to reach. What does Emily mean?  
(A) The book is on the top of the shelf, so she can't get it.  
(B) The book is so expensive she doesn't have enough money to buy it.  
(C) The price of the book is very high but she got it at a low price.  
(D) She puts the book on the top of the shelf.
- ( ) 15.

A: You are excellent at singing. There will be a talent show next week. Do you want to join it?

B: Of course. I put myself down for the show last Friday. I will do my best to win first place.

Which of the following is the correct meaning of "put down" here?

- (A) To make someone feel unhappy or sad by saying something bad. (B) To kill an animal that is old or sick.  
(C) To write someone's name on a list to join an activity. (D) To pay part of the cost to order something.

二、克漏字測驗: 20% (每題 2 分)

A.

A Frenchman went to a small Italian town. He was staying with his wife at the best hotel there. One night he went out for a walk alone. It was late and the small street was dark and quiet. Suddenly he felt someone behind him. He turned his head and saw an Italian young man quickly 16. \_\_\_\_\_ past him. The man was nearly out of sight when the Frenchman suddenly found that his watch was gone. He thought that it was the Italian man 17. \_\_\_\_\_. He decided to follow him and get his watch back. Soon the Frenchman caught up with the Italian. 18. \_\_\_\_\_ of them understood each other's language. The Frenchman frightened the Italian with his fist and pointed at the Italian's watch. In the end the Italian gave up his watch to the Frenchman. 19. \_\_\_\_\_ he was back to the hotel, the Frenchman told his wife what had happened. He was greatly surprised 20. \_\_\_\_\_ his wife pointed at the watch on the table. Now he realized that by mistake he robbed the watch and it was the Italian's.

《 catch up with 追上 frighten 嚇唬 fist 拳頭 realize 了解 rob 搶劫 》

- ( ) 16. (A) to walk            (B) who walked            (C) walking            (D) and walked  
( ) 17. (A) who took his watch away            (B) that was taken his watch away  
(C) who would take his watch away            (D) that couldn't take his watch away  
( ) 18. (A) Both            (B) No            (C) Either            (D) Neither  
( ) 19. (A) As soon as            (B) Before            (C) Until            (D) While  
( ) 20. (A) as long as            (B) before            (C) until            (D) when

B.

Julia: 21. \_\_\_\_\_ photo is this? Is it yours, Sally?

Sally : Yes, it's mine.

Julia: The two girls in the photo look much the same. Are they twins?

Sally: Yes, they are. They are not only tall but also beautiful. They are my friends, Amy and Cindy.

Julia: Do they have a lot in common?

Sally: Yes. For example, Amy enjoys reading comic books, and 22. \_\_\_\_\_ does Cindy. Amy doesn't like black cats, and Cindy doesn't, 23. \_\_\_\_\_ Both of them are interested in music.

Julia: I got it. By the way, you have been to Frog River, 24. \_\_\_\_\_ ? I plan to visit there next month. Did you have fun?

Sally: Yes, I did. We had a lot of fun. I went boat rowing with my sister. The water there was 25. \_\_\_\_\_ clean 25. \_\_\_\_\_ we could see fish and plants in it. You can also go fishing.

Julia: Sounds great. I can't wait to go there with my friends.

- ( ) 21. (A)What            (B)Who            (C)Where            (D)Whose  
( ) 22. (A)either            (B)neither            (C)too            (D)so  
( ) 23. (A)too            (B)neither            (C)either            (D)so  
( ) 24. (A)do you            (B) doesn't you            (C)have you            (D)haven't you  
( ) 25.(A)so; that            (B)too; to            (C)enough; to            (D)such; that

三、閱讀素養測驗:20% (每題 2 分)

**【A】**

Do you play badminton? Are you a fan of badminton? If so, you must know Tai Tzu Ying, a professional badminton player. And in fact, she is the best badminton player in Taiwan and no one can take her place.

Tai Tzu Ying comes from Kaohsiung, Taiwan. Her father likes to play badminton. Because of him, Tai Tzu Ying loves this sport, too. She started to practice badminton when she was nine years old. She joined many games and got good rankings. She reached World NO. 1 for the first time in 2016. Many people in Taiwan love her. Tai Tzu Ying is really the glory of Taiwan.

**Are you ready, all the fans of Tai Tzu Ying?**

Time: May 6th, 10:30 a.m. to 12:30 p.m.

Place: Taipei Jhong Jheng Sports Center

\* Listen to Tai Tzu Ying share her stories.

\* Take photos with Tai Tzu Ying.



《 professional 職業的 glory 光榮 》

- ( ) 26. What is this reading about?  
 (A) A badminton star in Taiwan. (B) The badminton history in Taiwan.  
 (C) How to be a good badminton player. (D) How to be the glory of Taiwan.
- ( ) 27. Which is true about the meet-and-greet with Tai Tzu Ying? ■ meet-and-greet 見面會  
 (A) It is in Kaohsiung. (B) It is in the evening.  
 (C) Fans can take a picture with her. (D) Fans can play badminton with her.
- ( ) 28. If you want to get good rankings in a sport, you have to \_\_\_\_\_.  
 (A) join and win many games (B) play it with your father  
 (C) start practicing it at nine (D) be a fan of Tai Tzu Ying

**【B】**

Jane	Hi, guys. I'm going to buy a computer. I'm not sure whether to buy a laptop or a desktop. Any suggestion? <i>6 hours ago</i>
Samantha	I think you should buy a desktop. A desktop is not only cheap but useful. Besides, its screen is bigger and it can be used for a long time. <i>5 hours ago</i>
Derek	It's clear that the answer to the question is a laptop. Mine is a laptop. It's a Taiwanese brand. I've used it for three years. It's still in very good condition. Taiwanese laptops are of high quality. Why not get one for yourself? <i>2 hours ago</i>
Terry	I bought a laptop last year. My bedroom is small. There wasn't enough room for a desktop, so I chose a laptop over a desktop. In my view, a laptop may cost you a little more money, but it is much more useful than a desktop. <i>45 minutes ago</i>
Ted	I agree with Terry and Derek. I'm a salesman. A laptop is very useful for me. It's easy for me to carry it to see my customers. It's very convenient to use a laptop. <i>30 minutes ago</i>

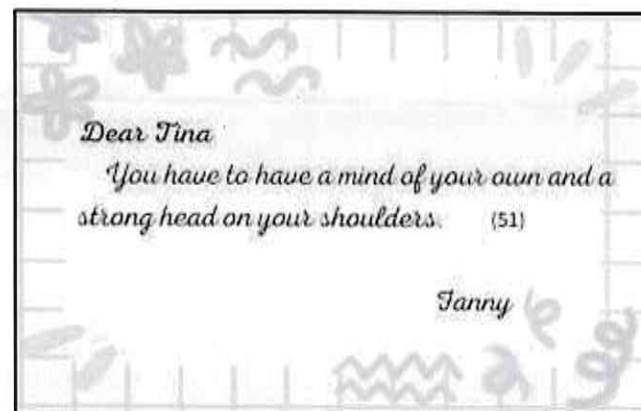
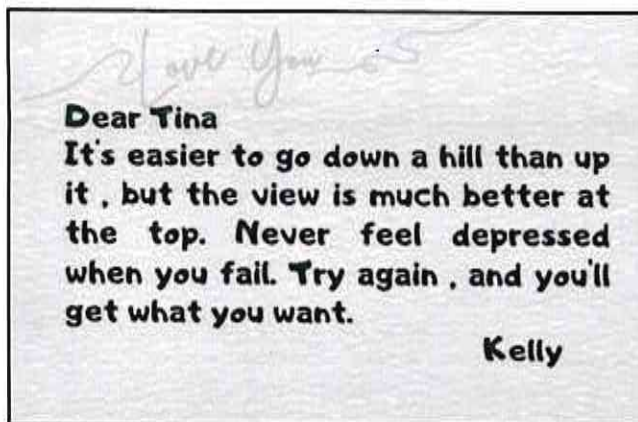
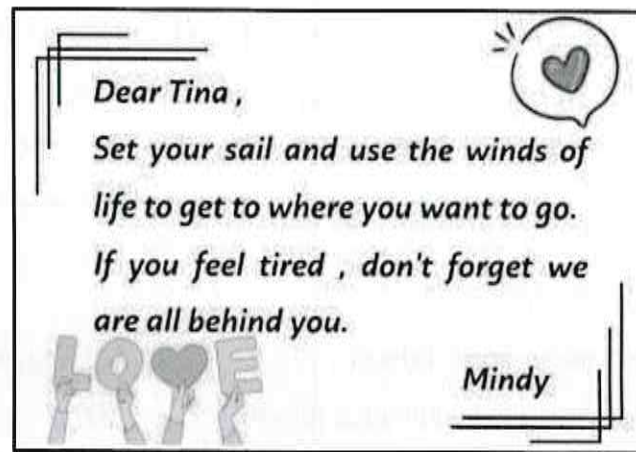
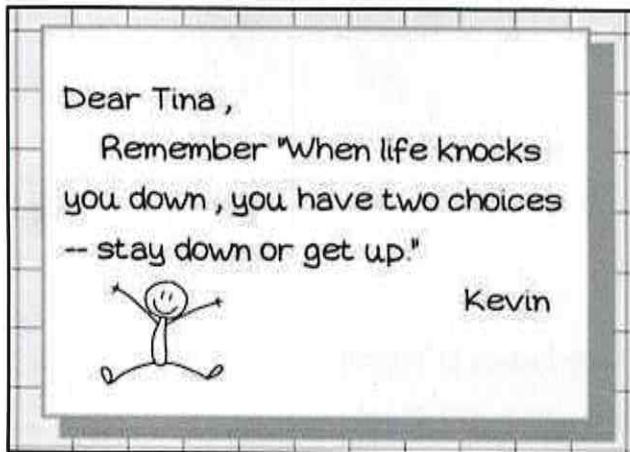
《 desktop 桌上型電腦; suggestion 建議; condition 狀況; view 觀點; customer 顧客 》

- ( ) 29. What does one refer to?  
(A) A television. (B) A desktop. (C) A laptop. (D) A room.
- ( ) 30. What are they talking about?  
(A) Where to buy a computer? (B) How much does a laptop cost?  
(C) How to use a computer to download files? (D) Which is better, a laptop or a desktop?
- ( ) 31. What does room mean?  
(A) Money. (B) Time. (C) Space. (D) File.
- ( ) 32. What is NOT true?  
(A) Samantha thinks a desktop is cheap and its screen is bigger. (B) Terry thinks a laptop is cheaper than a desktop.  
(C) Ted thinks a laptop is easy to carry. (D) Derek thinks Taiwanese laptops are very good.

**[C]**

Tina's friends write cards to encourage her. Below are their blessings.

■ encourage 鼓勵

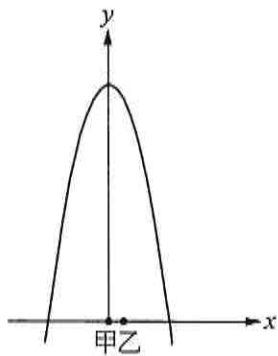


《 encourage 鼓勵 》

- ( ) 33. What does **depressed** mean in the reading?  
(A) excited and with courage (B) sad but interested  
(C) surprised and clever (D) unhappy and without hope
- ( ) 34. What may Fanny write here?  
(A) Don't just follow others' ideas, you have to believe in yourself.  
(B) If you don't know what to do, you can give it up.  
(C) You don't need to be brave, you can hide behind me.  
(D) Do everything on your own without others' help.
- ( ) 35. According to the cards, what don't Tina's friends say to her?  
(A) Keep going and you'll have a chance to succeed.  
(B) When you face the difficulties in life, don't lose the hope.  
(C) Making money is very important because we can't do everything without it.  
(D) Be yourself, and don't just say yes to others every time.

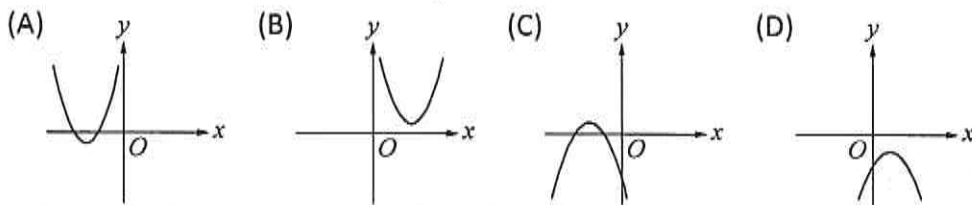
一、單選題：每格 5 分、共 50 分

- ( ) 1. 下列何者為二次函數  $y=(x+4)^2-9$  圖形的對稱軸方程式？ (A) $x+4=0$  (B) $x-4=0$  (C) $y+4=0$  (D) $y-4=0$   
 ( ) 2. 甲、乙兩人站在數線上，相距 1 個單位，如附圖，兩人同時看丙在拋擲一球。若甲看到球的最高點，正好在自己正上面，經過甲計算後，得二次函數為  $y=-x^2+16$ ，若是以乙為原點來計算，則此二次函數為何？

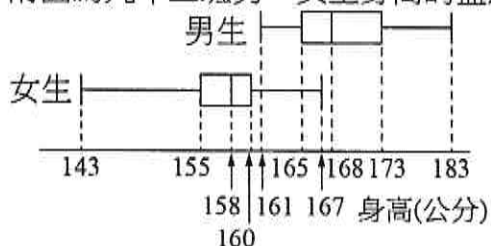


- (A) $y=-x^2+17$  (B) $y=-(x+1)^2+16$  (C) $y=-(x-1)^2+16$  (D) $y=-x^2+15$

- ( ) 3. 設  $a$  是常數，二次函數  $y=-\frac{17}{9}(x+a)^2-2$  的圖形可能為下列何者？



- ( ) 4. 有關二次函數  $y=-2(x-25)^2-911$  的性質，下列何者正確？  
 (A) $y$  值恆大於或等於  $-911$  (B) $y$  值恆小於或等於  $-911$  (C) $y$  值恆大於或等於  $911$  (D) $y$  值恆小於或等於  $911$   
 ( ) 5. 直線  $y=3$  與下列哪一個拋物線圖形之交點的兩點距離最大？ (A) $y=\frac{1}{2}x^2$  (B) $y=\frac{1}{3}x^2$  (C) $y=\frac{1}{4}x^2$  (D) $y=\frac{1}{6}x^2$   
 ( ) 6. 有一組資料由小至大為：10、11、 $a$ 、 $a$ 、 $b$ 、 $b$ 、 $c$ 、 $c$ 、 $c$ 、16、17。若此組資料的中位數為 14，眾數為 15，四分位距為 3，則  $a$  的值為何？ (A)11 (B)12 (C)13 (D)14  
 ( ) 7. 北川國中三年一班有 30 人，某次數學考試最高分為 62 分，最低分為 10 分，老師決定每人加 28 分，則加分前後的統計結果中，下列共有多少項的值不會改變？  
 (甲) 全距 (乙) 四分位距  
 (丙) 中位數 (丁) 第 1 四分位數  
 (戊) 算術平均數  
 (A)1 (B)2 (C)3 (D)4  
 ( ) 8. 二次函數  $y=a(x-4)^2+6$  有最小值 6，試問下列敘述何者正確？  
 (A) $a < 0$  (B)此函數圖形的頂點為  $(-4, 6)$  (C)此函數圖形的對稱軸為  $x=4$  (D)此函數圖形的開口向下  
 ( ) 9. 二次函數  $y=2x^2-1$ 、 $y=-2x^2-1$  的圖形是以下列何者為對稱軸？ (A) $y=1$  (B) $y=-1$  (C) $y=2$  (D) $y=-2$   
 ( ) 10. 附圖為九年三班男、女生身高的盒狀圖，請問下列敘述何者錯誤？



- (A)女生身高的全距比男生的大 (B)所有女生皆比男生矮 (C)全班身高的全距為 40 (D)男生的四分位距比女生大

二、填充題：每格 5 分、共 50 分

1.  $y=-2(x+\frac{3}{2})^2+\frac{15}{2}$  圖形的頂點到  $x$  軸之距離為\_\_\_\_\_。  
 2. 將  $y=-2(x-3)^2+1$  的圖形向左平移 2 個單位，再向上平移 4 個單位，則經過平移後，新圖形的最\_\_\_\_\_ (填高或低) 點坐標為\_\_\_\_\_。  
 3. 大大高中棒球隊有 15 名球員，他們的體重 (單位：公斤) 如下：60、66、67、69、70、71、73、74、75、76、78、78、79、80、110。  
 (1) 第 3 四分位數是\_\_\_\_\_公斤。  
 (2) 四分位距是\_\_\_\_\_公斤。  
 4. 已知二次函數  $y=a(x+p)^2+q$  的對稱軸為直線  $x=-1$ ， $|a|=5$ ，若此函數有最小值 3，則  $a+pq=_____$ 。  
 5. 已知二次函數  $y=-3x^2+5$ ，試回答下列問題：  
 (1) 圖形開口向\_\_\_\_\_ (填上或下)，對稱軸為\_\_\_\_\_，頂點為\_\_\_\_\_。  
 (2) 將圖形向左平移 2 個單位，可得到新的二次函數\_\_\_\_\_，再向下平移 7 個單位後，可得到新的二次函數\_\_\_\_\_。

範圍 1-1~2-1

\_\_\_\_年\_\_\_\_班 座號：\_\_\_\_ 姓名：\_\_\_\_

一、單選題：每格 5 分、共 50 分

1.(A) 2.(B) 3.(D) 4.(B) 5.(D)  
6.(B) 7.(B) 8.(C) 9.(B) 10.(B)

二、填充題：每格 5 分、共 150 分

1. 答案： $\frac{15}{2}$

2. 答案：高，(1, 5)

3. 答案：(1) 78；(2) 9

4. 答案：8

5. 答案：(1) 下，y 軸 ( $x=0$ )，(0, 5)

(2)  $y=-3(x+2)^2+5$ ， $y=-3(x+2)^2-2$

高雄市立大社國中 112 學年度 下學期 第 1 次段考 歷史科三年級試卷

命題者：林怡君

範圍：第 1 課-第 2 課

班級：\_\_\_\_\_ 座號：\_\_\_\_\_ 姓名：\_\_\_\_\_

一、單選題：(每題 2 分，1-35 題，共 35 題，總共 70 分)

- B 1. 在義大利統一的過程中，哪個王國扮演著領導者的角色，逐步統一義大利半島上的各邦國？  
(A)教皇國 (B)薩丁尼亞王國 (C)兩西西里王國 (D)倫巴底王國。
- B 2. 國際關係學者指出：「一個地區若由當地強大並具主要優勢的國家，能其他國家進行的統合，特別容易達成統一○○的目的，歷史上德意志地區便是最佳案例。」請問：上述○○所指的應該為何？  
(A)藝術 (B)經濟 (C)血統 (D)文字。
- C 3. 歷史老師：「由於科技的進步使戰爭工具更具殺傷力，諸如潛艇、飛機、毒氣、坦克等，導致人們對科技文明產生懷疑。」請問：老師指的是哪一場戰爭？  
(A)德法戰爭 (B)八國聯軍 (C)第一次世界大戰 (D)日俄戰爭。
- B 4. 「他是美國首任總統，在連任一次之後，斷然拒絕第二次連任，毅然退休。此種以國家為重，淡泊名利的曠達胸懷，替美國樹立良好的民主楷模。」請問：上述應該是下列何人？  
(A)門羅 (B)華盛頓 (C)威爾遜 (D)羅斯福。
- D 5. 19 世紀帝國主義興起時，歐美列強自認負有教化落後地區的使命，使其侵略行為合理化。這是受到下列何思想盛行的影響？(A)軍國主義 (B)人文主義 (C)民族主義 (D)社會達爾文主義。
- A 6. 英國政府的態度在此事件後開始轉變，從一開始的極力安撫，變為強力鎮壓，使得北美十三州殖民地與英政府的關係急轉直下。請問：事情的發展應為下列何者？  
(A)波士頓茶葉事件 (B)殖民地政府開始向歐洲各國購買美洲土地 (C)起草《獨立宣言》 (D)開始制定憲法。
- C 7. 西元 1823 年，當時的美國總統發表了哪個宣言，聲明歐洲國家勿干預中南美洲的獨立運動？  
(A)《人權宣言》 (B)《獨立宣言》 (C)《門羅宣言》 (D)《九十五條論綱》。
- C 8. 十九世紀時有位政治家表示：「日耳曼之所期望於普魯士的，並不是它的自由主義，而是它的實力。當前的重大問題，不是通過演說或通過半數的投票所能決定的……，只能用鐵和血來解決。」請問：提出這個主張的政治家應是下列何人？  
(A)門羅 (B)玻利瓦 (C)俾斯麥 (D)拿破崙。
- A 9. 中南美洲之所以又被稱為「拉丁美洲」，主要的歷史背景是此洲的大部分地區曾經是哪些國家的殖民地？  
(A)葡萄牙和西班牙 (B)中國和日本 (C)法國和德國 (D)英國和美國。
- D 10. 某位歷史人物在義大利統一的過程中，曾率領千名志願軍攻占兩西西里王國，而後將土地獻出來，自己背著一袋豆子到鄉下隱居。請問：這應該是指下列何者？  
(A)俾斯麥 (B)梅特涅 (C)加富爾 (D)加里波底。
- C 11. 西元 1789 年，法國國王召開了最後一次會議，但會議決議卻導致法國大革命的爆發。大革命後，這個會議隨著舊制度一起被廢除，不復存在。請問：這會議的名稱應為下列何者？  
(A)大陸會議 (B)國民會議 (C)三級會議 (D)維也納會議。
- A 12. 第一次世界大戰結束後，戰勝國成立維持永久和平的國際組織是下列何者？  
(A)國際聯盟 (B)聯合國 (C)歐洲聯盟 (D)美洲聯盟。
- B 13. 1914 年，奧匈帝國王儲斐迪南夫婦在哪個地方遇刺，而引發了第一次世界大戰？  
(A)伊比利半島 (B)巴爾幹半島 (C)義大利半島 (D)科西嘉島。
- D 14. 拿破崙戰敗後，歐洲各國曾召開哪一個會議，欲解決歐洲政治版圖的分配問題？  
(A)大陸會議 (B)國民會議 (C)三級會議 (D)維也納會議。
- B 15. 拿破崙曾自豪的說：「在我的字典裡沒有一個難字」，但他於西元 1812 年時，卻因為征討哪個國家的失敗，使得氣勢一蹶不振，難以東山再起？  
(A)英國 (B)俄國 (C)西班牙 (D)義大利。
- B 16. 十九世紀初期，有位革命家趁拿破崙占領伊比利半島的時機，反抗在美洲的殖民統治，在美洲各地領導獨立戰爭，被譽為美洲的解放者，請問下列選項中何者最有可能是此革命家？  
(A)拿破崙 (B)玻利瓦 (C)俾斯麥 (D)加富爾。
- D 17. 附圖為聳立在美國紐約曼哈頓的自由女神像，她是法國於西元 1876 年，贈送給美國獨立建國一百周年的禮物。請問：自由女神左手抱的書板最可能與下列何者有關？  
(A)《聖經》 (B)《美國憲法》 (C)《人權宣言》 (D)《獨立宣言》。

【背面尚有試題】

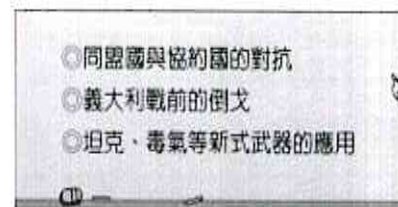


- C 18. 法國大革命演變至弑君與建立共和，引起各國君主的強烈反應。請問：在維也納會議中，以何者為原則，讓原有王室復辟，重建歐洲政治？  
(A)補償 (B)保守 (C)正統 (D)懲罰。
- D 19. 拿破崙向外擴張的行動，最終雖然失敗，卻將何種精神，隨著他的征戰在歐洲四處散播？  
(A)文藝復興 (B)恐怖統治 (C)宗教改革 (D)自由、平等、博愛。
- D 20. 法國大革命後，法國成立共和政體，是誰實施恐怖統治，逮捕反革命嫌疑分子，造成許多冤獄？  
(A)路易十六 (B)梅特涅 (C)拿破崙 (D)羅伯斯比。
- C 21. 西元 1870 年德法戰爭後，有兩個國家獲得統一。這是指下列哪兩個國家？  
(A)德國和法國 (B)法國和義大利 (C)德國和義大利 (D)法國和比利時。
- B 22. 1917 年初，第一次世界大戰期間，德國欲先行制伏英國結束戰爭，於是參謀總長魯登道夫提出建議，主張無限制使用潛艇，打擊聯軍海上運輸。德國採行這樣的政策所導致的結果為何？  
(A)英國退出戰場 (B)美國參戰 (C)俄國退出戰場 (D)義大利參戰。
- C 23. 揭開法國大革命的序幕是指下列哪一件事？  
(A)巴黎群眾將路易十六處死 (B)羅伯斯比的恐怖統治 (C)巴黎市民攻陷巴士底監獄 (D)拿破崙征俄失敗。
- C 24. 第一次世界大戰末期，某位總統提出以下主張：「希望使世界適合人類生存和安居樂業，所有愛好和平的國家都能獲得正義的保護，依照自己的方式生活，決定自己的制度，並得到世界上其他民族的公平待遇，不致遭受暴力和損人利己的侵略。」這位總統為下列何人？  
(A)門羅 (B)克里蒙梭 (C)威爾遜 (D)勞合喬治。
- A 25. 美國獨立後，制定了行政、立法、司法三權分立的憲法，成為往後民主國家的典範。請問：美國憲法中「三權分立」的精神，是實現哪位學者的政治理想？  
(A)孟德斯鳩 (B)盧梭 (C)洛克 (D)笛卡兒。
- C 26. 19 世紀初，日耳曼地區的知識分子大力鼓吹統一運動，但多次受到哪兩國的阻撓而失敗？  
(A)英、奧 (B)英、法 (C)奧、法 (D)美、英。
- D 27. 下列哪一歷史事件，使歐洲的民族主義轉變為更富侵略性的帝國主義？  
(A)發現新航路 (B)法國大革命 (C)美國獨立革命 (D)工業革命。
- B 28. 北美 13 州殖民地拒絕納稅給英國的原因是下列何者？  
(A)殖民地人民沒有人權自由 (B)殖民地人民沒有議員代表在英國議會  
(C)殖民地沒有憲法 (D)法國、西班牙政府的慫恿。
- D 29. 斐迪南大公夫婦被刺，原本只是兩國之間的衝突，後來卻演變為世界大戰，爆發大規模戰爭的主因為何？  
(A)國際聯盟的失敗 (B)國家主權的爭奪 (C)民族自決的浪潮 (D)國際間的結盟對立。
- C 30. 附圖是一幅政治漫畫，描繪第一次世界大戰後，簽訂的《凡爾賽條約》對戰敗國的不公平對待，如同送上斷頭臺。請問：圖中是描述對何國的不公平待遇？



(A)法國 (B)義大利 (C)德國 (D)土耳其。

- C 31. 附圖是老師上課在講解某一場戰爭時提到的重點。請問：老師介紹的戰爭是下列何者？  
(A)德法戰爭 (B)拿破崙戰爭 (C)第一次世界大戰 (D)第二次世界大戰。



- B 32. 第一次世界大戰之後，歐洲出現許多新興國家，如捷克、匈牙利、南斯拉夫等。這些國家得以獨立建國，與巴黎和會建立的哪一原則有關？  
(A)三權分立 (B)民族自決 (C)自由經濟 (D)帝國主義。
- B 33. 馬志尼為了鼓吹義大利統一，曾經組織哪個團體，來喚起義大利人的愛國心？  
(A)保守黨 (B)青年義大利黨 (C)自由黨 (D)義大利共產黨。
- B 34. 歐洲國家於十六至十八世紀紛紛在美洲及亞洲建立殖民地，進行採礦、墾殖等經濟掠奪，並將其文化、宗教強行傳入，為當地人民帶來莫大的災難。請問：這種行為與觀念被稱為何者？  
(A)社會主義 (B)帝國主義 (C)共產主義 (D)人文主義。

【背面尚有試題】

B 35. 凱鈞的歷史報告重點如附圖。根據圖中內容判斷，他報告的主題最可能為何？

(A)開羅會議 (B)巴黎和會 (C)維也納會議 (D)雅爾達會議。

報告重點
■ 中國的五四運動
■ 民族自決的原則
■ 國際聯盟的成立

## 二、配合題：(每題3分，36-45題，共10題，總共30分)

(1)請根據以下列強於十九世紀時侵略的主要目標，填上正確的代號。

A.英國

B.法國

C.日本

D.美國

( B )36.越南。

( A )37.印度。

(2)下列為十七、十八世紀歐美重要法律或宣言的制定背景，請填入與其相對應的法律或宣言名稱代號。

A.《人權宣言》

B.《聯邦憲法》

C.《獨立宣言》

( C )38.北美十三州為脫離英國統治而發表，列舉英王罪狀、殖民地獨立的理論基礎。

( B )39.為現代第一部成文憲法，以行政、立法、司法三權分立為原則。

( A )40.西元1789年國民會議掌握權力後頒布，內容注重人權與法治。

(3)下列為與第一次世界大戰有關的人物，請與其國家做正確的配對。

A.英國

B.法國

C.美國

( B )41.克里蒙梭。

( C )42.威爾遜。

( A )43.勞合喬治。

(4)二十世紀以來，許多國家捲入戰爭，爆發了第一次世界大戰，下列是有關一戰的重要人物或事件，請將其填入相對應的說明之中。

A.無限制潛艇戰略

B.塞拉耶佛事件

C.女性地位提高

D.《凡爾賽條約》

( D )44.要求德國承擔戰爭責任，裁減軍備、負擔巨額賠款。

( A )45.德國為迫使英國投降，採取不分國籍的軍事攻擊行動。

【試題結束】

# 高雄市立大社國中 112 學年度第二學期第一次段考地理科三年級試卷

範圍：第 1 課 ~ 第 2 課

班級： 座號： 姓名：

## 一、單一選擇題：第 1~24 題，共 24 題，每題 3 分，共 72 分

1. (C) 2024 年台灣職業棒球盛事，新球隊「台鋼雄鷹」正式加入戰局！支持台鋼雄鷹的老師解釋說：『台鋼雄鷹以高雄做為主場，為了凸顯在地特色，球團特別把外國球員的中文譯名與高雄地名結合。例如，Bradin Hagens 在樂天桃猿隊時候中文譯名叫「豪勁」，今年轉隊到台鋼雄鷹隊改新名字叫「    」（如圖【一】），這個名字由來與左營一樣……』。根據老師的解釋，Bradin Hagens 新名字的由來與何者有關？ (A) 生產事業 (B) 民間信仰 (C) 軍隊駐紮 (D) 地形地貌。



圖【一】



圖【二】

2. (A) 圖【二】為南投縣鄉鎮市行政區示意圖，圖中標示了兩個鄉的名稱，這兩個地名由來與何者有關？ (A) 政府賦予道德教化 (B) 原住民正名運動 (C) 方便行政作業 (D) 拓墾的原鄉名稱。
3. (B) 台南市的玉井以生產哪一種水果而著名？ (A) 奇異果 (B) 芒果 (C) 水蜜桃 (D) 櫻桃。
4. (B) 台灣地方特色產業中，手工藝品也獨具精美，下列地方與手工藝品的配對何者錯誤？ (A) 南投竹山的竹藝 (B) 苗栗三義的木雕 (C) 新北鶯歌的陶瓷 (D) 高雄美濃的石板。
5. (C) 藉助哪些條件，讓世界各地的農漁產品可以互通有無？ (甲) 各國關稅壁壘 (乙) 全球人口成長 (丙) 保存與加工技術改進 (丁) 交通運輸進步 (A) 甲乙 (B) 乙丙 (C) 丙丁 (D) 甲丁。
6. (C) 各種人類活動所製造出來的碳排放量總和，稱為 (A) 食物里程 (B) 基因改造 (C) 碳足跡 (D) 產銷履歷。
7. (A) 小陳利用內政部「地名資訊服務網」查詢台灣地名中有「    」字的縣市，數量排名如表【一】所列，根據表格資料推測，小陳輸入的字最可能是 (A) 鹽 (B) 茶 (C) 座 (D) 屋。

表【一】

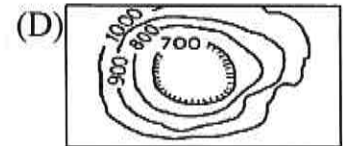
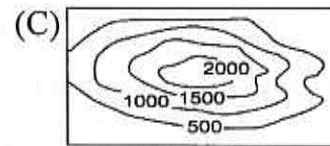
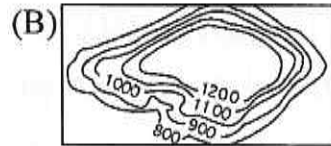
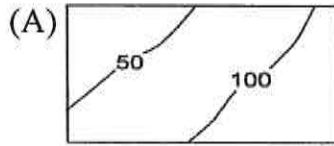
縣市	台南市	屏東縣	高雄市	嘉義縣	苗栗縣、雲林縣、花蓮縣	新北市、新竹市、彰化縣	南投縣	台中市、宜蘭縣
數量	24	13	11	9	5	4	3	1

8. (C) 全台灣最大的產地蔬菜交易市場位在 (A) 台北果菜市場 (B) 大社果菜市場 (C) 西螺果菜市場 (D) 瑞穗果菜市場。
9. (A) 食物從產地到消費地的運送距離，稱為 (A) 食物里程 (B) 基因改造 (C) 碳足跡 (D) 產銷履歷。
10. (D) 有關台灣飲食文化特色的敘述，何者錯誤？ (A) 食物種類多元，運送里程增加 (B) 飲食全球化 (C) 加工與基因改造食物逐漸普及 (D) 原型食物與有機作物是消費最大宗。
11. (A) 有關選擇友善環境食物的描述，何者錯誤？ (A) 基因改造食物證實無害，可多食用 (B) 多食用原型食物與選擇有機農業食物 (C) 增加在地食物的比例 (D) 注重產銷履歷。

12.( B )彰化縣伸港鄉原名新港，改名成伸港的原因？(A)神明指示 (B)避免與其他行政區同名 (C)尊重文化的正名 (D)與其他部落合併而重新取名。

13.( A )台灣地名的命名元素中，依照何者命名的數量最多？(A)地形 (B)氣候 (C)信仰 (D)語言。

14.( D )苗栗縣的大湖以生產草莓聞名，「湖」字所代表的是哪一種地形(單位：公尺)



15.( A )下列台灣地名與命名因素的配對，何者正確？(A)屏東的恆春：氣候 (B)嘉義的竹崎：信仰 (C)新北的三貂角：生產事業 (D)屏東的潮州：語言。

16.( C )澎湖縣的馬公有座天后宮，宮內主要祭祀的神祉為 (A)王母娘娘 (B)觀世音菩薩 (C)媽祖 (D)瑤池金母。

17.( D )在日治現代糖廠設置之前，台灣早期甘蔗製糖都在舊式糖廠，因此舊式糖廠所在地名可能會出現哪一個字？(A)油 (B)鹽 (C)窯 (D)廊。


18.( B )有關高雄的三民鄉(區)更名為那瑪夏鄉(區)的原因，下列敘述何者正確？(A)政府賦予道德教化 (B)原住民正名 (C)方便行政作業 (D)紀念拓墾原鄉的祖先。

19.( D )下列農、漁業生產方法中，對環境比較友善的是 (A)用化學肥料取代有機肥料 (B)擴大生產降低環境負荷 (C)以精緻飼料餵養牲畜 (D)用套袋、生物防治方式減少蟲害。

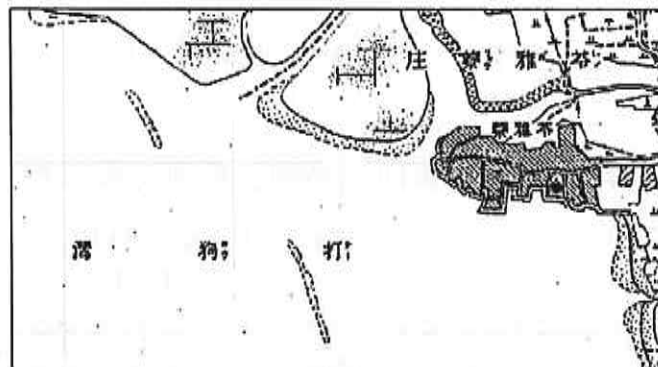
20.( B )下列有關食品「地產地消」的觀念，何者正確？(甲)違反 WTO 理念 (乙)降低碳足跡 (丙)帶動地方產業發展 (丁)回歸自給自足生活 (A)甲乙 (B)乙丙 (C)丙丁 (D)甲丁。

21.( A )圖【三】為鳳山區的區徽，以中國傳說中的神獸鳳凰做為鳳山的意象。鳳山地名由來，普遍說法是：鳳鼻頭附近有一山名曰鳳山，「山勢如飛鳳張翼」。根據這個說法，鳳山命名與下列何者最相關？

(A)地形 (B)植物 (C)氣候 (D)拓墾。



圖【三】



圖【四】

22.( B )圖【四】為日治二萬分之一台灣堡圖(明治版 1895)部分區塊，圖中可以看到「苓雅寮」、「苓雅寮庄」等地名，由苓雅的位置推論，此地名與哪一產業最有關聯？(A)農業 (B)漁業 (C)林業 (D)牧業。

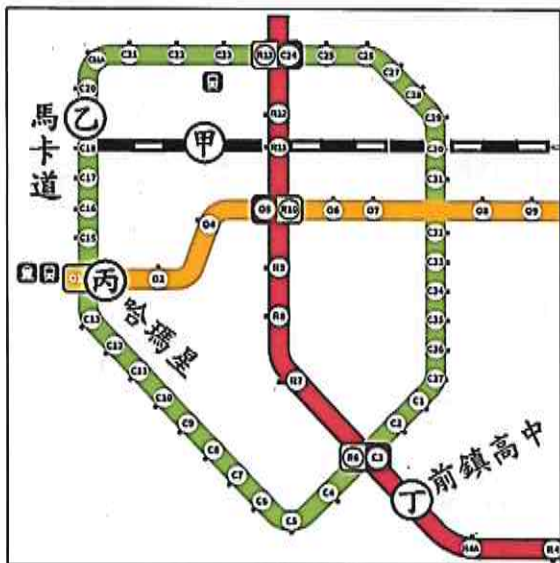
23.( C )台灣現代商業性農業特徵中，下列敘述何者正確？(A)作物多元化 (B)農業自給化 (C)區域專業化 (D)經營粗放化。

24.( B )為了提高市場競爭力，同一地區的農民共同組成產銷班與合作社，這種做法稱為 (A)農業企業化 (B)區域專業化 (C)農作集約化 (D)自給自足化。

## 二、題組：第 25~38 題，共 14 題，每題 2 分，共 28 分

(一)圖【五】為高雄市區大眾運輸(捷運、輕軌、台鐵)路線示意圖，根據圖中資料回答第 25~28 題

2024 年初輕軌成圓，搭配原本已經營運的台鐵地下化區間列車，以及高雄捷運紅橘線，高雄市區的大眾運輸網絡日趨便捷。大眾運輸站名的命名是一大學問，有些是著名景點如捷運橘線衛武營站，捷運紅線美麗島站則有歷史意涵，還有些是機關學校如輕軌樹德家商站。圖【五】所標示的四個車站，則使用在地地名來命名。



圖【五】



圖【六】

- 25.(A)台鐵高雄市區地下化工程完工並通車，圖【六】為甲站的站體照片，由圖中站名判斷，此站周圍最主要是哪一族群的聚落？(A)閩南人 (B)客家人 (C)原住民 (D)新住民。
- 26.(D)乙站，輕軌馬卡道站，下列選項中何者最可能是「馬卡道」地名由來？(A)曾經是高雄賽馬場，由於馬匹數量眾多而卡住通道 (B)當地有條街道開設數十家馬卡龍甜點店，簡稱馬卡道 (C)為了紀念當地最早開發的漢人，名叫馬卡道 (D)原本居住在此的原住民為馬卡道族 (Makatao)。
- 27.(B)丙站，輕軌哈瑪星站，當地濱海鐵路通往商港、漁港和漁市場，日語稱為「濱線」(日語：はません，Hamasen)，以台語稱之為「哈瑪星」(Ha-ma-seng)。下列哪一地名由來與哈瑪星相似？(A)台南市的關廟 (B)新北市的富貴角 (C)嘉義縣的竹崎 (D)南投縣的信義。
- 28.(B)丁站，捷運紅線前鎮高中站，「前鎮」是哪一政權軍隊駐屯而產生的地名？(A)荷蘭 (B)明鄭 (C)清帝國 (D)日本。

(二)根據文章與圖【七】資料回答第 29~30 題

2024 年 3 月媒體報導：蘇丹紅事件讓民眾對辣椒製品產生擔憂，台南市政府農業局推廣具『          』認證的台南新鮮辣椒(圖【七】)，辣椒品質和安全有保障，目前已在鹽水、麻豆、後壁區農會、台南市農會的超市上架販售。



圖【七】

- 29.(D)文中的『          』最可能是 (A)碳足跡標籤 (B)非基因改造 (C)食物里程 (D)產銷履歷。
- 30.(C)政府推動此認證制度的優點，下列敘述何者錯誤？(A)生產者願意生產安全的農產品 (B)消費者可以清楚認識自己所食用的食物 (C)拒絕外國農產品進口 (D)安全度高對消費者比較有保障。

(三)圖【八】為台灣行政區示意圖，根據圖中資料回答第 31~34 題

- 31.( A )利用內政部「地名資訊服務網」查詢台灣地名中有「壠」字的縣市只有三個，數量排名如表【二】所列，排名第一的ㄅ最可能是哪一縣市？(A)甲 (B)乙 (C)丙 (D)丁。

表【二】

縣市	ㄅ	ㄆ	ㄇ
數量	24	14	6

- 32.( C )利用內政部「地名資訊服務網」查詢戊縣市，下列哪一字的地名出現在戊縣市的機率最低？(A)谷 (B)厝 (C)澳 (D)竹。

- 33.( B )彰化縣位置在 (A)己 (B)庚 (C)辛 (D)壬。

- 34.( D )彰化地名由來，為清帝國政府為「顯『彰』皇『化』」政策之意，建縣碑記中更有「保城保民『彰』聖天子丕昌海嶼之『化』」文字。下列哪一地的地名由來與彰化相似？(A)高雄市的苓雅 (B)新北市的中和 (C)彰化縣的伸港 (D)台南市的善化。



圖【八】

(四)根據文章與圖【九】【十】資料回答第 35~38 題

台灣許多地區擁有獨特的環境條件，經居民努力經營之後，形成獨具特色的地方產業。各項特產皆冠以產地的地名，以便與其他同類產品做出區別，地名也因此成為許多台灣地方特產的代名詞。以圖【九】與【十】為例，即為成功的範例。



圖【九】

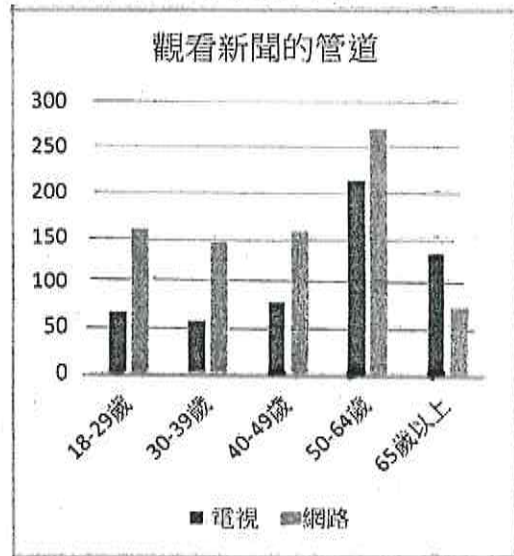


圖【十】

- 35.( A )圖【九】為某一品牌鮮乳，來自台南市的林鳳營，林鳳營地名由來是 (A)鄭氏政權拓墾軍屯 (B)明帝國海盜林鳳根據地 (C)樹林與鳳凰聚集地 (D)適合露營的鳳凰木林。
- 36.( C )承上題，台南市林鳳營牧場與國內大型食品企業簽訂契約，建立鮮乳品牌，擴大產品的知名度。此種做法符合台灣現代商業性農業的哪一項特徵？(A)作物單一化 (B)區域專業化 (C)農業企業化 (D)操作粗放化。
- 37.( B )為了推廣高雄市大社的特產「大社三寶」，政府與民間合作設計出「大社三寶」娃娃，如圖【十】，除了中間的牛奶之外，另外兩寶(特產)是 (A)青蘋果、芭樂 (B)棗子、芭樂 (C)棗子、檳榔 (D)芒果、青椒。
- 38.( D )承上題，政府推動「大社三寶」多年，在民眾心中已建立品牌，獲獎無數，每逢產季銷量與銷售額屢創新高。這種情況也讓一部分大社青年對家鄉產生認同，願意返鄉，從事與三寶相關的產業活動。這種政策稱為 (A)地產地消 (B)產銷履歷 (C)減碳足跡 (D)地方創生。

## 一、選擇：(每題 2 分，共 82 分)

1. (A) 言論自由不等於亂說話，下列哪一個人行為不歸屬於亂說話的內容？(A)平平-在報紙評論時事 (B)安安-在社群網站捏造假訊息 (C)大雄-髒話惡意攻擊同學 (D)小新-故意挑起引起社會恐慌言論。
2. (C) 「帶風向」是社群網路的流行用語。在社群發文的時候，前幾個推文的方向常常會影響到後面推文的整體方向，俗稱「風向」，因為人比較從眾，跟別人類似的意見較容易表達出來，反之則偏向隱藏起來。「帶風向」是形容某些人企圖製造輿論來左右大部分民眾的想法。請問：這種特質和媒體中存在的何種現象有關？(A)媒體報導未必反映事實 (B)媒體內容存在隱藏的歧視 (C)媒體報導有特定立場 (D)媒體內容單一缺乏多元觀點。
3. (C) 某知名小說家過世以後，他的子女為爭搶○○而對簿公堂，小說家在世時談到一半的手遊、電影翻拍作品也都只能暫時擱置，靜待判決結果。文中的○○最有可能為下列何者？(A)商標權 (B)專利權 (C)著作權 (D)人格權。
4. (C) 資訊科技的發展讓我們可以透過網路，快速、大量的獲取資訊與知識，但若任意傳播或複製所取得的資訊與知識，則可能構成侵權問題。上述的「侵權」，應是指侵害何種權利？(A)表達意見權 (B)人身自由權 (C)智慧財產權 (D)生存權與工作權。
5. (D) 政府對智慧財產權的規定，哪兩種是需要註冊和申請的？(A)著作權和專利權 (B)著作權和商標權 (C)個人資料保護法和商標權 (D)商標權和專利權。
6. (B) 仁河到美國留學，雖然和臺灣的親友距離遙遠，卻能夠利用 LINE、Facebook 和臺灣的家人聯絡情感，這是由於下列何者的進步？(A)法律規範 (B)資訊科技 (C)跨國公司 (D)運輸工具。
7. (B) 西元 2010 年後事實查核機制在全球快速崛起，查核對象相當多元，有的以網路傳言、都市傳說為主要題材，有的則以新聞媒體的報導為主要目標，有的計畫瞄準政治人物的言論，如歐洲的計畫多數聚焦於政治人物；除此之外主要是針對新聞媒體。無論哪種類型的查核計畫，其目的都在暴露與更正假訊息，藉以提供民眾一個清淨的資訊生態。請問：為何事實查核機制會快速崛起？(A)希望能建立政府與民間的溝通橋樑 (B)希望為民眾報導事實，提供正確訊息 (C)設定社會議題，引起民眾關注 (D)透過多元管道，形成人民共識。
8. (B) 臺北市一名男子從中國淘寶進口 120 雙 NIKE 鞋意圖販售，抵達海關時當場被扣押，經 NIKE 鑑定後認定均為仿冒品，男被依法起訴。法院審理後依法判處該男子有期徒刑 3 月，可易科罰金。請由上述新聞資料內容推論，法官是依據下列何部法律進行審判？(A)《著作權法》 (B)《商標法》 (C)《專利法》 (D)《憲法》。
9. (C) 自媒體的英文是「We Media」，Media 代表媒體，而「We Media」，簡單來說就是一般普羅大眾皆能透過社群平臺發表親身經歷、所聞所見，每個人都具有媒體的特性。因此，自媒體也造就了網紅、KOL(關鍵意見領袖)的誕生。請問：上述的發展與何種權利有密切關係？(A)平等權 (B)集會結社權 (C)媒體接近使用權 (D)秘密通訊自由權。
10. (D) 新聞報導：「電子書閱讀器市場愈來愈火熱，電子書的硬體發展已有成為主流的趨勢，而儲放在網路免費空間的電子書盜版檔案隨手可得，出版業者擔心會面臨檔案非法分享下載引發的侵權災難。」上述報導中，出版業者所擔心的侵「權」災難，主要是指下列何種權利？(A)參政權 (B)平等權 (C)自由權 (D)智慧財產權。
11. (D) 某學者調查國人獲取新聞的管道，結果顯示如附圖，請根據圖中資訊判斷下列敘述何者正確？(A)電視媒體在所有年齡層的影響皆已式微 (B)電視媒體監督政府的功能不如網路媒體 (C)網路媒體議題設定對 65 歲以上不具影響 (D)網路比電視媒體更會影響民眾促成討論。



12. (A) 媒體被大眾稱為？(A)第四權 (B)第三權 (C)第二權 (D)第五權。
13. (C) 拜科技所賜，資訊取得愈來愈便捷，網路訊息的「複製」與「貼上」輕而易舉，卻也很容易一不小心就觸法。當按下「轉傳」、「分享」鍵時，可能已經侵害原創者何種權利？(A)專利權 (B)商標權 (C)著作權 (D)秘密通訊權。
14. (C) 立法院在民國 84 年修訂的《戶籍法》中規定：「請領國民身分證應捺指紋並錄存，未捺指紋者，不予發給。」然而法律通過後，行政院一直未實際執行。其後大法官作成釋字第 603 號解釋，宣告《戶籍法》強制捺指紋錄存，否則不發給國民身分證的規定違憲。近年內政部規畫推動結合自然人憑證的晶片身分證，但並不強迫民眾將指紋資料存入晶片。指紋資料對個人而言相當重要，原因為何？(A)指紋是個人的私有財產 (B)指紋資料受智慧財產權相關法規保護 (C)指紋屬於重要的個人資料 (D)捺指紋可能對人的身體產生傷害。
15. (C) 尊重智慧財產權才能鼓勵有能力的人從事精神創作，以提升人類經濟、文化、科技的發展。下列有關「智慧財產」的敘述，何者錯誤？(A)智慧財產是指人們透過構思、創作、發明等過程而產生價值的產物 (B)智慧財產權包括專利權、商標權和著作權 (C)《個人資料保護法》乃為保護智慧財產權而制定 (D)為促進資訊共享，我國制定法律限制創作者權利，使他人可在合理範圍內運用其智慧財產。
16. (D) 某新聞報導如附圖。根據新聞內容判斷，法國這項法案最主要的用意為下列何者？(A)維護生命價值 (B)保障宗教自由 (C)保護生態環境 (D)保障著作權。

法國國會批准一項引起世界關注的網路盜版法案，規定切斷非法下載者的網路連線。這項法案以相當嚴格的方式對抗非法下載影片、音樂和電玩遊戲。

17. (C) 臉書(Facebook)是人們常用來分享生活的社群平臺。有一名大學生在其臉書上謾罵同校某一教授，而被法院判處拘役，得易科罰金、緩刑的處分。此案例說明了大眾應重視下列何種議題？ (A)行政管制 (B)經濟制裁 (C)資訊倫理 (D)工作倫理。
18. (B) 附圖為薛老師介紹某議題時，用來輔助說明的資料。根據內容判斷，下列何者最符合他介紹的議題？ (A)科技倫理的建立 (B)資訊科技的應用 (C)媒體識讀的培養 (D)文化創新的分享。

• 利用社群網站結交世界各地的朋友，不僅了解各國文化，也開闊個人的視野。

• 透過網際網路，也可以進行線上學習。

19. (C) 面對資訊科技發達所帶來的負面衝擊，我們應該採用下列何種方法來加以導正？ (A)透過社會公眾力量的制裁 (B)僅靠立法機關制定法規即可有效遏止 (C)重視資訊倫理與加強法律規範 (D)避免資訊科技的快速發展。
20. (A) 「資訊科技」的影響在日常生活中處處可見，為現代人帶來了很大的便利。但是，以下何人的行為無須仰賴「資訊科技」也可完成？ (A)嘉明騎車到外婆家去送晚餐 (B)依珊享用美食前先拍照上傳臉書分享 (C)德威使用手機應用程式點餐外送到府 (D)凱宇查詢 Google 地圖規畫至客戶工廠的行駛路線
21. (B) 靖紋為了完成期末報告，打算上網找一些資料加以運用。以下哪種資料有著作權的歸屬問題，靖紋引用時必須注意以避免造成侵權？ (A)教育部網站上寫明歡迎下載的宣導短片 (B)某位網路紅人在部落格寫下的旅遊分享 (C)唐朝詩人杜甫的詩文作品 (D)十九世紀貝多芬的命運交響曲。
22. (D) 《世界人權宣言》第 19 條：「人人有權享有主張和發表意見的自由；此項權利包括持有主張而不受干涉的自由，和透過任何媒介和不論國界以尋求、接受和傳遞消息及思想的自由。」而我國在西元 1994 年也由大法官會議第 364 號憲法解釋文宣示，人民有「媒體接近使用權」，其意義為係指人民在一定的條件下可以要求媒體提供版面或時段，允許其免費或付費利用，藉以表達意見的權利。依據該項權利的說明，下列何者符合「媒體接近使用權」的概念？ (A)透過某水果日報閱讀此次新冠肺炎各國的疫情狀況 (B)去電影院觀看真人真事改編的第二次世界大戰電影 (C)在社區公

- 園的表演臺上，公開討論總統大選的結果 (D)網紅於 Youtube 頻道發表對於國內政治情勢的評論。
23. (C) 科學技術會為人類社會秩序帶來正面或負面的影響；面對科技發展帶來的負面衝擊時，下列做法何者較無法協助重建新的社會秩序？ (A)自律、自重與守法 (B)重視資訊倫理 (C)刪減科技研發經費 (D)加強立法規範。
24. (D) 瑞典女孩桑伯格在 2019 年榮獲時代雜誌選為全球風雲人物，他所關注的議題為？ (A)童婚議題 (B)家暴議題 (C)飢餓議題 (D)氣候變遷議題。
25. (D) 某媒體常在網站上以虛擬動畫呈現新聞內容，但因表現方式有時過於血腥、暴力，引起輿論譴責。民間團體呼籲該媒體應顧及報導對社會可能產生的負面影響，勿以商業利益為優先考量。民間團體的訴求內容，主要凸顯出下列何項議題的重要性？ (A)資訊科技的多元發展 (B)社會團體的監督力量 (C)新聞報導的自由程度 (D)傳播媒體的社會責任。
26. (B) 我國制定《個人資料保護法》規範個人資料之蒐集、處理及利用，以避免人格權受侵害，並促進個人資料之合理利用。下列何種資訊不屬於《個人資料保護法》的保障範圍？ (A)婚姻狀態 (B)散文作品 (C)病歷資料 (D)身分證號碼。
27. (A) 近日媒體播報蘇丹紅的工業染料流入國內多家的食品廠商做為食品原料，包含八方雲集及多家沙茶醬製造商，每天都緊盯政府追查進度及原料流向，此類報導屬於？ (A)提供訊息 (B)設定議題 (C)促成討論 (D)形成共識。
28. (B) 每當風災期間，部分災區居民將受災狀況與景象，透過社群網站或即時通訊軟體傳播，讓其他閱聽人得以了解實際情形。下列何者最能說明此種社會現象？ (A)網路發達提升閱聽人媒體識讀能力 (B)網路發達改變民眾公共參與的模式 (C)網路發達擴大了城鄉間的資訊差距 (D)網路發達使閱聽人受限成為訊息接收者。
29. (A) 附圖為緣婷最近瀏覽的一篇網路文章，下列何者最可能是該文章的主題？ (A)科技發展的隱憂 (B)智慧財產的保護 (C)少年犯罪的處理 (D)資訊倫理的應用。

有人戲稱手機是「新一代香菸」，許多人手機收訊不良就坐立不安，走在路上、過馬路、開車也不忘手機。有心理學家認為，過度使用手機也算一種強迫症行為，是二十一世紀非藥物成癮問題中，最大的問題之一。

30. (C) 在「2020 潔能科技創意實作競賽」獲得金牌的作品，學生突破傳統太陽能熱水器只能安裝在透天建築的限制，讓其修正後可運用在集合式住宅中，利用太陽熱能加熱，增加綠色能源的使用率，非常環保。評審認為這套系統轉化成實際商品的潛力高，建議獲獎學生在與廠商接洽時，可透過法律保障自己的相關權益。有關評審建議的內容，哪一項敘述較為恰當？ (A)此項權益應是用來區分自己與他人的商標權 (B)該項權益不需申請取得，在

創作完成即享有 (C)此項權益的法律在保護發明以促進產業發展 (D)該項權益避免影響公益，呈現資訊共享。

31. (B) 恰爾斯某次幫丈母娘修手機時，發現裡面除了很多早安圖外，還有不少 (甲)似是而非的消息，譬如說吃某食物會致癌，但另一篇又說吃同樣的東西會抗癌。他深怕丈母娘被騙，便做了一個「丈母娘筆記」，後來想想可能也有很多長輩遇到同樣的狀況，便成立了「MyGoPen」網站。該網站 (乙)查證所有訊息，像是找專家、學者、政府單位協助幫忙關謠，並 (丙)採 1 對 1 人真人回覆，不用聊天機器人，雖然不夠即時，但他們 (丁)直接協助長輩解決問題，也讓長輩把他們當成朋友，每個月網站流量突破 200 萬次以上。根據上述畫線部分，下列敘述何者較適切？ (A)甲呈現交易層面的風險 (B)乙方式可避免錯誤訊息以訛傳訛 (C)丙方式提高生產效率與競爭 (D)丁做法可能會導致許多職業被取代。

32. (D) 為了暑假的「經典閱讀」作業，小芳在購物網站上搜尋相關書籍，發現許多經典作品都有各種版本，下列何者最可能用來說明此現象？ (A)已超過專利權的保障期限，因此各出版社都有出版的權利 (B)書籍為重要文化產物，因此經典作品無法擁有著作財產權 (C)外國原作無法取得我國智慧財產權上的保障 (D)已超過著作財產權的保障年限，出版不再受限制。

33. (D) 《全球行動性消費者調查》報告指出，近九成成年人擁有智慧型手機。智慧型手機不只帶動本身產值，在支援設備上也不斷增加，不僅可記錄運動軌跡，又能掌握個人健康狀況，但消費者在共享雲端數據上，隱私方面負面報導卻層出不窮，導因於近八成的成年消費者很少閱讀應用程式或設備的審查條款和條件。下列何者較可能是針對此份報告的回應？

(A)

學者甲：建議民眾對手機接收到的資訊小心查證。

(B)

學者乙：未來更需關注科技產品對人類的正面影響。

(C)

學者丙：科技發展導致許多產業出現失業危機。

(D)

學者丁：使用科技應更重視相關資安問題。

34. (A) NCC 是哪一個政府組織？ (A)國家通訊傳播委員會 (B)廣播電視基金會 (C)消費者文教基金會 (D)社群網站管理委員會。

35. (B) 新聞報導：「陳姓和莊姓男子設立影視追劇網站，利用境外主機架設免費提供各國影視頻道，供不特定民眾觀賞，並利用網路廣告點擊率來賺取利益。我國電信偵查大隊和美國電影協會跨境合作並依法蒐證，包括日本和多家國內媒體都委任律師對這兩位男子提告。」上述兩位男子被提告的理由，最有可能是下列何者？ (A)未能移除著作者姓名再上傳 (B)未經授權，侵害著作權 (C)須聲明合理使用的範圍 (D)兼顧私益與公益的平衡。

36. (B) 科技發展帶來便利生活，人人都可隨時上網或與人聯絡。資訊科技發達有哪些好處？ (甲)促進社會發展，縮短人與人之間的距離 (乙)使人排擠異文化，促進文化更趨一元性 (丙)讓駭客更容易透過社群網站取得客戶的個人資料 (丁)增廣知識見聞，提升學習效果 (A)甲丙 (B)甲丁 (C)乙丙 (D)乙丁。

37. (D) 「專利蟑螂」指稱專門靠著收購各項專利，以控告大公司侵權而獲利的公司；藉由提起訴訟逼迫對方付出一定金額的專利授權費用，或是利用訴訟讓對方必須負起法律責任，獲得賠償。根據上文，下列推論何者最為適切？ (A)專利授權費用是大公司的主要收入來源 (B)智慧財產權的保障抑制了公司投入研發的意願 (C)專利蟑螂的出現能避免知識流通的阻礙 (D)智慧財產權的保護和共享不是容易的任務。

38. (B) 政府規定著作權的保障，是著作權人死後？ (A)60 年 (B)50 年 (C)40 年 (D)30 年為有效期限。

39. (D) 有漫畫家授權網友以「標示姓名—非商業性—禁止改作」原則使用他的人物創作，讓該人物成為廣受歡迎的大頭貼，甚至成為許多產品的代言人。從上述兩個實例可看出哪一項「創用 CC」的精神？ (A)創作者加強法律保障經濟與名譽的利益 (B)創作者全面無償授權從事社會知識流通 (C)藉由法律來維護創作者的市場公平競爭 (D)促使著作成果流通上可兼顧私益與公益。

40. (C) 智慧財產權因為其價值不在實體本身，甚至根本沒有實體呈現，因此又被稱為「無體財產權」。以下何者是所有權人無須申請即直接受法律保障的智慧財產？ (A)某公司獨創製作高度強化玻璃的特殊技術 (B)某知名運動品牌在球鞋表面縫製的特殊標誌 (C)某人氣網路作家在網路上連載的奇幻小說 (D)某老牌牛肉麵店製作牛肉麵的特殊料理方式。

41. (C) 我國《著作權法》規定，即便未經授權，也可合理引用他人之著作。以下何種做法不屬於「合理使用」的範圍？ (A)國文老師 (B)歷史老師 (C)網路名人 (D)研究生。

# 高雄市大社國中 112 學年度第二學期國三第一次段考自然科題目卷

選擇題：(每題 2.5 分，請將答案用 2B 鉛筆塗在答案卡上)

- (C) 一電子鍋標示電功率為 1000W，下列關於「1000W」的敘述何者正確？ (A)使用此電子鍋 1 次需消耗 1000 焦耳的電能 (B)使用時每秒有 1000 個電子通過 (C)使用時電子鍋每秒會消耗 1000 焦耳的電能 (D)使用時電源提供每庫侖電量 1000 焦耳的電能。
- (D) 有關電能的敘述何者正確？ (A)電能的單位為伏特 (B)電能無法轉換成其他能量 (C)電池是唯一能提供電能的裝置 (D)在相同電流及時間下，通過電阻較大的導體消耗的電能較多。
- (A) 發電廠為減少電能損耗，通常採用下列何種方式輸送電力至用戶端？ (A)高電壓、低電流 (B)低電壓、高電流 (C)高電壓、高電流 (D)低電壓、低電流。
- (C) 下列有關電池的敘述何者正確？ (A)碳鋅電池內不含任何水分 (B)鹼性電池以強鹼為電解液，使用壽命較碳鋅電池短 (C)常見的二次電池包含鋰離子電池及鎳氫電池等 (D)鉛蓄電池無法長期使用，屬於一次電池。
- (D) 室內擺放大量電池，冒出硫酸蒸氣，使長期在此環境工作的人員，易罹患職業病。則此電池應為下列何者？ (A)鋰電池 (B)鎳氫電池 (C)碳鋅電池 (D)鉛蓄電池
- (B) 有關保險絲的熔點高低與使用方式，下列敘述何者正確？ (A)高熔點，且應與被保護的電器串聯 (B)低熔點，且應與被保護的電器串聯 (C)高熔點，且應與被保護的電器並聯 (D)低熔點，且應與被保護的電器並聯。
- (C) 有關交流電與直流電的比較，何者正確？ (A)交流電的電流大小與方向恆定，故適用於家用電器 (B)發電廠所輸送的電流為直流電，所以一般電器可以直接使用 (C)直流電的簡記為 DC；交流電的簡記為 AC (D)家庭插座所提供的電流是直流電。
- (A) 附表為甲、乙兩款省電燈泡所使用的電壓及其電功率。若兩燈泡正常使用 100 小時，甲消耗的電能為  $X_{\text{甲}}$  度；乙消耗的電能為  $X_{\text{乙}}$  度，則下列關係式何者正確？

燈泡款式	甲	乙
電壓 (V)	110	220
電功率 (W)	23	23

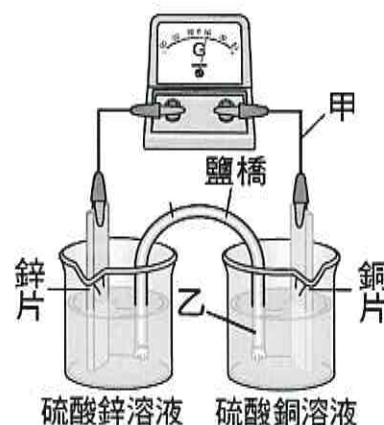
(A)  $X_{\text{甲}} = X_{\text{乙}}$  (B)  $X_{\text{甲}} = 2X_{\text{乙}}$  (C)  $X_{\text{甲}} = 4X_{\text{乙}}$  (D)  $2X_{\text{甲}} = X_{\text{乙}}$

- (C) 電力公司會在家庭或工廠用戶端裝設瓦時計(電表)，它是用來記錄何種物理量的儀器？ (A)電壓 (B)電流 (C)電能 (D)電功率。
- (B) 小華新添購一臺電磁爐，附圖為電磁爐的電器規格，請問下列敘述何者錯誤？

型號	SCE-M9130
電壓	AC 110V 60Hz
消耗電功率	1100W
能源效率	83%
檢內登字	第446033號
製造號碼	106年製J0000496
	檢磁4891A004
	臺灣製造

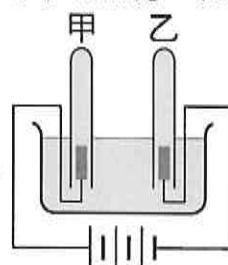
(A)此電磁爐應使用 110 伏特的電源 (B)此電磁爐應使用直流電為電源 (C)使用此電磁爐，每秒會消耗 1100 焦耳的電能 (D)若小華用電磁爐煮湯 60 分鐘，此電磁爐將消耗 1.1 度的電能。

- (B) 附圖為鋅銅電池的裝置圖，當檢流計明顯偏轉時，關於粒子在圖中甲和乙所指之處的主要流動方向，下列敘述何者正確？

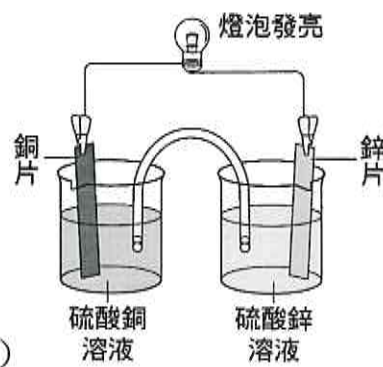


(A)甲：正離子向下流動；乙：電子向上流動 (B)甲：電子向下流動；乙：正離子向下流動 (C)甲：負離子向下流動；乙：電子向上流動 (D)甲：負離子向下流動；乙：電子向上流動

- (B) 如附圖，「電解水」的實驗中，下列敘述何者錯誤？ (A)加入一些 NaOH 顆粒，可幫助導電 (B)甲試管內所收集到的氣體較乙試管多 (C)甲試管收集到的氣體，可幫助燃燒 (D)可以用迴紋針來當電極棒材料。



13. (B) 下列敘述中以底線標記的導體，何者不是藉由離子的移動而導電？ (A) 伏打電池中含食鹽水的溼抹布 (B) 連接電源與電器之間的金屬導線 (C) 鋅銅電池中連接燒杯的鹽橋水溶液 (D) 碳鋅電池內部兩電極間的糊狀電解質。
14. (D) 下列四種裝置的示意圖，判斷哪一個裝置的能量變化主要為電能轉換成化學能？



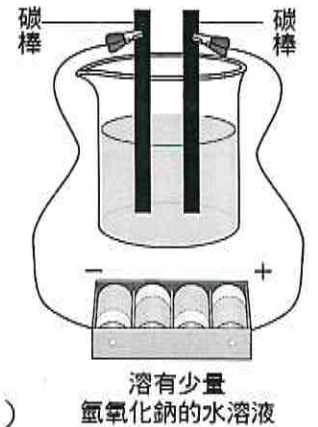
(A) 硫酸銅溶液 硫酸鋅溶液



(B) 熱熔膠槍



(C) 燈泡發亮




(D) 溶有少量氫氧化鈉的水溶液

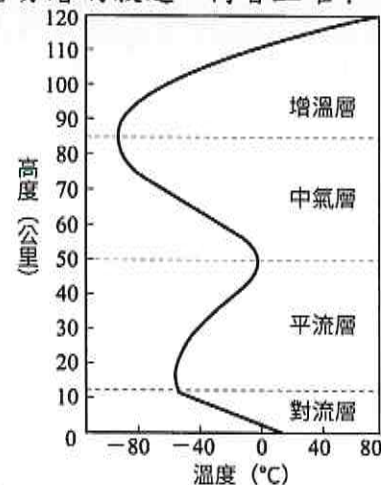
15. (A) 氣候諺語是古人觀察天氣所得到的概論，請判斷諺語「西北雨（午後雷陣雨），落不過田埂」是屬於哪一種降雨類型呢？ (A) 對流雨 (B) 地形雨 (C) 鋒面雨 (D) 颱風雨
16. (B) 下列哪一項不是關於「天氣」的敘述？ (A) 屏東今日出現 33°C 的高溫 (B) 台灣西南部冬季常乾旱 (C) 大社昨天午後出現雷陣雨 (D) 楠梓明天多雲時晴
17. (D) 有關影響臺灣天氣的兩大氣團性質描述，下列何者正確？ (A) 大陸氣團冷而溼 (B) 海洋氣團暖而乾 (C) 海洋氣團冷而溼 (D) 大陸氣團冷而乾。
18. (A) 附圖中箭頭表氣流流向，影響台灣的焚風是在哪一山坡的坡面產生？ (A) 甲 (B) 乙 (C) 與山坡無關 (D) 甲乙皆會。



19. (D) 北半球地面高、低氣壓空氣的流動情形如附圖，以下敘述何者正確？ (A) 甲為高氣壓中心，乙為低氣壓中心 (B) 空氣大致是由甲流向乙 (C) 甲處有向下流動的氣流 (D) 乙處的天氣大致是晴朗




20. (A) 附圖為大氣垂直分層的温度變化，下列有關各分層的敘述，何者正確？

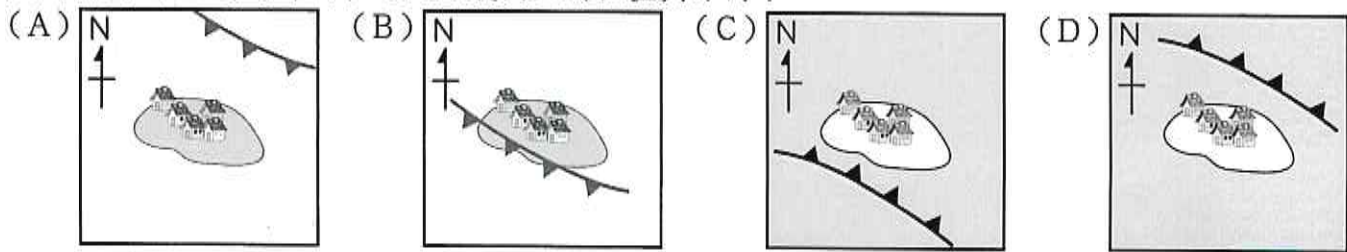


- (A) 對流層的温度隨著高度升高而降低 (B) 平流層的温度隨著高度升高而升高，是因臭氧濃度隨高度增加而增加 (C) 中氣層較對流層厚，故其大氣質量應較對流層多 (D) 增溫層只至離地 120 公里處，過了此高度後即為真空狀態。
21. (D) 極光被視為自然界中最漂亮的奇觀之一，而形成極光必不可少的條件是大氣、磁場和太陽風，具備這三個條件的太陽系其他行星，如土星和木星，也會產生極光，試問極光較容易發生在地球大氣中哪一層？ (A) 對流層 (B) 平流層 (C) 中氣層 (D) 增溫層
22. (C) 空氣的流動會造成風，其流動的方式為何？ (A) 由氣溫高之處流向氣溫低之處 (B) 由水氣多之處流向水氣少之處 (C) 由氣壓高之處流向氣壓低之處 (D) 由密度小之處流向密度大之處
23. (C) 關於鋒面的觀念，何者錯誤？ (A) 鋒面為兩個不同性質氣團的交界處 (B) 冷鋒為冷空氣切入暖空氣下方，使暖空氣抬升產生雲雨帶 (C) 暖鋒為暖空氣切入冷空氣下方，使冷空氣抬升而產生雲雨 (D) 鋒面來襲會使天氣狀況較不穩定
24. (D) 地球的大氣組成中，何種氣體的含量會隨時間和地點而有較大變動？ (A) 氮氣 (B) 氧氣 (C) 氫氣 (D) 水氣。
25. (A) 臺灣冬天盛行的東北季風，會為下列何處帶來較多的雨水？ (A) 基隆 (B) 臺中 (C) 高雄 (D) 屏東
26. (C) 夏天時臺灣西部吹西南風，主要是因為： (A) 太平洋海洋氣團的影響 (B) 蒙古大陸氣團的影響 (C) 大陸地區形成低氣壓所造成 (D) 大陸形成高氣壓所造成

27. (D) 梅雨和颱風是臺灣地區雨量的主要來源，但也常帶來災害，下列有關梅雨和颱風之敘述哪一項正確？  
 (A)梅雨季節常有冷鋒在臺灣附近徘徊，帶來豐沛雨量 (B)梅雨是因蒙古大陸冷氣團極盛，形成鋒面所致 (C)颱風往高緯度地區，其威力會不斷增強 (D)侵襲臺灣的颱風，大多發源於北太平洋西南海域，少數則來自南海
28. (A) 若地球表面沒有大氣的存在，則地球將會發生什麼改變？ (A)沒有天氣變化 (B)沒有晝夜變化 (C)可看到更多美麗的流星 (D)太陽紫外線無法入射至地表
29. (D) 下列關於臺灣常見的災變天氣敘述，何者正確？ (A)強烈太平洋冷氣團南下，使臺灣出現寒流 (B)5~6月蒙古大陸暖氣團籠罩臺灣，使臺灣進入梅雨季 (C)臺灣的年平均降雨量比世界平均值高，所以不容易發生乾旱 (D)颱風主要發生在7~9月，常帶來強風、豪雨等災害。
30. (B) 臺灣的乾旱通常是在什麼情況下，會需要先提出預警？ (A)今年的梅雨來得太早 (B)今年的颱風帶來雨水偏少時 (C)今年寒流來的溫度偏低時 (D)連續五年沒有乾旱時。
31. (D) 地面天氣圖上，甲、乙、丙三地附近的等壓線如附圖，已知每條等壓線間相差400帕，則三地風速的大小為：(A)甲>乙>丙 (B)甲>丙>乙 (C)乙>丙>甲 (D)丙>乙>甲

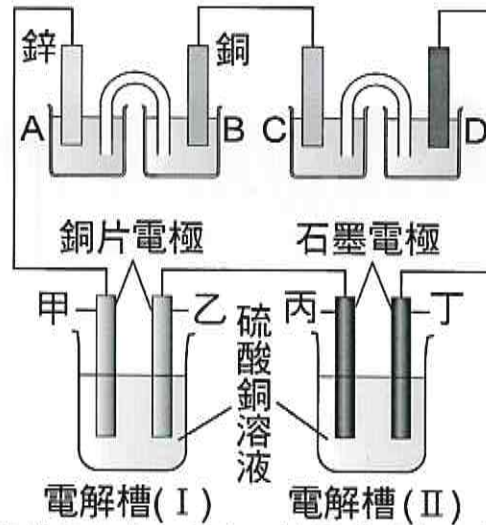


32. (B) 某座島的東北方有一個冷氣團，西南方有一個暖氣團。若冷氣團勢力比暖氣團強而形成鋒面，使島上降雨且變冷，則下列何者最能表示此時該鋒面在地面天氣圖上的位置與方向？



題組：

- 甲、如圖為不同電極電解硫酸銅水溶液的實驗裝置：電解槽(I)以銅片當電極電解硫酸銅水溶液；電解槽(II)則是以碳棒當電極電解硫酸銅水溶液的實驗裝置，請回答下列問題：



33. (B) 為了增加電解時的電壓，實驗裝置連接兩組伏打電池，請問 C 電極和 D 電極各要用何種金屬才可達成目的？(金屬活性：鋅 > 銅 > 銀)

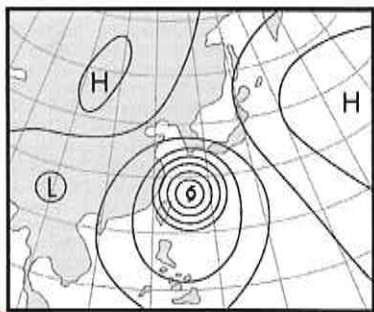
選項	C 電極	D 電極
(A)	銀	鋅
(B)	鋅	銀
(C)	銅	鋅
(D)	鋅	鋅

34. (A) 有關電解槽(I)中的反應，下列敘述何者正確？ (A)硫酸銅水溶液中有  $Cu^{2+}$  和  $SO_4^{2-}$  (B)通電後， $Cu^{2+}$  會移到乙電極獲得電子 (C)正電荷自電源流向甲電極 (D)甲電極附近有氣體產生。
35. (C) 關於鋅銅電池鹽橋的敘述，下列何者正確？ (A)鹽橋內應使用酒精 (B)鹽橋有連接電路的功能，可用導線替換 (C)鹽橋內是以離子移動的方式形成通路 (D)若將鹽橋自溶液中取出後，電解反應只能再持續一下就停止。
36. (C) 在電解槽(II)的丙電極產生何種物質？ (A)  $O_2$  (B)  $H_2$  (C) Cu (D)  $H_2O$ 。
37. (B) 有關「甲乙丙丁 ABCD」八個電極，質量減少的有哪幾個？ (A)A、C、乙、丁電極 (B)A、C、乙電極 (C)只有乙電極 (D)甲、丙電極。
38. (A) 有關兩電解槽水溶液的顏色變化，下列敘述何者正確？ (A)電解槽(I)水溶液藍色不變 (B)電解槽(II)水溶液藍色不變 (C)電解槽(I)水溶液藍色變淡 (D)電解槽(II)水溶液藍色變深。

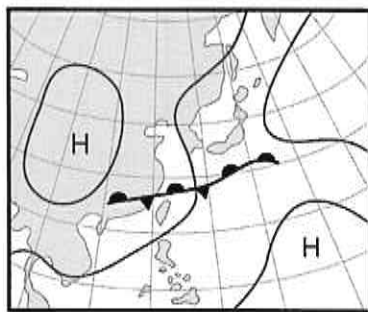
~背面還有試題~

乙、琳琳今年參加科展比賽，研究主題為臺灣一年的氣候與四季主要的天氣現象。她由中央氣象署收集了一整年的地面天氣圖，整理、分析之後，發現影響臺灣的天氣狀況，大致可用以下四張天氣簡圖呈現，請依照圖形與提示回答下列問題。

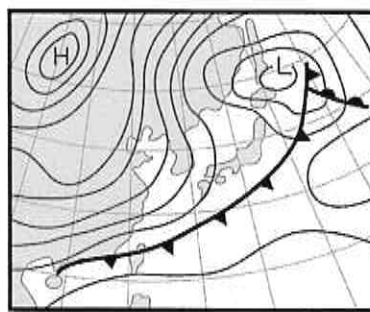
(甲)



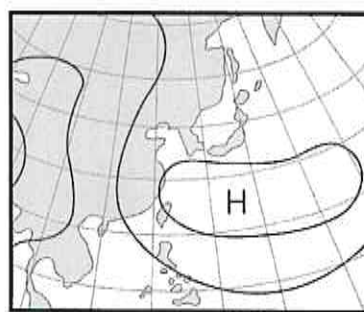
(乙)



(丙)



(丁)



39. (B) 若臺灣此時的地面天氣如「丙圖」所示，可能出現下列哪種天氣狀況？ (A)盛行東北季風，為臺灣中南部引進西南氣流 (B)冷鋒過境，全臺氣溫驟降 (C)鋒面滯留臺灣上空，帶來綿綿細雨 (D)高壓籠罩，全臺晴朗高溫。
40. (A) 在臺灣一年中每月的降水量並不平均，各地也有些許的差異，但最主要的降水來源仍有兩項因素，可用上述哪兩張簡圖表示？ (A)甲乙 (B)乙丙 (C)丙丁 (D)甲丙