

高雄市立大社國中 109 學年度第 1 學期第一次段考國文科三年級試卷

命題者：許淑玲 範圍：第五冊第 1 課~第五冊第 4 課

班級：_____ 座號：_____ 姓名：_____

一、單選題：30 題，每題 2 分，共 60 分

- (D) 1. 下列「」中的字，何者讀音正確？
 (A)人造「纖」維：く一弓 (B)「剔」除惡習：去一、 (C)「蝨」斯衍慶：クメム (D)暮「靄」沉沉：勇
- (B) 2. 下列詞語「」中的字，何者意思前後不相同？
 (A)「挑」筋剔骨／從中「挑」選 (B)個性內「斂」／大肆「斂」財 (C)追「捕」嫌犯／全面緝「捕」 (D)「通」體舒暢／「通」盤考量
- (A) 3. 下列成語何者用字正確，完全沒有錯別字？
 (A)撒手人寰 (B)風燭慘年 (C)桑榆晚景 (D)緬顏借命
- (B) 4. 下列「」內字詞的讀音，何者前後相同？
 (A)粗「獷」／「曠」達 (B)巧「腕」／「惋」惜 (C)玉「胚」／一「抔」土 (D)反「哺」／胸「脯」
- (A) 5. 「一萬匹飄著白鬣的藍馬／呼嘯著，疾奔過我的腳下／這匹銜著那匹的尾巴／直奔向冥冥，寞寞的天涯」(余光中)這首詩吟詠的對象是什麼？
 (A)海浪 (B)白雲 (C)爆竹 (D)風鈴
- (C) 6. 「林義傑在橫越亞馬遜河叢林時，小腿被芒草重複割傷而傷口發炎，擔心受感染而無法完成挑戰，只好鼓起勇氣，拿起隨身的刀子，將腐肉割除，再塗上隨身藥物後，繼續長征之途。」請問下列何者與林義傑的行為最不相近？
 (A)頑強的毅力可以征服世界上任何一座高峰
 (B)成大事不在於力量的大小，在於能堅持多久
 (C)要克服生活的沮喪和焦慮，得先學會做自己的主人
 (D)要取得成功，首先必須讓自己不被暫時的挫折任意擊垮
- (C) 7. 余光中曾在演講中，談到年輕人愛用 3C 產品電打輸入文字，越來越少手寫，「千篇一律的電腦字，少了美感」，他鼓勵年輕學子重新把筆拿起來，「寫字就是簡單的創作」。這段話中顯示出余光中對年輕學子有何期許？
 (A)成為作家 (B)培養美感 (C)多親手書寫 (D)不使用電腦
- (B) 8. 在西江月一詞中，「驚鵲」、「蟬鳴」、「蛙聲」烘托出周遭環境的寧靜，下列何者也具有這種效果？
 (A)落日照大旗，馬鳴風蕭蕭 (B)蟬噪林逾靜，鳥鳴山更幽 (C)獨坐幽篁裡，彈琴復長嘯 (D)玉階生白露，夜久侵羅襪
- (A) 9. 下列「」的數目詞，何者形容很多？
 (A)聽取蛙聲「一片」 (B)「七八」個星天外 (C)「兩三」點雨山前 (D)「三五」之夜
- (A) 10. 下列選項「」中的讀音，何者有誤？
 (A)「靖」康之難——く一弓、 (B)「濟」南——く一弓 (C)雨疏風「驟」——アヌ、 (D)「綺」窗——く一弓
- (C) 11. 下列何種景象和「綠肥紅瘦」相近？
 (A)花木扶疏 (B)葉茂花繁 (C)葉茂花稀 (D)葉疏花繁
- (D) 12. 「七八個星天外，兩三點雨山前。」這是什麼景象？
 (A)月明星稀 (B)繁星疏雨 (C)月暗星明 (D)稀星細雨
- (C) 13. 有關「詞」的敘述，何者正確？
 (A)從宋代興起，唐朝時還沒有這類作品出現
 (B)又稱「長短句」，是因為句數可依作者創作需求，隨意增減，而形成長短不同現象 (C)以字數多寡來分，詞可分為小令、中調、長調 (D)每闕詞都有固定格式，講求平仄押韻，且須一韻到底
- (B) 14. 「舊時茆店社林邊，路轉溪橋忽見」，句中「忽見」表現作者驚喜之情。下列何者亦流露出此心境？
 (A)千里鶯啼綠映紅，水村山郭酒旗風 (杜牧)
 (B)劍外忽傳收薊北，初聞涕淚滿衣裳 (杜甫)
 (C)春風又綠江南岸，明月何時照我還 (王安石)
 (D)不識廬山真面目，只緣身在此山中 (蘇軾)
- (D) 15. 在詩詞中，運用「有答有問」，可增添詩境生動性。下列各詩詞中，何者不符合此特色？
 (A)試問捲簾人，卻道海棠依舊。知否？知否？應是綠肥紅瘦 (B)松下問童子，言師採藥去。只在此山中，雲深不知處 (C)扣門無犬吠，欲去問西家。報道山中去，歸時每日斜 (D)少小離家老大回，鄉音無改鬢毛催。兒童相見不相識，笑問客從何處來
- (C) 16. 下列「」中字的詞性，何組前後不相同？
 (A)兩「疏」風「驟」 (B)綠「肥」紅「瘦」 (C)「聽」「取」蛙聲一片 (D)「七」「八」個星天外
- (C) 17. 麥斯威爾咖啡的廣告中提到：「好東西要與好朋友分享。」這句話的意思和下列哪一個選項最接近？
 (A)朋友像陳年老酒，越陳越香 (B)我不認識你，但是我謝謝你 (C)與你分享的快樂，勝過獨自擁有 (D)關心自己也關心別人
- (A) 18. 「如果她像我當初一般哭泣，希望換我對她說：『我替你報仇！』」一句，作者簡媜的想法不宜用下列何種詞語作比喻？
 (A)以禮相待 (B)設身處地 (C)將心比心 (D)推己及人
- (C) 19. 子瑜看完了尋找薄荷的小孩一課後大受感動，在報告中以流暢的文筆敘寫心得，但是有一個成語她似乎弄錯了，請問她在描寫作者和文中那位女孩的感情時，錯用了哪一則成語？
 (A)心腹之交 (B)莫逆之交 (C)忘年之交 (D)金石之交
- (A) 20. 「鞦韆」二字為雙聲關係的聯綿詞，試問下列選項中何者全為此類？
 (A)榴槤／倜儻 (B)徘徊／螳螂 (C)囫圇／葡萄 (D)淘汰／嬉戲
- (D) 21. 讀完尋找薄荷的小孩一文後，博學的蓋蓋幫文中兩人的情誼下了一個註解：「簡媜與友人的情誼就如同古代的□□、□□一般堅定。」請問空格中宜填入下列何者？
 (A)管仲、伯牙 (B)管寧、華歆 (C)牛郎、織女 (D)廉頗、相如
- (A) 22. 古龍說：「友情是□□的，愛情卻是□□的。友情必然要經得起時間的考驗，愛情卻往往在一瞬間發生。」請問依照文意推斷，空格中依序應填入那個詞語？
 (A)累積／突然 (B)真實／夢幻 (C)辛苦／輕

- 易 (D)別人/自己
- (D) 23. (甲)手足之情(乙)同窗契友(丙)姊妹情深(丁)魚水相逢。以上成語，哪些可用來形容尋找薄荷的小孩文中的作者與小女孩兩人的交情？
(A)甲丁 (B)甲丙 (C)乙丁 (D)乙丙
- (C) 24. 以下各句皆出自與宋元思書，其中何者所運用的感官描寫，與其他三者不同？
(A)橫柯上蔽，在晝猶昏 (B)急湍甚箭，猛浪若奔 (C)好鳥相鳴，嚶嚶成韻 (D)疏條交映，有時見日
- (B) 25. 與宋元思書一文中描繪山、水、樹的順序為何？
(A)先山後水、樹 (B)先水後山、樹 (C)先樹後山、水 (D)山、水、樹，同時描繪
- (C) 26. 下列各詞均出自與宋元思書一文，何者不是用來形容流水？
(A)千丈見底 (B)急湍甚箭 (C)互相軒邈 (D)泠泠作響
- (A or G) 27. 下列文句，何者兼具有視覺跟聽覺的效果？
(A)泉水激石，泠泠作響；好鳥相鳴，嚶嚶成韻
(B)甜甜的香蕉甜甜的雨，肥肥的香蕉肥肥的田
(C)白頭翁、小麻雀啾啾地喚醒了昨天黃昏喝醉酒的太陽 (D)一陣大雨過了，那黑雲邊上鑲著白雲，漸漸散去，透出一派日光來
- (C) 28. 下列「 」中的字，何組讀音相同？
(A)千「轉」不窮／繞著你們「轉」呀轉 (B)經「綸」／「綸」巾 (C)風煙「俱」淨／「具」雞黍 (D)汗「喘」／急「湍」甚箭
- (B) 29. 「嚶嚶」之於「聞關」，猶如「風煙俱淨」之於下列何者？
(A)狂風暴雨 (B)晴空萬里 (C)烏雲密布 (D)波濤洶湧
- (C) 30. 對於「駢文」的介紹，下列何者錯誤？
(A)「駢」有並列之意，故句式整齊 (B)講究平仄，且多用典故 (C)詞藻清新，不屬於韻文 (D)多四字和六字句，又稱「四六文」

二、題組：20 題，每題 2 分，共 40 分

1. 母難日·今生今世 余光中

今生今世
我最忘情的哭聲有兩次
一次，在我生命的開始
一次，在你生命的告終
第一次，我不會記得，是聽你說的
第二次，你不會曉得，我說也沒用
但兩次哭聲的中間啊
有無窮無盡的笑聲
一遍一遍又一遍
迴盪了整整三十年
你都曉得，我都記得

- (B) 31. 本詩中「無窮無盡的笑聲」象徵著什麼？
(A)作者養育孩子的辛苦與甜蜜 (B)母子之間相處的溫馨與歡樂 (C)作者對過去母親笑聲的想念 (D)作者與兄弟姊妹相處的趣事
- (D) 32. 下列哪一個成語，可用以形容詩中所寫「生命的告終」？ (A)日薄西山 (B)桑榆晚景 (C)風燭殘年 (D)撒手人寰
- (C) 33. 根據詩意，余光中一生中最忘情的兩次哭聲是在什麼時候？ (A)父親過世及母親過世時 (B)

自己出生及父親過世時 (C)自己出生及母親過世時

(D)孫女出生及母親過世時

- (D) 34. 老師請同學分析這首詩，請問：下列何人的分析正確？ (A)安安：作者感謝妻子生下女兒 (B)琪琪：詩中的「你」是指人生 (C)莎莎：母親帶給作者很多災難 (D)俐俐：運用了對比的技巧寫詩

2. 如夢令 李清照

誰伴明月獨坐？我共影兒兩箇。燈盡欲眠時，影也把人拋躲。無那，無那，好個悽惶的我。

- (A) 35. 依字數分，本首詞應屬詞中哪一類？ (A)小令 (B)中調 (C)長調 (D)絕句
- (B) 36. 此首詞中，共有幾人？ (A)兩人 (B)一人 (C)無人 (D)三人
- (D) 37. 此首詞傳達意境如何？ (A)熱鬧 (B)歡愉 (C)恬淡 (D)淒涼

3. 蘇幕遮 范仲淹

碧雲天，黃葉地。秋色連波，波上寒煙翠。山映斜陽天接水，芳草無情，更在斜陽外。黯鄉魂，追旅思，夜夜除非，好夢留人睡。明月樓高休獨倚，酒入愁腸，化作相思淚。

- (C) 38. 此闕詞表達何種情感？ (A)家國之痛 (B)兒女情長 (C)思鄉愁緒 (D)感嘆時光易逝
- (B) 39. 就詞中所寫的景色，可知這闕詞所描述的季节和下列哪一項相同？ (A)瑤琴一曲來薰風 (B)蕭然萬籟涵虛清 (C)吹面不寒楊柳風 (D)數點梅花天地心
- (D) 40. 下列有關這闕詞的敘述，哪一項是錯誤的？ (A)分為上、下二片 (B)描寫的景色壯麗 (C)情感寫得悽婉 (D)上段寫情，下段寫景

4. 人間的愛 蔡涵

人間之所以令我們繫念不已，在於它充滿了愛。有了愛，就帶來希望，即使是在顛沛困頓裡，我們的心仍然有所憑依。

原是怎樣的衣帶漸寬一往無悔？大痛大愛的刻骨銘心，是年少歲月中不滅的痕跡。青春是火花，閃亮過，也很快地消逝，只留下心田深處的一首歌，哀傷與歡欣交融，每當我駐足聆聽，總不免苦澀。

時光像一條河，流走了年輕時候的激情，也撫平了久遠以前的創痛。在血淚歷練下，我們的心，由原本的脆弱而逐漸堅強起來。在回顧的時刻裡，我們能清楚地知道，當年的任性、逃亂以及相互的猜疑、試探、折磨，都造成了對感情無可挽回的傷害。如今，我不再說，倘若重新來過，卻又如何的傻話，畢竟心境已然不同了。應該感謝的是，我們藉此成長，更添智慧。知道真正的愛，是寬容、信賴、關懷；是無盡的付出和永遠真誠的祝福。

愛我們所有的一切吧！何只侷限於男女之私呢！一朵美麗的花，不也含蘊了對自然的謳歌，對上天的禮讚？而青青草原，那種「漸行漸遠還生」的喜悅；那種「春風吹又生」的燎原之勢，啟示我們永不放棄的人生態度。親情的感人，友誼的和煦以及大地的生機不息，都使得人間分外讓人眷戀。

人間的愛，有如似錦繁花，洋溢著溫暖的情味，使得生活其間的人們，在揮別時，一步一回首，是怎樣的

牽掛不捨。

(D) 41. 在顛沛困頓裡，我們的心仍然有所憑依，是因為人們擁有什麼？ (A)真 (B)善 (C)美 (D)愛

(D) 42. 作者認為下列何者未包括真正的愛？ (A)親情的關懷 (B)彼此信賴 (C)朋友的寬容 (D)相互的試探

(A) 43. 下列何詞可形容本文的特色？ (A)真誠自然 (B)論述詳明 (C)引證詳實 (D)豪放不羈

5. 問候天空 簡 嬪

某一個夏日的下午，有風。我之所以記得這麼清楚，乃是因為這個下午開啟了我萬里胸懷的豪情，像一把鑰匙。

天空大大方方地藍著，在無際的綠稻平原之上。就像夜晚燈下變化多端的藍色晶體，總讓人覺得神祕。可是還不至於深不可測到像一本有字天書。天書有的有字，有的沒字。那天下午，我讀的是一本全開藍底沒有封面的無字天書。踩著腳踏車，左看、右看、上看、下看，反正沒有字裡行間。書名叫「天空」。

藍色令我心曠神怡，讓我想笑。而遠遠天邊堆垛的雲朵，則讓我嚮往，讓我想跑。藍的天空與白的雲，向來是大自然最活潑、亮麗的打扮，像個熱愛自由的少年，當然，也十分熱情。每次看到那麼亮藍的天空與潔白的雲在平原之上耳語時，我的心情就倏地開朗起來。抖落凡間俗事，不再關心計較雜務總總，只是想笑、想跑、想攀登那仰之彌高的雲之山巒。

那天，看不見陽光，天空是帶著神祕的溫柔。而雲，則乾脆把太陽摟入軟綿綿的懷裡，雲端四周就多了一層薄紗似的淡金黃色的鑲邊。只看見太陽赤裸的腳趾在雲中伸動，看不見他那張陶醉的得意臉蛋。（節選自水問）

注：堆垛：堆積。

(D) 44. 下列何者並非文中開啟作者萬里胸懷豪情的因素？ (A)堆砌在天空中的白雲 (B)讓人感覺神祕的天空 (C)從雲後透露出的光芒 (D)平原上翠綠的農作物

(A) 45. 下列關於本文的寫作技巧，何者正確？ (A)採用第一人稱的角度，敘寫出喜愛的情緒 (B)將懷念兒時的情緒，委婉表現在眼前景象 (C)將視角由近處拉到遠方，開闊讀者的視野 (D)以大自然的聲響，反襯出作者心中的寧靜

6. 春天的日記（節錄） 徐仁修

森林中的枯木一如其他的活木，是森林的組成分子之一，是五色鳥打洞營巢下蛋的洞房，是許多甲蟲產卵、成長的場所，也是眾多野蕈生長的地方。而經由各種生物的作用，枯木逐漸腐敗分解，其中的有機質重新進入大自然能源循環系統，再為其他樹木吸收，森林才得以繼續豐美，所以枯木不是廢物也不是垃圾，它是自然生態體系中的重要分子，所以我們反對將枯木自森林中移走，那將使森林的養分減少，並使許多生物失去家園。

(D) 46. 作者反對將枯木從森林中移走的理由為何？ (A)枯木就是枯木 (B)枯木創造森林的獨特美感 (C)枯木是自然生態的消費者 (D)枯木是眾多野生生物的家園

(B) 47. 閱讀本文，作者隱然告訴我們什麼道理？ (A)造木運動有助美化森林 (B)避免人為干預森林的

復育 (C)移除枯木有害水土保持 (D)開發森林有助觀光業發展

(B) 48. 依據本文可聯想：「樹由榮而枯，發揮它生命的每一分價值；許多聖賢豪傑，生則貢獻心力於當代，死則影響深遠於後世。」根據這樣的推論，下列舉例何者不當？ (A)「天不生仲尼，萬古如長夜」的孔子 (B)「不為五斗米折腰」的陶淵明 (C)「壯志飢餐胡虜肉」的岳飛 (D)「創建中華民國」的孫中山

7.

與顧章書 吳均

僕去月謝病，還覓薛蘿。梅溪之西，有石門山者，森壁爭霞，孤峰限日。幽岫含雲，深溪蓄翠。蟬吟鶴唳，水響猿啼。英英相雜，綿綿成韻。既素重幽居，遂氣葺宇其上。幸富菊花，偏饒竹實。山谷所資，於斯已辦。仁智所樂，豈徒語哉！（選自吳朝請集）

注：①薛蘿：薛荔和女蘿，皆野生植物名，因常攀緣於山野林木或屋壁之上，故用以借指隱士的住所。②岫：山洞、岩洞。③英英：音樂和諧動聽的樣子。④綿綿：連續不絕的樣子。⑤竹實：又名竹米，狀似小麥。這裡借指山中的物產。

(D) 49. 何者並非吳均決定居住在石門山的原因？ (A)山水秀麗且風景優美 (B)生活所需皆自給自足 (C)身體微恙欲退居山野 (D)親朋好友的真心推荐

(A) 50. 下列關於本文文句的說明，何者正確？ (A)「森壁爭霞，孤峰限日」描寫出石門山高聳蔽日 (B)「幽岫含雲，深溪蓄翠」描繪出生機盎然的春景 (C)「蟬吟鶴唳，水響猿啼」說明環境吵雜難以忍受 (D)「幸富菊花，偏饒竹實」表現崇敬陶淵明的心意

一、聽 CD，選出所聽到的字詞。













1. _____
 (A) culture
 (B) knowledge
 (C) dough
2. _____
 (A) dig
 (B) heat
 (C) lead
3. _____
 (A) boring
 (B) century
 (C) ordinary
4. _____
 (A) cave
 (B) chance
 (C) century

5. _____
 (A) touch
 (B) public
 (C) holiday


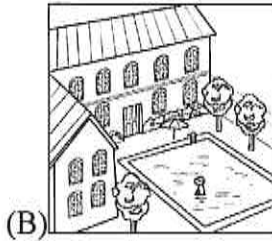

二、聽 CD，選出符合句意的選項。

6. _____
 (A) I am excited to stand on the top of the tall building.
 (B) I am scared of standing on the top of the tall building.
 (C) I am interested in getting to the top of the tall building.
7. _____
 (A) The woman is well-known for her beautiful voice.
 (B) The woman is famous for her face.
 (C) The woman is not famous at all.
8. _____
 (A) I told Linda I was a police officer before.
 (B) A police officer told me the woman is Linda.
 (C) Linda told me she was a police officer before.
9. _____
 (A) There are more students in that school now.
 (B) There are fewer students in that school than before.
 (C) There are not any students in that school now.
10. _____
 (A) The ocean park doesn't want to keep those lovely dolphins.
 (B) The ocean park should take care of those lovely dolphins.
 (C) The ocean park should let the dolphins go back to the ocean.

三、辨識句意：每題均有三張圖片，請依據所聽到的句子，選出符合描述的圖片

11. _____
 (A) 
 (B) 
 (C) 
12. _____
 (A) 
 (B) 
 (C) 
13. _____
 (A) 
 (B) 
 (C) 
14. _____
 (A) 
 (B) 
 (C) 

15. _____



四、言談理解：每題均有三個選項，請依據所聽到的對話與問題，選出一個最適當的答案

16. _____

- (A) Just once.
- (B) Not even once.
- (C) A few times

17. _____

- (A) He teaches science of oceans at school.
- (B) He has a wide knowledge of oceans and fish.
- (C) He has been a fisherman since the woman was little.

18. _____

- (A) The man often goes to the wild with the woman.
- (B) The man knows nature better than the woman does.
- (C) The man will go the wild with the woman this weekend.

19. _____

- (A) Collecting glass bottles has become his interest.
- (B) He needs two more glass bottles for his daughter.
- (C) He is collecting bottles for his art class tomorrow.

20. _____

- (A) Many people are building a new house for Mr. Brown.
- (B) It broke badly after an earthquake hit last week.
- (C) There has been a big cave under it for a long time.

一、聽 CD，選出所聽到的字詞。

1. 《腳本區》

CD: My mother has a wide knowledge of painting and music.

《題目區》

- _____
(A) culture
(B) knowledge
(C) dough

《答案區》

答案：B

2. 《腳本區》

CD: Don't forget to heat the lunch box, or you will have to eat a cold meal.

《題目區》

- _____
(A) dig
(B) heat
(C) lead

《答案區》

答案：B

3. 《腳本區》

CD: That model is wearing an ordinary dress, but she still looks beautiful.

《題目區》

- _____
(A) boring
(B) century
(C) ordinary

《答案區》

答案：C

4. 《腳本區》

CD: There was a big castle on the hill a century ago.

《題目區》

- _____
(A) cave
(B) chance
(C) century

《答案區》

答案：C

5. 《腳本區》

CD: You can read or borrow any books for free at the public library.

《題目區》

- _____
(A) touch
(B) public
(C) holiday

《答案區》

答案：B

二、聽 CD，選出符合句意的選項。

6. 《腳本區》

CD: It's scary to stand on the top of the tall building.

《題目區》

- _____
(A) I am excited to stand on the top of the tall building.
(B) I am scared of standing on the top of the tall building.
(C) I am interested in getting to the top of the tall building.

《答案區》

答案：B

7. 《腳本區》

CD: That woman is famous for her beautiful voice, not for her pretty face.

《題目區》

- _____
(A) The woman is well-known for her beautiful voice.
(B) The woman is famous for her face.
(C) The woman is not famous at all.

《答案區》

答案：A

8. 《腳本區》

CD: Linda said that she was a police officer ten years ago.

《題目區》

- _____
(A) I told Linda I was a police officer before.
(B) A police officer told me the woman is Linda.
(C) Linda told me she was a police officer before.

《答案區》

答案：C

9. 《腳本區》

CD: There is a lower number of students in that school than before.

《題目區》

- _____
(A) There are more students in that school now.
(B) There are fewer students in that school than before.
(C) There are not any students in that school now.

《答案區》

答案：B

10. 《腳本區》

CD: Those lovely dolphins don't belong in the ocean park.

《題目區》

- _____
(A) The ocean park doesn't want to keep those lovely dolphins.
(B) The ocean park should take care of those lovely dolphins.
(C) The ocean park should let the dolphins go back to the ocean.

《答案區》


答案：C

三、辨識句意：每題均有三張圖片，請依據所聽到的句子，選出符合描述的圖片

11. 《腳本區》

CD: Henry believes the saying—knowledge is power.

《題目區》




《答案區》

答案：C

12. 《腳本區》

CD: Sally doesn't like the taste of the medicine, but she has to take it because she has been sick for three days.

《題目區》




《答案區》

答案：C

13. 《腳本區》

CD: Frank has stayed in his room and studied hard since six p.m.

《題目區》



《答案區》


答案：C

14. 《腳本區》

CD: The cook is going to use the oven to make a big

dinner.

《題目區》




《答案區》

答案：B

15. 《腳本區》

CD: Come and look! Nature is beautiful, isn't it?

《題目區》



《答案區》

答案：A

四、言談理解：每題均有三個選項，請依據所聽到的對話與問題，選出一個最適當的答案

16. 《腳本區》

CD: Man: Have you talked to the tall girl, Jane?

Woman: Yes, a few times since this semester started.

Man: I see. What have you learned about her?

Woman: She has joined in the summer camp twice.

Question: How many times has the woman talked to Jane?

《題目區》

- (A) Just once.
- (B) Not even once.
- (C) A few times

《答案區》

答案：C

17. 《腳本區》

CD: Man: You really know a lot about oceans and fish. Do you study them?

Woman: No, all my knowledge of them comes from my father.

Man: Is he a teacher?

Woman: No, he was a fisherman when I was little.

Question: What is true about the woman's father?

《題目區》

- _____
- (A) He teaches science of oceans at school.
 - (B) He has a wide knowledge of oceans and fish.
 - (C) He has been a fisherman since the woman was little.

《答案區》

答案：B

18. 《腳本區》

CD: Man: You and Jane are going camping this weekend, aren't you?

Woman: Yes, and I'm going shopping for it this afternoon. Why do you ask?

Man: Well, may I join you this time?

Woman: Of course, but I thought you never liked the wild.

Man: I didn't, but after watching *Blue Planet*, I think it's time for me to get close to nature and learn this planet better.

Question: Which is true?

《題目區》

- _____
- (A) The man often goes to the wild with the woman.
 - (B) The man knows nature better than the woman does.
 - (C) The man will go the wild with the woman this weekend.

《答案區》

答案：C

19. 《腳本區》

CD: Man: May I have the bottle after you finish the juice inside?

Woman: Sure. Are you collecting glass bottles?

Man: It's for my girl. She needs six for her art class tomorrow. I've only collected four. I guess I'll have to drink more juice today. Could you help me?

Woman: No, I'm quite full after this one.

Question: What is true about the man?

《題目區》

- _____
- (A) Collecting glass bottles has become his interest.
 - (B) He needs two more glass bottles for his daughter.
 - (C) He is collecting bottles for his art class tomorrow.

《答案區》

答案：B

20. 《腳本區》

CD: Man: Why are so many people digging in Mr. Brown's back yard?

Woman: They said Mr. Brown found a big cave under his house after the earthquake last week. And people found something special in it.

Man: Really?

Woman: They also said the cave has been there for hundreds of years. Mr. Brown was lucky that his old

house was still all right after so many big quakes.

Question: What is true about Mr. Brown's house?

《題目區》

- _____
- (A) Many people are building a new house for Mr. Brown.
 - (B) It broke badly after an earthquake hit last week.
 - (C) There has been a big cave under it for a long time.

《答案區》

答案：C

高雄市立大社國中 109 學年度第一學期第一次段考英語科三年級試卷

班級: 三年_____ 班 座號: _____ 姓名: _____

Part II 綜合測驗:80%

一、中翻英:每題 1 分, 共 5 分。

1. 知識 _____ 2. 決定 _____ 3. 公眾的 _____ 4. 力量 _____ 5. 誠實的 _____

二、文意字彙:每題 1 分, 共 5 分。

6. _____ Mr. Gibson goes hiking in the mountains twice a month. He feels happy when getting close to n _____ e.
7. _____ Having turkey and pumpkin on Thanksgiving has been one of American food c _____ es.
8. _____ Wearing sunglasses can p _____ t your eyes from the sun.
9. _____ One of Ms. Lee's eyes is b _____ d, and the other is not much better. She can hardly see things close up.
10. _____ This knife isn't s _____ p enough to cut the steak. May I change it to another one?

三、語法選擇: 每題 2 分, 共計 20 分。

- () 1. The trash has been here _____. Why isn't there anyone coming to take it away?
(A) when I got home (B) after I wake up (C) since I moved here (D) before you call me
- () 2. That Hebe loves Jay _____ many people, _____?
(A) is surprised at; isn't she (B) is surprising to; isn't that
(C) has surprised; hasn't she (D) has surprised; hasn't it
- () 3. _____ students never learn well because they don't find any fun from learning.
(A) Scared (B) Bored (C) Surprising (D) Interesting
- () 4. If it doesn't rain tomorrow, we'll go hiking in the mountain, _____?
(A) doesn't it (B) does it (C) won't we (D) will we
- () 5. Many of us _____ Kenting more than once. Can we choose another place for the camping?
(A) have gone to (B) have been to (C) have been in (D) have to go to
- () 6. After the _____ work, all of the workers were all _____ out.
(A) tired; tiring (B) tire; tired (C) tiring; tired (D) tiring; tire
- () 7. The little boy _____ scared on the phone, _____ he?
(A) sounds; isn't (B) sounded; didn't (C) does sound; isn't (D) didn't sound; was
- () 8. Mrs. Wu: Bobby, put the dough into the oven. _____.
Bobby: I know, Mom. I will put the gloves on.
(A) Watch out the heat. (B) Eat up all the flour (C) It cost me 300 dollars (D) shape the dough
- () 9. Andy: _____. Amy: Dig your well before you are thirsty.
(A) What did your fortune cookie say? (B) Have you ever heard the saying?
(C) How long have they worked here? (D) How much does the dough cost?
- () 10. The ocean is getting warmer and warmer. _____, all the polar bears will be dead soon.
(A) It's time for everyone to watch the show (B) There is just too much ice
(C) If we take action the save our ocean (D) If we don't fix the problem

四、克漏字測驗: 每題 2 分, 共 16 分。

(1-3)

Joyce: When I go shopping, I am always happy and excited. Shopping is so much fun to me.

Nick: You love pretty clothes and shoes, 1. _____. Going shopping always makes me tired and bored. Now I am tired and hungry. Let's get something to eat.

Joyce: 2. _____ some fried chicken?

Nick: Okay. By the way, what time is it?

Joyce: It's 2:20 now. Do you have any plans for this afternoon?

Nick: Yes, there is a very good baseball game at 3:30 p.m. Do you think we can make it?

Joyce: I think so. Let's go and hurry.

Nick: I don't know you also like baseball game, 3. _____

Joyce: I like all kinds of sports. I just cannot play them well.

Nick: You are different. I am so glad that we can go to the ball games together than going shopping all the time.

- () 1. (A) so do I (B) but I don't (C) and me too (D) but I neither
() 2. (A) Did you agree (B) How do you say (C) How about (D) What about saying
() 3. (A) Almost all the boys like sports.
(B) Almost all the girls do not know what to do when watching baseball game.
(C) A lot of boys like to be in the baseball teams.
(D) A lot of girls do not have any interest in sports.

(4-8)

Last month, my grandparents went on a trip to New York. Before the trip, my grandma worried about a few things. She thought language was a problem 4. _____ they spoke only a little English. She also thought 5. _____ walking on the busy streets would be dangerous. My grandpa told her 6. _____ stay by his side and enjoy the trip. Luckily, they really had a good time. They went to many places, and the Empire State Building and Central Park were the most 7. _____ to them. Language was not a problem because a little English was enough to get around. 8. _____ food, both of them like Chinese food more than hamburgers and French fries.

《 Empire State Building 帝國大廈 Central Park 中央公園 》

- () 4. (A) but (B) that (C) because (D) so
() 5. (A) it (B) in (C) with (D) that
() 6. (A) that (B) to (C) but (D) can
() 7. (A) interested (B) interested to (C) interesting in (D) interesting to
() 8. (A) As for (B) Because of (C) But as (D) To have

五、閱讀:每題 2 分, 共 16 分。

(1-4)

Dear Mr. Wilson,

My name is David, and I am your neighbor next door. You may be surprised to get this letter since you have just moved in this building, and haven't met many people here. But the fact is, I need to talk to you about some things you have done, and these things really give me a headache. I know you are a hospitable person who also enjoys being together with friends. That's why you always hold parties and invite your friends home. I totally understand that you want to have fun and spend some time with your friends, but sometimes you get too loud. You sing and shout even late at night, and because of the noise you make, I can't sleep at all. When you are parting, your pet dog barks loudly, too, and this make things even worse. The most terrible thing is that every time you finish your party, you just put all the trash in front of your door and do not throw it away. It gives off bad smell and attracts lots of bugs and cockroaches. All the neighbors are unhappy, but they don't know what to

do about it.

So, Mr. Wilson, if you care about how your neighbors feel, you should try to make some changes. First of all, you need to stop making so much noise when it is late. Think about those neighbors who might need to get up early for school or work. Also, you need to take care of your dog. Don't let it bark late at night and disturb others. Last, you should clean your trash and keep our apartment building clean. The trash car comes at six-thirty every evening, and if you need any help, I'd be glad to give you a hand. I believe if you can make these changes, our apartment will be the best and happiest place in the neighborhood.

Your neighbor,
David

《 attract 吸引 cockroach 蟑螂 disturb 打擾 apartment 公寓 neighborhood 社區 》

- () 1. Why did David write this letter to Mr. Wilson?
- (A) To tell him when the trash car comes every day.
(B) To ask him not to keep a dog as a pet in the apartment building.
(C) To show him something that he didn't do very well as a neighbor.
(D) To help him get to know everyone living in the apartment building
- () 2. What does it mean when people are hospitable?
- (A) They love to make a lot of noise.
(B) They are very nice to other people.
(C) They usually have trouble sleeping well at night.
(D) They care about themselves more than their friends.
- () 3. Which one of the following is NOT what David told Mr. Wilson to be careful about?
- (A) He should not bring any friends home to party.
(B) He should not let his dog bark and disturb other people
(C) He should think more for those people living in the same building.
(D) He should take out his trash and throw it in the trash car every day.
- () 4. What can we know about Mr. Wilson?
- (A) He couldn't sleep very well at night.
(B) He didn't know his neighbors very well.
(C) He was often invited to his friends' parties and had fun there.
(D) He put his trash in front of David's house and it attract lots of bugs.

(5-8)

Simon: So, what do you think of it?

Sammi: It's...interesting.

Simon: Oh, no, don't say that.

Sammi: The first thing you should know about Olivia is that she's scared of anything with six legs. I don't think she'll be able to walk past the Buzzing World.

Simon: But she loves butterflies! Well, she loved the photos of butterflies I took last time I was there.

Sammi: Only when they're not moving.

Simon: Fine. I'll just take her somewhere else, and that'd be OK. Right?

Sammi: Umn, you're taking her to Wavelength for dinner?

Simon: What's wrong with that?!

Sammi: I wouldn't say a dead fish is really her idea of a nice dinner, and this restaurant sells seafood. . .

Simon: Now you're wrong about this one. She loved my mom's fish balls. She had several times.

Sammi: OK, let's ask someone else. Oh, there's Lori. Hey, Lori, could you look at Simon's plan? He's taking Olivia out.

Lori: Wow! Everything's written down on paper! Hmmm. . . I thought you wanted her to be your girlfriend.

Simon: I do!

Lori: If you follow this plan, I'm sure it'll be your only date with her.

- () 5. What does it in the first line mean?
- (A) The gate of Buzzing World.
(B) Simon's butterfly photo.
(C) Simon's plan for his date.
(D) Anything with six legs.
- () 6. What does this one mean in the dialogue?
- (A) What food Wavelength sells.
(B) Why Olivia does not like seafood.
(C) What Simon thinks about Wavelength.
(D) What food Olivia does not like to eat.
- () 7. What can we learn about Simon?
- (A) He was told that Olivia likes nice surprises.
(B) He decided to cook Olivia a nice seafood dinner.
(C) He was happy that Olivia was finally his girlfriend.
(D) He gave up the idea of taking Olivia to Buzzing World.
- () 8. Sammi is a friend of Olivia's. If she agrees with Lori, what would she most likely say to Simon?
- (A) "This is just what Olivia would want!"
(B) "You never know what a girl like Olivia would want."
(C) "Make a different plan or have a date with a different girl!"
(D) "She never cares what she does on a date; she cares who she has a date with."

六、依提示完成句子: 每題 3 分, 共 9 分。

1. It has been two years since she moved back from Taipei. (造原問句)
2. Some students are bored with doing homework all day. (用 boring 改寫)
3. Your sister never read comic books before, _____.(填入附加問句)

七、引導式翻譯: 每題 3 分, 共計 9 分。

1. 如果你想擁有彩虹, 你必須先忍受降雨。
If you want to _____, you must _____.
2. 海洋曾富含魚類及植物, 但它們現在面臨嚴重的困境。
Oceans were _____, but now they are _____.
3. 你已經經歷了你生命中最糟糕的部分。
You have gone _____.

高雄市立大社國中 109 學年度第一學期第一次段考英語科三年級作答卷

班級: 三年_____ 班 座號: _____ 姓名: _____

得分:

Part II 綜合測驗:80%

一、中翻英:每題 1 分, 共計 5 分。

1. knowledge	2. decide	3. public	4. power	5. honest
-----------------	--------------	--------------	-------------	--------------



二、文意字彙: 每題 1 分, 共計 5 分。

6. nature	7. cultures	8. protect	9. blind	10. sharp
--------------	----------------	---------------	-------------	--------------

三、語法選擇:每題 2 分, 共計 20 分。

1. C	2. D	3. B	4. C	5. B
6. C	7. B	8. A	9. A	10. D

四、克漏字測驗:每題 2 分, 共計 16 分。

1. B	2. C	3. D		
4. C	5. D	6. B	7. D	8. A

五、閱讀理解: 每題 2 分, 共計 16 分。

1. C	2. B	3. A	4. B
5. C	6. D	7. D	8. C

六、依提示作答:每題 3 分, 共計 9 分。

1. How many years has it been since she moved from back Taipei?
2. Doing homework all day is boring to some students.
3. did she?

七、引導式翻譯: 每題 3 分, 共計 9 分。

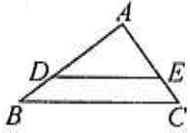
1. have a rainbow / put up with the rain
2. rich in fish and plants / in serious trouble
3. through the worst part of your life

範圍：第一章

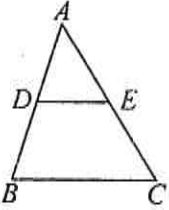
年 班 座號： 姓名：

一、選擇：(每個題目 4 分，共 40 分)

1. () 如圖， $\triangle ABC$ 中， $\overline{DE} \parallel \overline{BC}$ ， $\overline{AD} = 8$ ， $\overline{AB} = 2x$ ， $\overline{AE} = x$ ， $\overline{AC} = 9$ ，則 $x = ?$ (A) 6 (B) 9 (C) 10 (D) 12

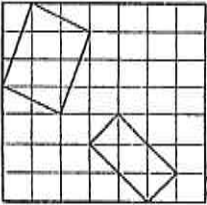


2. () 如圖， $\triangle ABC$ 中， D 、 E 分別為 \overline{AB} 、 \overline{AC} 中點，則下列敘述何者錯誤？



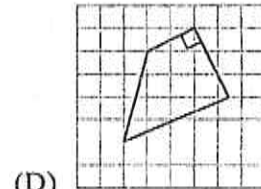
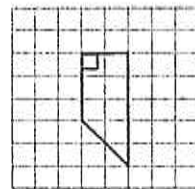
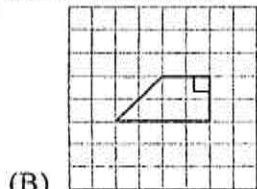
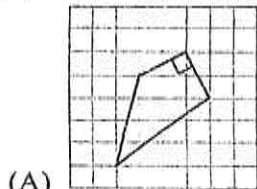
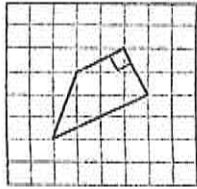
- (A) 四邊形 $DECB$ 為梯形 (B) $\angle DEC + \angle ECB = 180^\circ$ (C) $\overline{BC} = 2\overline{DE}$ (D) $\overline{DB} = \overline{EC}$

3. () 如圖，已知每一小方格都是 1 平方單位，試判斷下列敘述何者正確？

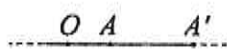


- (A) 兩四邊形相似 (B) 角對應相等，邊沒有對應成比例
(C) 邊對應成比例，角沒有對應相等 (D) 角沒有對應相等，且邊也沒有對應成比例

4. () 下列各圖形中，哪一個四邊形與左圖的四邊形相似？

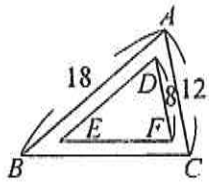


5. () 如圖， $\overline{OA'}$ 是以 O 為中心，將 \overline{OA} 縮放 3 倍後的圖形，若 $\overline{OA} = 3$ 公分，則 $\overline{OA'}$ 為多少公分？



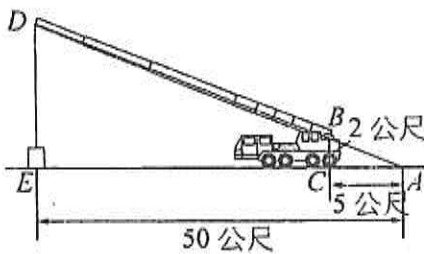
- (A) 1 (B) 3 (C) 6 (D) 9

6. () 如圖，若 $\triangle ABC \sim \triangle DEF$ ，且 $\angle A$ 、 $\angle B$ 、 $\angle C$ 的對應角分別是 $\angle D$ 、 $\angle E$ 、 $\angle F$ ，則 \overline{DE} 的長是多少？



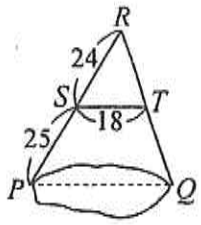
- (A) 10 (B) 12 (C) 14 (D) 16

7. () 如圖，已知康橋大樓建地有一輛吊車，吊杆頭正要吊起一重物，已知吊車的高度為 2 公尺，若沿著吊杆延長線接觸到地面 A 點， A 點距離吊車 5 公尺，且距離重物 50 公尺，試求吊杆頭與地面的距離 \overline{DE} 是多少公尺？



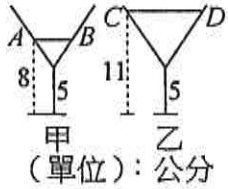
- (A) 10 (B) 20 (C) 30 (D) 40

8. () 如圖， P 、 Q 是湖泊岸邊的兩點，欲測量 P 、 Q 兩點間的距離，可在湖外取一點 R ，且在 \overline{RP} 、 \overline{RQ} 上各取一點 S 、 T ，使得 $\overline{ST} \parallel \overline{PQ}$ 。量得 $\overline{RS} = 24$ 公尺， $\overline{ST} = 18$ 公尺， $\overline{SP} = 25$ 公尺，則 \overline{PQ} 為多少公尺？

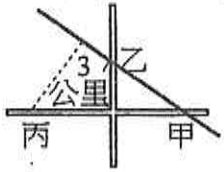


- (A) $\frac{147}{2}$ (B) $\frac{147}{4}$ (C) $\frac{95}{4}$ (D) $\frac{95}{2}$

9. () 如圖，有兩個大小、形狀都相同的高腳杯，杯腳長皆為 5 公分，現分別在兩杯中加入一些氣泡水，結果甲杯的氣泡水面 \overline{AB} 到杯子底部高為 8 公分，乙杯的氣泡水面 \overline{CD} 到杯子底部高為 11 公分，若此時 \overline{AB} 為 4 公分，則 \overline{CD} 為多少公分？ (A)4 (B)6 (C)8 (D)10

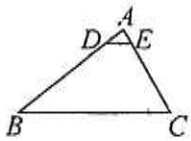


10. () 如圖，甲、乙、丙三村落分別在兩條互相垂直的公路上，另一條鐵路通過甲、乙兩村，今想要從丙村建築一條最短的便道(即圖中的虛線)通往鐵路，若甲、丙兩村相距 9 公里，甲、乙兩村相距 5 公里，且乙村距離兩公路交叉路口 3 公里，則此條便道的長度為多少公里？ (A)5 (B)5.2 (C)5.4 (D)5.6

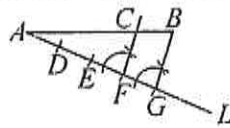


二、填充：(每個答案 4 分，共 44 分)

1. 如圖，已知 $\overline{AB} = 18$ ， $\overline{DB} = 15$ ， $\overline{AC} = 12$ ， $\overline{EC} = 10$ ，則：(1) \overline{DE} 與 \overline{BC} 是否平行？答：_____。
 (2) 若 $\angle AED = 61^\circ$ ，則 $\angle A + \angle B =$ _____。



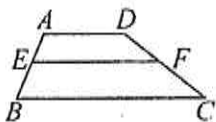
2. 如圖，給定一線段 \overline{AB} ，利用下列尺規作圖的步驟，在 \overline{AB} 上作出一點 C：



- ① 過 A 點作一直線 L ，且 \overline{AB} 不在直線 L 上。
 ② 在直線 L 上依序截取四點 D 、 E 、 F 、 G ，使得 $\overline{AD} = \overline{DE} = \overline{EF} = \overline{FG}$ 。
 ③ 連接 \overline{BG} ，再過 F 點作直線平行 \overline{BG} ，交 \overline{AB} 於 C 點。
 則 $\overline{AC} : \overline{AB} =$ _____。

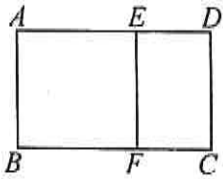
3. 已知 $\triangle ABC \sim \triangle DEF$ ， $\angle A$ 、 $\angle B$ 、 $\angle C$ 的對應角依序為 $\angle D$ 、 $\angle E$ 、 $\angle F$ ，若 $\angle A = 40^\circ$ ， $\angle F = 60^\circ$ ， $\angle B = (x + 3y)^\circ$ ， $\angle D = (x - y)^\circ$ ，則 $x + y =$ _____。

4. 如圖，梯形 $ABCD$ 中， $\overline{AD} \parallel \overline{EF} \parallel \overline{BC}$ ，已知 $\overline{AB} : \overline{AE} = 7 : 3$ ，若 $\overline{AD} = 5$ ， $\overline{EF} = 8$ ，則 $\overline{BC} =$ _____。

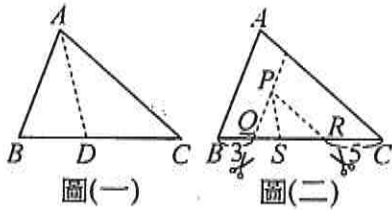


5. 已知矩形 $EFGH$ 為矩形 $ABCD$ 的 2 倍縮放圖，若 $\overline{AB} = \sqrt{2}$ ， $\overline{BC} = 3$ ，則矩形 $EFGH$ 的面積是_____。

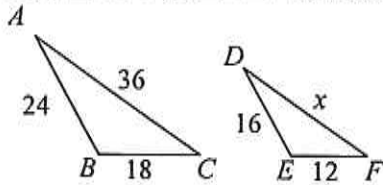
6. 如圖，矩形 $ABCD$ 中，以 \overline{AB} 為一邊作正方形 $ABFE$ ，所剩的矩形與原矩形相似，則 $\overline{CD} : \overline{CF}$ 的比值為_____。



7. 圖(一)為 $\triangle ABC$ ， \overline{AD} 為 $\angle A$ 的角平分線， $\overline{BC} = 14$ 。今在 \overline{BC} 上取 Q, R 兩點，使得 $\overline{BQ} = 3$ ， $\overline{RC} = 5$ ，且過 Q 沿著 \overline{AB} 的平行線剪開，再過 R 沿著 \overline{AC} 的平行線剪開，最後剩下 $\triangle PQR$ ，如圖(二)所示。已知 $\angle P$ 的角平分線為 \overline{PS} ，且 $\triangle ABC \sim \triangle PQR$ ，則 $\overline{AD} : \overline{PS} =$ _____。

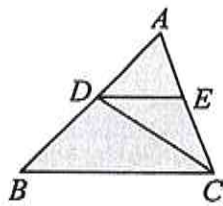


8. 已知 $\triangle ABC$ 是 $\triangle DEF$ 的縮放圖，則：



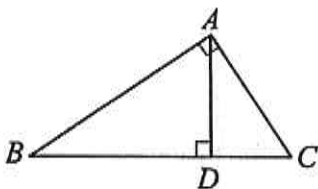
- (1) $x =$ _____。
 (2) $\triangle DEF$ 是 $\triangle ABC$ 的_____倍縮放圖。

9. 如圖， $\triangle ABC$ 中，若 $\overline{DE} \parallel \overline{BC}$ ， \overline{CD} 平分 $\angle ACB$ ，且 $\overline{BC} = 10$ ， $\overline{AC} = 8$ ，則 $\overline{DE} =$ _____。

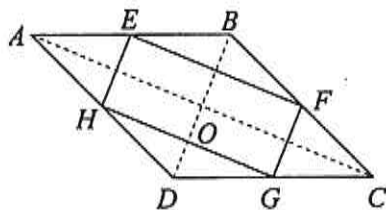


三、計算：(每題 8 分，共 16 分，需有計算過程，否則不予給分)

1. 如圖，直角 $\triangle ABC$ 中， $\angle BAC = 90^\circ$ ， \overline{AD} 為 \overline{BC} 上的高，若 $\overline{AD} = 6$ ， $\overline{CD} = 4$ ，則 \overline{AB} 的長度為何？(8 分)



2. 如圖，菱形 $ABCD$ 中， $\overline{AC} = 24$ ， $\overline{BD} = 10$ ， E, F, G, H 分別為四邊中點，求四邊形 $EFGH$ 的周長與面積。(各 4 分)



範圍：第一章

____ 年 ____ 班 座號：____ 姓名：____

一、選擇：(每個題目 4 分，共 40 分)

1. A	2. D	3. D	4. B	5. D
6. B	7. B	8. B	9. C	10. C

二、填充：(每個答案 4 分，共 44 分)

1. (1)是 (2) 119°

2. 3 : 4

3. 60

4. 12

5. $12\sqrt{2}$

6. $\frac{1+\sqrt{5}}{2}$

7. 7 : 3

8. (1)24 (2) $\frac{2}{3}$

9. $\frac{40}{9}$

三、計算：(每題 8 分，共 16 分，需有計算過程，否則不予給分)

1. $3\sqrt{13}$

2. 周長=34，面積=60

高雄市立大社國中 109 學年度上學期第 1 次段考歷史科三年級試卷

命題者：林怡君 範圍：第 1 課~第 2-1 課 班級：_____ 座號：_____ 姓名：_____

一、單選題：(每題 2 分，共 50 題，總共 100 分)

- D 1. 古埃及文明的高度發展，與農業的進步有密切關係，而埃及因為哪一條河流的固定氾濫，帶來肥沃的土壤，進而發展出高度的農業文明？(A)黃河 (B)恆河 (C)幼發拉底河 (D)尼羅河。
- D 2. 上古時代，活動於小亞細亞的哪一個民族是以製造鐵器聞名，而且鐵兵器的運用，曾使敵軍聞風喪膽？(A)蘇美人 (B)埃及人 (C)波斯人 (D)西臺人。
- C 3. 娜美的歷史期末報告以希臘時代的著名人物為主題，報告中的關鍵字有「希臘三哲人」、「雅典學園」、「理想國」。請問：報告中的主角是何人？(A)荷馬 (B)亞歷山大 (C)柏拉圖 (D)希羅多德。
- C 4. 沙魯是位貴族，平日信奉婆羅門教，相信輪迴與業力的觀念，他的身分從出生的那一刻便決定了。依此判斷，沙魯所處的社會應實行下列哪一種制度？(A)封建制度 (B)民主制度 (C)種姓制度 (D)宗法制度。
- C 5. 下列為希臘著名的人物：(甲)蘇格拉底 (乙)希羅多德 (丙)荷馬 (丁)柏拉圖 (戊)亞里斯多德。請問：「希臘三哲人」指的是哪些人？(A)甲乙戊 (B)甲丙戊 (C)甲丁戊 (D)丙丁戊。
- C 6. 印度人發明的數字系統和「零」的概念，後來由下列哪個民族傳播到西方？(A)腓尼基人 (B)阿利安人 (C)阿拉伯人 (D)波斯人。
- A 7. 小智對組裝建築模型十分有興趣，若他想要完成一座希臘時代的著名建築物，應選擇下列何者？(A)帕德嫩神廟 (B)古夫金字塔 (C)萬里長城 (D)二里頭宮殿。
- D 8. 關於奧林匹亞祭典的敘述，下列敘述何者有誤？(A)舉辦地點位於希臘半島 (B)是現代奧運會的起源 (C)賽跑是最早的比賽 (D)為讚美一神信仰而舉行。
- B 9. 老師帶領全班同學到歷史博物館參觀美索不達米亞文明展，在此次活動中最可能觀賞到的古文物有下列哪些？(甲)《漢摩拉比法典》複製品 (乙)木乃伊 (丙)釋迦牟尼神像 (丁)楔形文字泥版 (A)甲丙 (B)甲丁 (C)乙丙 (D)丙丁。
- A 10. 胖虎在介紹兩河流域文化的書籍中，看到某一民族所製的「策馬騎士」浮雕，顯示出驍勇善戰的民族特色。圖片旁的說明：「此民族憑藉訓練有素的軍隊，運用鐵製的武器，建立龐大的帝國。」請問：浮雕應為下列何者的作品？(A)亞述人 (B)蘇美人 (C)埃及人 (D)印度人。
- A 11. 下列何者是埃及古王國時期國力強盛的標誌？(A)金字塔 (B)商業發達 (C)大型圖書館 (D)《漢摩拉比法典》。
- D 12. 有關「陶片流放制」的相關內容，下列敘述何者正確？(A)此制度最早出現在斯巴達 (B)以投票陶片多寡來決定城邦領袖 (C)希臘化時期的重要制度 (D)由男性公民進行投票決定。
- C 13. 在美索不達米亞以東的亞洲高原地區，長期以來有一個未開化的山區民族在那兒生活，他們有美好的宗教信仰，崇拜光明及火。請問：上述資料中的民族是指下列何者？(A)蘇美人 (B)巴比倫人 (C)波斯人 (D)西臺人。
- B 14. 希臘古典文化影響後世深遠。請問：希臘古典文化主要興起於哪一個地區？(A)大西洋東岸 (B)愛琴海 (C)太平洋東岸 (D)歐洲內陸。
- D 15. 《木馬屠城記》出自《伊里亞德》與《奧德賽》中有關特洛伊戰爭的情節，過去一直被視為是希臘神話故事，直至 19 世紀才被業餘考古學者證實特洛伊城的遺址。請問：上述的《伊里亞德》和《奧德賽》是何人的著作？(A)歐幾里德 (B)亞里斯多德 (C)阿基米德 (D)荷馬。
- B 16. 印度古文明曾在西元前 2300 年左右出現，但之後因來自西北方的民族入侵而滅亡。請問：西元前 2300 年左右，印度古文明在哪一個地區曾發展出城市文明？(A)尼羅河流域 (B)印度河流域 (C)恆河流域 (D)兩河流域。

- C 17. 印度教受印度傳統社會及宗教的影響，其教義主要受到下列哪些宗教的影響？(甲)婆羅門教(乙)佛教(丙)伊斯蘭教(丁)民間信仰 (A)甲乙丙 (B)乙丙丁 (C)甲乙丁 (D)甲丙丁。
- A 18. 阿福遇見一位修行者，修行者告訴他：「生命萬物都是平等的，只要能拋開欲望，領悟正道，就能超脫輪迴，進入沒有生死，也沒有痛苦的境界。」從上述言論判斷，阿福遇見的修行者應該是哪一宗教的信徒？ (A)佛教 (B)祆教 (C)猶太教 (D)基督教。
- C 19. 「這個城邦位於希臘伯羅奔尼撒半島東南部拉哥尼亞平原，境內缺乏良港，不適合商業，但平原的土地肥沃，以農立國，且是個實施軍事統治的城邦。」請問：這是指上古時期的哪一個希臘城邦？ (A)馬其頓 (B)克里特 (C)斯巴達 (D)雅典。
- C 20. 根據考古研究發現，古埃及文字大約創於西元前 3500 年，由圖像和表音符號所構成，多刻在墓穴、紀念碑、廟宇的牆壁或石塊上，被稱為「聖書體」。請問：古埃及的文字屬於下列何者？ (A)拼音文字 (B)楔形文字 (C)象形文字 (D)拉丁文字。
- D 21. 2016 年的奧林匹克運動會在巴西里約舉行。請問：這項運動會最早的發源地是下列何地？ (A)羅馬 (B)印度 (C)埃及 (D)希臘。
- A 22. 李教授到印度作宗教信仰的考察研究，發現現今多數的印度人多信奉哪一宗教？ (A)印度教 (B)佛教 (C)婆羅門教 (D)猶太教。
- D 23. 兩河流域地區的民族眾多，創造出豐富多元的文化，而其中的巴比倫人，在文化上最大的貢獻為何？ (A)發明太陽曆 (B)確立一週七天的制度 (C)創立六十進位法 (D)編訂《漢摩拉比法典》。
- C 24. 古西亞地區有一民族擅長於航海經商，經常往返於地中海地區，並將古埃及文字改良後傳入歐洲。請問：上文所述應是指下列哪一個民族？ (A)亞述人 (B)蘇美人 (C)腓尼基人 (D)巴比倫人。
- D 25. 西元前 3000 年以後，不同的民族先後遷入兩河流域，建立政權。有些民族使用閃族語言，有的則使用印歐語言。這些民族的語言雖然不同，但此地區的文化與貿易能夠持續成長，學者認為這種情況主要是由於下列哪一個共通的重要基礎？(A)使用鐵器 (B)宗教統一 (C)軍事技術 (D)楔形文字。
- D 26. 阿利安人為了維持高貴的民族血統，不想與賤民及原住民混血，而實施將人們分成四個階級，並嚴格禁止跨階級通婚的制度。請問：上述這種制度為何？ (A)封建制度 (B)井田制度 (C)法老制度 (D)種姓制度。
- A 27. 某一古文明的人民相信天上星宿的運行常能影響人間的禍福，經過許多僧侶們長期觀察天象的結果，他們已經能預測日、月蝕，為五大行星命名，訂定黃道十二宮星座。請問：這是哪一地區人民的成就？ (A)兩河流域 (B)埃及 (C)印度 (D)希臘。
- D 28. 下列何者為人類歷史上第一個橫跨歐、亞、非三洲的大帝國？ (A)巴比倫 (B)羅馬 (C)亞歷山大 (D)波斯
- C 29. 大明是上古時期西亞某個民族的人，他們定都於巴比倫帝國首都的舊址，因此有「新巴比倫」之稱。請問：大明可能是屬於哪個民族？ (A)蘇美人 (B)西臺人 (C)加爾底亞人 (D)腓尼基人
- C 30. 巴比倫的《漢摩拉比法典》是後來很多地區編纂法律時的典範。請問：這套法典的基本精神是下列何者？ (A)以德報怨 (B)人人平等 (C)以牙還牙 (D)以直報怨
- A 31. 西元前五世紀左右，在兩河流域一帶某傳教士宣傳以下內容：「當世界末日來臨時，所有人都要接受審判，但善神終將打敗惡神。」請問：這應該是哪一宗教傳教士？ (A)祆教 (B)猶太教 (C)基督教 (D)婆羅門教
- B 32. 埃及的人之所以把死者製成木乃伊的原因，是在於埃及人的何種觀念？ (A)尊重死者 (B)復活之說 (C)善惡二元 (D)以牙還牙
- D 33. 埃及對哪一個神的崇拜，代表著他們相信靈魂的永恆性與循環再生？ (A)太陽神 (B)婆羅門神 (C)法老 (D)尼羅河神

- C 34. 古埃及在哪一個時期國力強盛、版圖遼闊，甚至有帝國之稱？
(A)古王國時期 (B)中王國時期 (C)新王國時期 (D)第一王國時期
- C 35. 人類的文明，大多起源於取水便利之處，也因此創造出大河文明。下列有關文明和大河的配對，何者錯誤？ (A)中國 — 黃河 (B)西亞 — 兩河流域 (C)埃及 — 恆河 (D)印度 — 印度河
- B 36. 舉辦 2004 年奧運的雅典，在城邦時期是採用何種政治制度來進行統治？
(A)內閣制 (B)民主制度 (C)軍國主義 (D)君主專政
- B 37. 從 2004 年「大家都沒空」的馬拉松廣告主題，引起熱烈迴響後，2008 年更以「全家來跑馬拉松」為訴求，鼓勵全家出動，體驗健康、歡樂的馬拉松運動。而馬拉松相傳起源於希臘人戰勝外敵後，一位士兵跑回雅典傳捷報的故事。請問：當時是戰勝哪一外敵？
(A)羅馬 (B)波斯 (C)埃及 (D)希伯來人
- C 38. 若要形容希臘時期的藝術特質，下列敘述何者正確？
(A)華麗誇張 (B)自然寫實 (C)均衡對稱 (D)嚴峻冷酷
- C 39. 下列何者被稱為「史學之父」，其代表著作《歷史》即是以波希戰爭為題材？
(A)蘇格拉底 (B)伊利亞德 (C)希羅多德 (D)亞歷山大
- D 40. 中國古時有句成語「鷸蚌相爭，漁翁得利」，此句話如果用來檢視古希臘城邦內鬥的局面，哪個城邦是最後得利的漁翁？ (A)雅典 (B)斯巴達 (C)特洛伊 (D)馬其頓
- B 41. 四年一度的奧運會在某個都市舉辦，舉辦單位的宣傳文宣提到：「這座城市在古代實行民主政治，不僅在政治上有突出的表現，在文化上也有驚人的成就，著名的哲學家蘇格拉底就是本座城市的市民。」此次奧運是在哪個城市舉辦？ (A)巴黎 (B)雅典 (C)斯巴達 (D)羅馬
- D 42. 現代的小說、漫畫常以古埃及文化為背景，其中「法老」被描述為具有神性的帝王，因為對古埃及人民而言，法老是哪一種神祇的化身？ (A)尼羅河神 (B)陰間之神 (C)雨神 (D)太陽神。
- B 43. 埃及在此時期遷都底比斯(今盧克索)，並且開始使用青銅器。此時期埃及與敘利亞、克里特的貿易交往擴大。請問：依上文判斷，這是埃及的哪個時期？ (A)古王國 (B)中王國 (C)新王國 (D)帝國。
- C 44. 某個民族最初被稱為「渡河而來的民」。他們以「上帝的選民」自居，亡國千年之後，終於在二十世紀時建國。請問：此民族應是指下列何者？ (A)蘇美人 (B)西臺人 (C)希伯來人 (D)巴比倫人。
- C 45. 蝴蝶忍一直不懂為什麼希臘會發展為各自獨立的小城邦，而不是一個大帝國。這主要是什麼原因所造成？ (A)水源充足，習慣散居 (B)宗教差異，相互敵視 (C)山海交錯，阻隔來往 (D)人種複雜，互不妥協。
- A 46. 雅典和斯巴達都是希臘時代的重要城邦，關於這兩者的比較，下列何者正確？
(A)前者實施民主政治，後者則為軍國主義 (B)兩城邦都是位於義大利半島
(C)前者公民需接受軍事訓練 (D)後者以商業為主。
- A 47. 佛教興起後逐漸向外傳播，下列有關佛教傳播的敘述，何者錯誤？ (A)釋迦牟尼廣建寺廟，並積極派遣使者向外傳教 (B)佛教於兩漢之際由西域傳入中國 (C)魏晉南北朝時期由於戰亂頻仍仍與君王提倡，佛教大為盛行 (D)玄奘於唐朝時至印度取經，有助於佛教的中國化。
- A 48. 炭治郎研究古西亞和古埃及的文化時，發現下列哪一文化遺產來自埃及？
(A)太陽曆 (B)楔形文字 (C)《漢摩拉比法典》 (D)六十進位法。
- A 49. 農業是孕育人類文明的主要經濟活動，古文明的發展通常與其密切相關。若從世界四大古文明來看，可發現皆位於下列哪一位置？ (A)大河流域的氾濫平原 (B)乾燥酷熱的沙漠中央 (C)地勢高聳的高原頂部 (D)廣闊大洋上的火山島。
- D 50. 富岡義勇今天在學校學到了「鐘錶計時法」，知道了 1 小時為 60 分，1 分鐘為 60 秒。翻閱歷史記載，得知此種進位法是源自於古西亞哪一民族？ (A)波斯人 (B)埃及人 (C)亞述人 (D)蘇美人。

高雄市立大社國中 109 學年度第一學期第一次段考地理科三年級試卷

範圍：第 1 課 ~ 第 2 課(歐盟)

班級： 座號： 姓名：

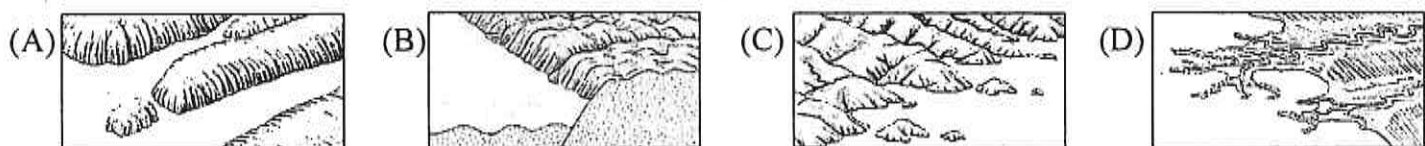
一、單一選擇題：第 1~26 題，共 26 題，每題 2 分，共 52 分

- (D) 2020 年 8、9 月捷克參議院議長維特齊 (Milos Vystrelil) 率領共 89 人訪問臺灣。參議院議長的地位在捷克僅次總統，因此這次訪台使得捷克再次受到矚目。捷克位在東歐，是東歐國家中經濟發展較好的國家，它能夠吸引台灣企業投資進駐的原因，下列選項何者正確？(A)盛產石油、天然氣 (B)使用歐元作為交易貨幣 (C)獲得俄羅斯的支援 (D)勞力成本較低廉。
- (B) 下列地形中，何者屬於古老地塊，地勢低緩且多礦藏？(甲)阿富汗高原 (乙)德干高原 (丙)阿拉伯高原 (丁)伊朗高原 (A)甲乙 (B)乙丙 (C)丙丁 (D)甲丁。
- (D) 南亞的塔爾沙漠與西亞沙漠都屬於熱帶沙漠，其形成沙漠的主要原因是 (A)距海遙遠 (B)暖流流經 (C)地形封閉 (D)副熱帶高氣壓壟罩。
- (B) 表【一】為國際貨幣基金組織所發布 2019 年全球人均 GDP 前 10 名國家，表中打上★為 6 個歐洲國家。根據歐洲經濟發展情況判斷，這 6 個國家最可能位在歐洲那些地區？(A)西歐、東歐 (B)西歐、北歐 (C)北歐、南歐 (D)南歐、東歐。

表【一】

世界排名	國家	人均 GDP(美金)
1	盧森堡★	113196
2	瑞士★	83716
3	挪威★	77975
4	愛爾蘭★	77771
5	卡達	69687
6	冰島★	67037
7	美國	65111
8	新加坡	63987
9	丹麥★	59795
10	澳大利亞	53825

- (B) 中亞地區的哪一水域盛產石油？(A)鹹海 (B)裏海 (C)阿姆河 (D)錫爾河。
- (D) 歐洲的高地氣候主要分布在哪一山脈？(A)烏拉山 (B)安地斯山 (C)落磯山 (D)阿爾卑斯山。
- (D) 歐盟所發行的共同貨幣稱為 (A)馬克 (B)里拉 (C)法郎 (D)歐元。
- (C) 冰河侵蝕的海岸延伸至海邊，冰河消退海水入侵，形成深入陸地的狹長海灣，稱為 (A)峽谷 (B)谷灣 (C)峽灣 (D)岬灣。
- (A) 承上題，下列四個圖示的選項中，何者最符合上題所描述的海岸類型？



- (C) 世界人口分布最平均的州是 (A)南極洲 (B)北美洲 (C)歐洲 (D)非洲。
- (C) 歐洲海岸線曲折綿長，南歐地區如巴爾幹半島的海岸類型為 (A)峽谷 (B)縱谷 (C)谷灣 (D)峽灣。
- (C) 中亞的鹹海面積極快速縮減的主要原因？(A)超抽地下水 (B)全球暖化 (C)抽取河水灌溉棉花 (D)填海造陸。
- (A) 承上題，鹹海面積極快速縮減最可能造成哪一種環境災害？(A)土壤鹽鹼化 (B)土石流 (C)地層下陷 (D)山洪暴發。

14.(B)下列哪一地區盛行利用鑽井技術抽取深層地下水進行灌溉？(A)義大利島 (B)阿拉伯半島 (C)朝鮮半島 (D)斯堪地那維亞半島

15.(B)下列選項為某四個國際性組織的英文縮寫與 logo。亞、非與南美洲十幾個重要產油國組成哪一國際性組織，企圖控制全球石油的產量與價格？

(A)WTO



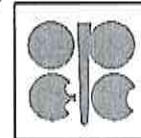
(B)EU



(C)WHO



(D)OPEC



16.(A)強森說：我的家鄉氣候濕潤，降水的機率頗高，幾乎沒有乾季。強森的家鄉應該是圖【一】中哪一國家？(A)英國 (B)波蘭 (C)瑞士 (D)西班牙。



圖【一】

17.(B)下列敘述中，何者屬於溫帶地中海型氣候的降水特徵？(A)全年有雨 (B)夏乾冬雨 (C)夏雨冬乾 (D)全年無雨。

18.(A)西亞地區富有石油資源，其中以哪一地區蘊藏量最多？(A)波斯灣沿岸 (B)伊朗高原 (C)死海水域 (D)美索不達米亞平原。

19.(B)下列有關歐洲聯盟(歐盟)的敘述，何者正確？(A)歐盟總部在法國首都巴黎 (B)統合會員國成為單一市場 (C)所有的會員國皆使用歐元 (D)2016年英國公投否決脫離歐盟。

20.(B)下列哪一地區的海岸線屬於曲折的峽灣？(A)台灣東部的花蓮海岸 (B)北歐挪威海岸 (C)巴爾幹半島的希臘海岸 (D)黃河出海口沿岸。

21.(D)冰河侵蝕山谷之後所形成的山谷稱為 (A)V型谷 (B)峽谷 (C)峽灣 (D)U型谷。

22.(C)冰河侵蝕地表之後低窪處積水形成的湖泊稱為 (A)斷層湖 (B)堰塞湖 (C)冰蝕湖 (D)火口湖。

23.(A)歐洲哪一地區受板塊活動影響地震較頻繁？(A)南歐 (B)西歐 (C)東歐 (D)歐俄。

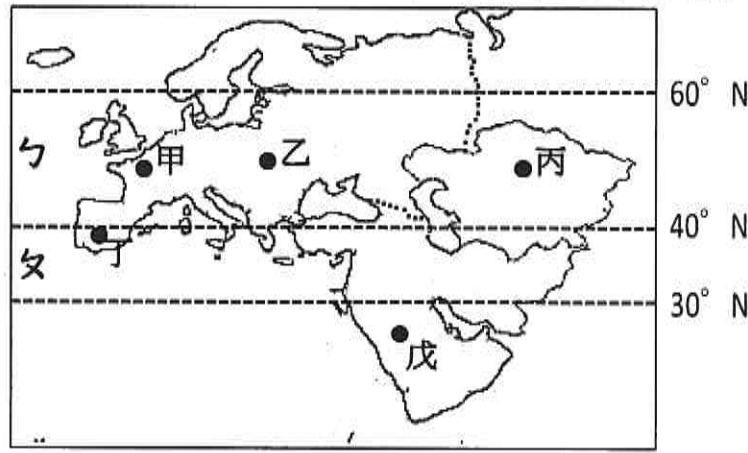
24.(A)歐洲沿岸有哪一股暖流通過，導致沿海地區氣候濕潤，北極圈內甚至出現不凍港？(A)北大西洋暖流 (B)東澳暖流 (C)黑潮 (D)阿拉斯加暖流。

25.(C)歐洲全境濕潤，沒有沙漠分布的原因，下列敘述何者正確？(A)烏拉山呈現東西走向 (B)西風帶進太平洋水氣 (C)多內海，水氣深入內陸 (D)副熱帶高氣壓不會壟罩。

26.(A)中亞地區五個國家中，哪一個國家石油產量豐盛，並與俄羅斯、中國合作共同開發石油資源？(A)哈薩克 (B)伊拉克 (C)莫三比克 (D)斯洛伐克。

二、題組：第 27~42 題，共 16 題，每題 3 分，共 48 分

(一)圖【二】為西亞、中亞與歐洲地區示意圖，根據圖中資料回答第 27~32 題



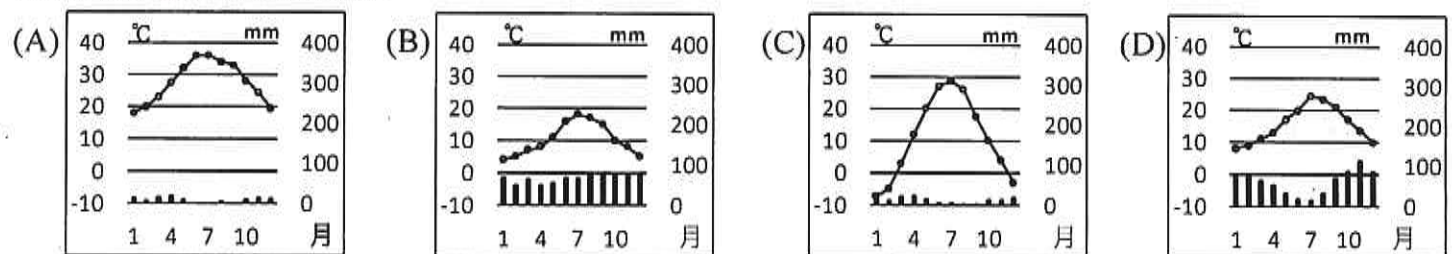
圖【二】

27. (B) 依據地球行星風系理論，丁區主要為 (A)赤道低壓帶 (B)西風帶 (C)副熱帶高壓帶 (D)東北信風帶。
28. (C) 依據地球行星風系理論，戊區在夏季轉變成為 (A)赤道低壓帶 (B)東北信風帶 (C)副熱帶高壓帶 (D)西風帶。
29. (D) 下列地區中，氣候特色與副熱帶高壓有關係的是？ (A)甲乙 (B)乙丙 (C)丙丁 (D)丁戊。
30. (C) 下列四個地區中，年溫差最大的是？ (A)甲 (B)乙 (C)丙 (D)戊。
31. (D) 表【二】的氣候資料最可能位在圖【二】哪一地區？ (A)甲 (B)乙 (C)丙 (D)丁。

表【二】

月份	1	2	3	4	5	6	7	8	9	10	11	12
降水(mm)	139.1	122.6	94.1	22.5	9.8	8.7	4.7	2.0	5.9	21.0	66.4	108.5
氣溫(°C)	9.4	10.6	13.5	18.4	20.0	24.3	25.6	24.8	23.9	19.7	18.2	12.6


32. (A) 戊地區的氣候圖最可能是



(二)閱讀圖【三】與文章，根據圖文資料回答第 33~36 題

以色列位在西亞地區(圖【三】)與眾多阿拉伯國家相鄰，國土面積與台灣相仿，自然環境並不豐厚。

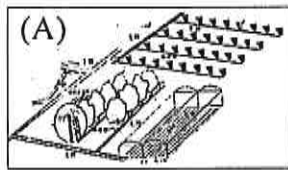
2020 年 8 月，在美國的斡旋之下，以色列與阿拉伯聯合大公國(阿聯)達成協議。阿聯同意將正常化與以色列關係，以色列承諾暫緩兼併約旦河西岸。埃及與約旦分別在 1979 年與 1994 年和以色列建交，而阿聯是第 3 個承認以色列的阿拉伯國家。原本與以色列不共戴天的阿拉伯國家陣線是否發生動搖跡象，後續發展值得注意。



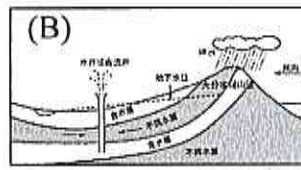
圖【三】

33. (D) 西亞地區氣候乾燥，所幸有甲為以色列帶來較多水氣，甲是？ (A)鹹海 (B)阿拉伯海 (C)裏海 (D)地中海。

34.(A)承上題，為了節省有限的水資源，以色列發明哪一種現代化灌溉技術？



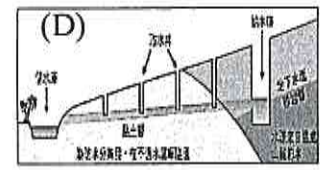
滴灌



自流井



深層地下水井

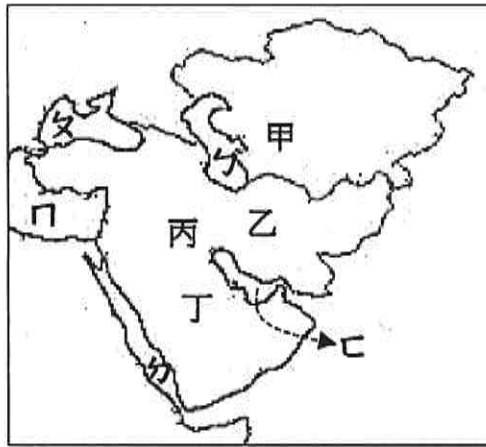


坎井

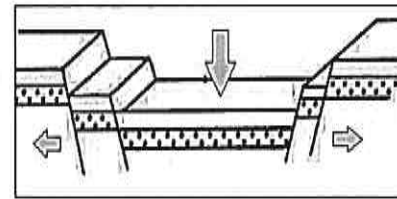
35.(C)乙都市自古以來被稱為三教聖城，現在被以色列做為該國首都，乙是 (A)巴格達 (B)杜拜 (C)耶路撒冷 (D)貝魯特。

36.(B)宗教的差異是以阿紛爭的因素之一，以色列與周邊阿拉伯世界國家分別以什麼宗教做為信仰？
(A)猶太教、基督教 (B)猶太教、伊斯蘭教 (C)伊斯蘭教、東正教 (D)基督教、天主教。

(三)圖【四】為西亞與中亞地區示意圖(甲~丁：地形，ㄅ~ㄉ：水域)，根據圖中資料回答第 37~42 題

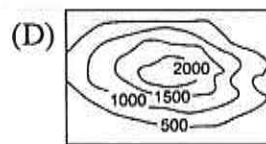
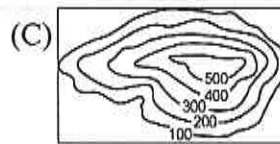
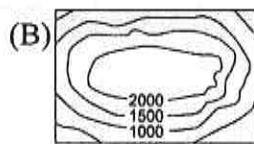
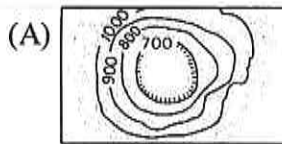


圖【四】



圖【五】

37.(A)甲地區位在亞洲與歐洲之間，地形屬於下列何者？(單位：公尺)



38.(D)原本與非洲陸塊相連，地質構造古老的是 (A)甲 (B)乙 (C)丙 (D)丁。

39.(B)利用渠道引用河水從事灌溉農業的是 (A)甲乙 (B)甲丙 (C)甲丁 (D)乙丙。

40.(C)沿岸地區盛產石油的水域？ (A)ㄅㄆ (B)ㄅㄇ (C)ㄅㄉ (D)ㄇㄉ。

41.(A)世界面積最大的鹹水湖位在？ (A)ㄅ (B)ㄆ (C)ㄇ (D)ㄉ。

42.(D)如圖【五】，板塊張裂為板塊活動的類型之一，下列哪一個水域的形成與板塊張裂有關？ (A)ㄅ (B)ㄆ (C)ㄉ (D)ㄇ。

一、選擇：(每題 2 分，共 82 分)

1. (A) 王太太經營一家自助餐店，她在計算利潤時，亦將自己的薪資一起納入生產成本中。此種做法最符合經濟學的哪種概念？ (A)機會成本 (B)受益原則 (C)外部成本 (D)負擔能力原則。
2. (C) 「有了名牌球鞋，又要鑽石手機」，這句話顯示了什麼現象？ (A)個人偏好 (B)資源有限 (C)欲望無窮 (D)獲取利潤。
3. (A) 一個人所得愈高，那他排隊買東西的機會成本是 (A)愈高 (B)愈低 (C)不變 (D)不一定。
4. (A) 消費者在從事消費行為時，若遇到權益受損的情形，除了可向民間的消費者保護團體或政府相關單位提出申訴外，也可利用下列哪個專線電話，請求協助？ (A)1950 (B)1968 (C)1995 (D)1999。
5. (B) 在其他條件都不變的情況下，一個人選擇將資源用於某一特定用途時，必須考慮所放棄的其他機會中，滿足程度最大、價值最高者所產生的價值。這是指下列哪種概念？ (A)預期心理 (B)機會成本 (C)外部成本 (D)消費需求。
6. (D) 利用各種生產要素，製造並提供產品的行為，稱為「生產行為」。依此判斷，下列何者不是經濟學上所稱的「生產行為」？ (A)司機駕駛公車 (B)師傅製作麵包 (C)果農種植果樹 (D)雅真到市場購買蔬菜。
7. (A) 百鳴在宜蘭地區四處尋找適合種植水果的土地，打算買下來開闢成果園。上述內容顯示百鳴需要何種生產要素？ (A)自然資源 (B)人力資源 (C)資本 (D)企業才能。
8. (D) 大成公司最近接到大量訂單，為了如期出貨，蔡老闆打算擴建廠房、添購機器設備。蔡老闆可以用下列哪些方式來籌措資金？(甲)從利潤中提撥 (乙)向銀行借貸 (丙)向社會大眾募集 (A)甲乙 (B)甲丙 (C)乙丙 (D)甲乙丙。
9. (C) 在其他條件不變的情形下，消費者對某物品「價格高少買，價格低多買」的現象，稱為下列何者？ (A)機會成本 (B)受益原則 (C)需求法則 (D)外部效果。
10. (C) 以下是詹老師請同學完成的學習單——

甲=乙-生產成本
乙=商品價格×銷售量
請問：甲、乙依序為何？

下列哪個同學的答案是正確的？ (A)宣宣：「甲是銷貨收入，乙是利潤。」 (B)敏敏：「甲和乙成反比。」 (C)浩浩：「甲和生產成本成反比。」 (D)瑋瑋：「甲和商品價格成反比。」

11. (C) 下列為某新聞報導。請依此判斷，糙米業者應注意下列何者，以維護消費者權益？

消基會曾抽驗市面上販售的糙米，在購買的 20 件糙米中，有六成糙米標示不實。依照我國法規，違規廠商必須在一個月內更正標示，否則將開罰。

(A)廣告是否誇大不實 (B)產品是否已過保存期限 (C)產品內容是否標示清楚 (D)是否聯合哄抬物價。

12. (D) 「經濟學」又稱為「選擇」的科學，人類之所以要費盡心思做選擇的目的，在於下列何者？ (A)省錢 (B)節省資源 (C)顯示自己的學問 (D)以最少資源獲得最大滿足。
13. (D) 下列何者會影響生產者的生產成本？(甲)生產要素價格 (乙)使用人力資源應付之薪資高低 (丙)使用資金之利息多寡 (丁)水電費 (A)甲乙丙 (B)乙丙丁 (C)甲丙丁 (D)甲乙丙丁。
14. (A) 關於「生產要素」，下列哪些敘述正確？ (甲)機器、辦公大樓是資本 (乙)醫生為人看病是屬於無形的勞務 (丙)自然資源泛指人為製造的資源 (丁)產品創新是屬於資本 (A)甲乙 (B)甲丙 (C)乙丙 (D)乙丁。
15. (C) 醫學院畢業的顏平想自己開設牙科診所，他決定以小朋友為主要對象，並且在診所內設有電視、遊戲區與圖書區，以免小朋友等候時覺得無聊。上述是生產者的何種選擇課題？ (A)生產什麼 (B)如何生產 (C)為誰生產 (D)何時生產。
16. (D) 阿水伯只有一塊土地，他若栽種稻米，就必須放棄種植高粱的收入。根據上述內容判斷，高粱的收入就是種植稻米的什麼？ (A)外部成本 (B)外部效益 (C)固定成本 (D)機會成本。
17. (B) 雅真是一名會計，月薪 2 萬元，後來辭職轉到另一家公司，月薪 2 萬 5 千元。若單純以工作月薪來比較，雅真離開原本職位的機會成本為何？ (A)5 千元 (B)2 萬元 (C)2 萬 5 千元 (D)4 萬 5 千元。
18. (B) 小方有三個打工的機會，這三個工作機會的辛苦程度和工作條件都相同。其中甲工作時薪 170 元，乙工作時薪 160 元，丙工作時薪 155 元。如果小方因為上課時間的關係，只能選擇乙工作，則他的機會成本是多少？ (A)305 元 (B)170 元 (C)160 元 (D)155 元。
19. (D) 附圖是小安在某個政府組織的網站上，所看到的職責介紹——

督促廠商重視自身商譽及消費者權益，在公開、公平的誠信原則下進行交易，以減少廠商囤積、聯合哄抬物價等交易糾紛。

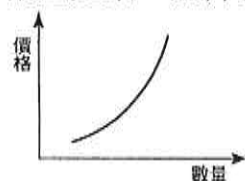
根據內容判斷，這應該是指下列哪個政府組織？ (A)消費者保護處 (B)消費者文教基金會 (C)消費者權益促進會 (D)公平交易委員會。

20. (B) 以下是小珮生產蛋糕時所考量生產方式的示意圖



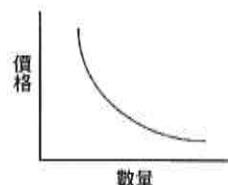
根據內容判斷，小珮考量的是哪項課題？ (A)生產什麼 (B)如何生產 (C)為誰生產 (D)為何生產。

21. (C) 張老闆在學校附近開了一家飲料店，珍珠奶茶是他們的招牌飲料，一杯 35 元。日前他獲知原物料即將大漲，因此他提前大量收購店裡需要的原料，並囤積在倉庫裡。最近因為放暑假，少了許多學生顧客，因此他推出珍珠奶茶特價 25 元。若許多顧客皆因張老闆一杯珍珠奶茶特價 25 元而上門購買，這最能說明下列哪項經濟概念？ (A)受益原則 (B)機會成本 (C)需求法則 (D)負擔能力原則。
22. (D) 近年來，智慧權鑑價、電子商務、全球運籌服務等服務業因應市場需求而誕生。由此可看出，服務業正朝向知識密集化加速發展。根據上述內容判斷，服務業的發展將更重視哪項生產要素？ (A)自然資源 (B)資本 (C)企業才能 (D)人力資源。
23. (D) 薇薇在百貨公司逛街時，看到兩件紅色外套，其中一件要價 2,800 元，另外一件要價 3,500 元，她非常喜歡 3,500 元的外套，覺得那件外套穿起來可以讓自己顯得更瘦，所以她決定購買 3,500 元的外套。上述薇薇的消費行為，主要是受到下列哪項因素的影響？ (A)外套價格的高低 (B)預期外套價格將變動 (C)薇薇的消費能力 (D)薇薇對外套的偏好。
24. (D) 生產者在生產過程中所運用的各種資源稱為「生產要素」。依此判斷，下列何者不屬於生產要素之一？ (A)土地、廠房 (B)職員、工人 (C)機器、管理機器的人 (D)銷貨收入、利潤。
25. (C) 附圖是某一經濟學原理的圖示——



根據內容判斷，該圖最能說明下列何種現象？ (A)商品折扣優待，購買人潮湧現 (B)減少員工人數，降低生產成本 (C)檸檬價格上漲，果農增加供給數量 (D)颱風來襲，民眾搶購蔬菜。

26. (B) 下列哪一項不是關燈工廠優勢？ (A)24 小時運作 (B)人力需求高 (C)產量增加 (D)出錯率低。
27. (C) 思廷在網路上買了一部電腦，由於思廷認為電腦外觀與網路上的相片差異甚大，因此要求退貨，廠商以思廷已經拆除包裝為理由，拒絕退貨。上述廠商的做法，已經違反下列哪項法律的規定？ (A)《刑法》 (B)《商標法》 (C)《消費者保護法》 (D)《勞動基準法》。
28. (C) 求職中的允樂同時獲得甲、乙、丙三家公司的錄用通知，最後他選擇到甲公司上班。在不考慮其他條件的情況下，下列哪句話最能說明允樂的選擇？ (A)甲公司最符合允樂的志趣 (B)乙公司和丙公司的薪水太低 (C)選擇甲公司的機會成本最低 (D)乙公司和丙公司的機會成本太低。
29. (B) 晨曦參加大學同學會，大家都稱讚她保養有方，看來依然時髦美麗。晨曦說：「如果我能有更多錢財可以花用，換更大的房子與更拉風的車子，老公和小孩能夠更貼心，那就更圓滿了！」上述晨曦的話主要顯示了下列哪種現象？ (A)感恩惜福 (B)欲望無窮 (C)性別平權 (D)活到老學到老。
30. (C) 附圖為某一經濟學原理的圖示——



根據內容判斷，該圖最能說明下列何種現象？ (A)名牌鐘錶推出全球限量款式，以高價吸引消費者購買 (B)民眾寧願搭乘費用較高的高速鐵路，也不願乘坐便宜但耗時的普通車 (C)夏季服飾買一送一，購買人潮暴增 (D)個人所得有限，如果購買書籍，就不能去看電影。

31. (B) 學美髮的(甲)雅真坐(乙)高雄捷運到新堀江買上班要用的(丙)美容修剪組後，到小王子蛋糕店買了(丁)蛋糕準備幫朋友慶生。上述的生產要素共有幾種？ (A)1 種 (B)2 種 (C)3 種 (D)4 種。
32. (A) 食品廠商「味鮮美」最近增建了一座廠房，是相當先進的冷凍微波調理鮮食加工廠，可提供異國風味料理的即食微波食品，讓消費者在家可以藉由簡單的步驟，輕鬆享受來自全世界的經典料理。上述廠房是屬於何種生產要素？ (A)資本 (B)企業才能 (C)人力資源 (D)自然資源。
33. (B) 梁媽媽開了一間自助餐店，就不能在同一時間從事其他工作。因此，她在計算經營成本時，也將自己當老闆的薪水一起納入生產成本之計算。上述主要在說明經濟學的哪種概念？ (A)外部效益 (B)機會成本 (C)受益原則 (D)負擔能力原則。
34. (A) 下列敘述何者錯誤 (A)未來社會從事勞力者的人會增加 (B)商品定價是生產者很重要的決定 (C)當老闆要考慮的各個層面比員工複雜 (D)美化店面和促銷方可以使生產者的銷貨收入增加。
35. (B) 下表是好口味點心坊推出三種均一價的商品，每日各供應 30 份，其單日獲利為 1,800 元——

品項	價格 (元/份)	成本 (元/份)	售價 (元/份)	數量 (份/日)
抹茶蛋糕	15	35	30	30
紅豆麵包	10	35	30	30
花香餅乾	?	35	30	30

下列相關敘述，何者正確？ (A)花香餅乾的利潤最高 (B)花香餅乾的成本為 20 元 (C)好口味點心坊單日銷貨收入為 1,350 元 (D)提高紅豆麵包的成本可增加利潤。

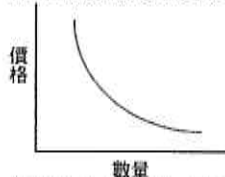
36. (B) 新聞不斷報導「雞蛋殘留有害人體的抗生素」的消息，引起消費者不安，蛋價也跟著下跌。依據「供給法則」判斷，此時生產者最可能採取下列何種措施？ (A)增加供給數量 (B)減少供給數量 (C)增加需求量 (D)減少需求量。
37. (C) 產品可分成有形的財貨與無形的勞務。依此判斷，下列何者屬於有形的財貨？ (A)耳鼻喉科醫生為患者看病 (B)英文老師為學生上課 (C)農夫陳先生所栽種的鳳梨 (D)計程車司機搭載乘客。
38. (A) 電視製作人想為主持人花花開關新節目，只是製作人不知該開關綜藝節目，還是益智節目，而大傷腦筋。製作人面臨的選擇課題，與下列何者相同？ (A)梅茵考慮到底是要生產草莓蛋糕，還是菠蘿麵包 (B)百貨公司的化妝品業者，特別針對女性消費者推出促銷方式 (C)名牌皮包標榜純手工打造，而非機器生產 (D)生產者考量何種生產方式最能降低生產成本。
39. (C) 機會成本是指在其他條件都不變的情況下，所放棄的機會中代價最高者。附表是小康以相同時間分別

生產四種玩偶的產量——

工作	產量(個/2 小時)
甲	8
乙	5
丙	10
丁	6

根據資料判斷，小康生產哪種玩偶的機會成本最低？ (A)甲 (B)乙 (C)丙 (D)丁。

40. (C) 下列何者不是「需求法則」的應用？ (A)進口牛肉降價可以多買 (B)原物料缺乏，麵包價格上漲，要少吃麵包 (C)晚上在家看書就無法到網咖店打電玩 (D)石油即將要漲價，趕快把車子的油箱加滿。
41. (A) 附圖為需求法則的圖示——



根據此法則，下列何種情況會降低消費者的購買意願？ (A)價格居高不下的青蔥 (B)買二送一的冬季鮮乳 (C)購物滿3,000元送300元折價券 (D)夏季末拍賣的泳裝。

二、題組：(每個答案3分，共18分)

1. 以下是建文在晚上可從事的活動，他依自己的滿足程度為這些活動打分數。

項目	複習功課	看漫畫	整理房間	打電玩
滿足程度(0~100分)	60	80	55	90
機會成本	甲	乙	丙	丁

請根據資料，回答下列問題：

- (D)(42)建文選擇複習功課所花費的機會成本「甲」是多少？ (A)55 (B)60 (C)80 (D)90。
- (D)(43)何者是建文選擇機會成本最小的活動？ (A)複習功課 (B)看漫畫 (C)整理房間 (D)打電玩。
- (A)(44)甲、乙、丙、丁四者所代表各項活動的機會成本，有哪些是相同的？ (A)甲乙丙 (B)甲丙丁 (C)乙丙丁 (D)甲乙丙丁。
2. 阿修到餐廳用餐。他看到如附圖所示餐點菜單，想點牛排、咖啡和蛋糕，但身上只有500元，考量了這個月的預算，他決定點一份牛肉燴飯套餐。不久，服務生將餐點送上，阿修發現沙拉中有異物，立即向服務生反映——

今日特惠	
牛肉燴飯套餐...350元 附：沙拉、湯	

單點	飲料、甜點
牛排.....350元/份	紅茶...80元
海鮮燴飯...250元/份	果汁...100元
牛肉燴飯...250元/份	咖啡...120元
鐵板炒麵...200元/份	蛋糕...120元

請根據上述內容，回答下列問題：

- (B)(45)根據上文判斷，阿修點牛肉燴飯套餐的機會成本為何？ (A)省下150元 (B)吃不到牛排 (C)得到沙拉和湯 (D)享用套餐帶來的滿足感。
- (A)(46)餐廳業者推出特惠的「牛肉燴飯套餐」，是希望

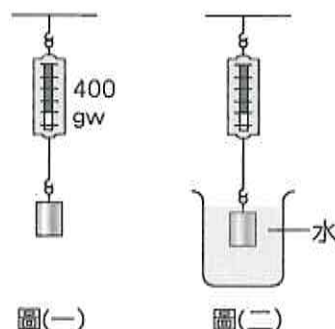
達到下列哪項效果？ (A)增加消費意願 (B)提高消費能力 (C)提供交易媒介 (D)降低交易風險。

(B)(47)當阿修發現沙拉中有異物時，應該採取下列何種做法，最能保障自己的權益？ (A)自認倒楣，下次不來 (B)請服務生換一份 (C)向公平交易委員會提起申訴 (D)要求餐廳免費提供牛排、咖啡和蛋糕。

高雄市立大社國中 109 學年度第 1 學期第一次段考自然科三年級試卷

每題 2.5 分，請將答案用 2B 鉛筆畫於答案卡中

1. (A) 將兩個一樣重的蘋果和水梨一起浸入鹽水中，此時蘋果浮在水面上，而水梨則沉入水中，請問蘋果和水梨何者所受的浮力較大？ (A)蘋果 (B)水梨 (C)兩者相等 (D)無法比較。
2. (C) 當船隻由海洋駛進淡水河口，船身會下沉一些，為什麼？ (A)船在海水中所受的浮力比在河水中大 (B)船在海水中所受的浮力比在河水中小 (C)海水的密度比河水的密度大 (D)海水的密度比河水的密度小。
3. (D) 在彈簧秤下端懸掛一個金屬圓柱，如圖(一)，已知彈簧秤讀數為 400 公克重，若圓柱全部沒入水中，如圖(二)所示，此時彈簧秤讀數為 300 公克重，則圓柱的密度為多少公克立方公分？ (A)2.5 (B)3.0 (C)3.5 (D)4.0。

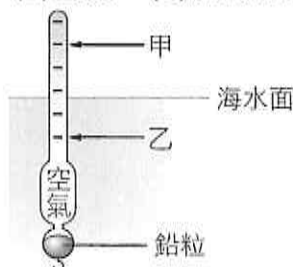


4. (D) 取甲、乙、丙三個質量相等的物體，其密度如附表所示。將三個物體同時放入水中，則其所受的浮力 $B_{甲}$ 、 $B_{乙}$ 、 $B_{丙}$ 的大小關係為何？

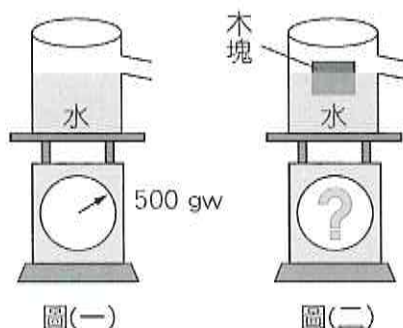
物體	密度(g/cm ³)
甲	0.3
乙	0.7
丙	2.4

(A) $B_{甲} > B_{乙} > B_{丙}$ (B) $B_{甲} < B_{乙} < B_{丙}$ (C) $B_{甲} = B_{乙} = B_{丙}$ (D) $B_{甲} = B_{乙} > B_{丙}$ 。

5. (A) 小緯和爸爸去海邊釣魚時，發現浮標放入海水中的情形如附圖所示，假如下次他用相同的釣竿在湖邊釣魚，則湖水的水平面可能會在浮標的何處？ (A)甲處 (B)乙處 (C)維持原來水位 (D)浮標沒入湖水中。



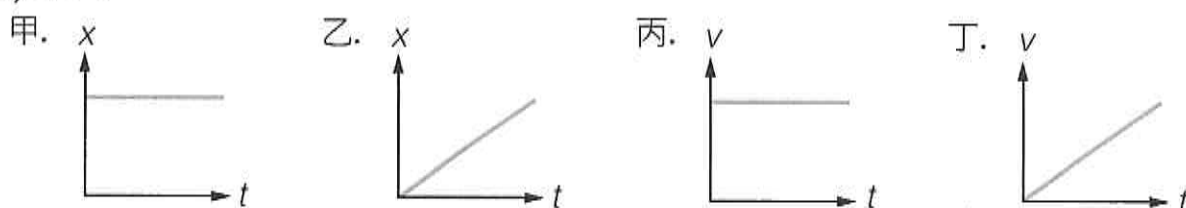
6. (A) 某實驗裝置如圖(一)所示，已知裝水的水槽重量為 500 公克重。若在水槽中緩慢放入一個體積為 50 立方公分、重量為 30 公克重的木塊後，有一部分的水由水槽側邊的管子溢出，且木塊浮於水面上呈靜止狀態，如圖(二)所示，則下列敘述何者正確？ (A)磅秤最後的讀數為 500 公克重 (B)磅秤最後的讀數為 530 公克重 (C)被木塊排出水槽外的水，體積為 50 立方公分 (D)木塊浮於水面上，表示它所受的浮力大於其重量。



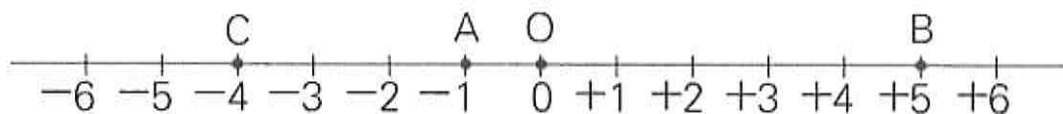
7. (B) 有一體積為 500 cm³ 的木塊浮在水面上而靜止，若浸在水中的體積為 360 cm³，若用手將木塊完全壓入水中，則手至少要施力幾公克重？ (A)120 (B)140 (C)160 (D)180。
8. (D) 下面四張圖是利用每秒閃光 10 次的照相裝置，拍攝到 4 個物體運動中的照片，其中哪個物體做等速度運動？



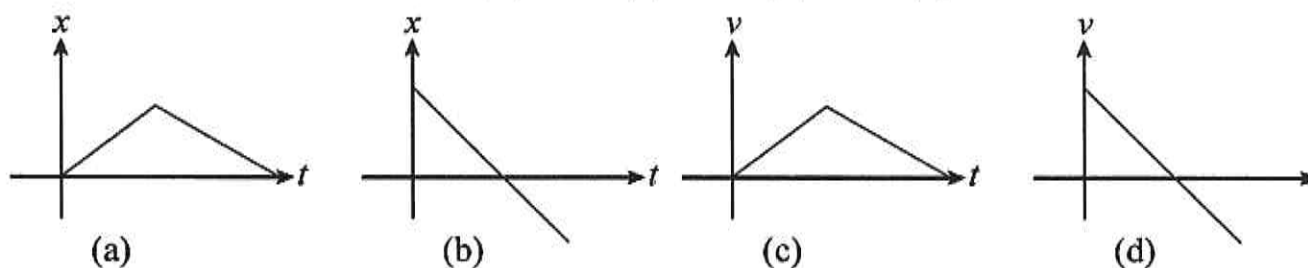
9. (A) 麗華將一塊 40 公克的橡皮擦由高樓頂處自由落下，經過 4 秒後橡皮擦落至地面，接著又將一個 5 公斤的鐵球由同一處自由落下，若不考慮空氣阻力，則經過多少秒後鐵球會落至地面？(重力加速度 = 9.8 公尺/秒²) (A)4 (B)8 (C)16 (D)32。
10. (B) 琪珍、品潔、家華三人各用 100 公克擺錘做單擺實驗，其所用的擺長長度分別為 30 公分、40 公分、50 公分，若擺角固定且不大於 10 度，所測得週期各為 T_1 、 T_2 、 T_3 ，則三者大小關係為何？(A) $T_1 > T_2 > T_3$ (B) $T_1 < T_2 < T_3$ (C) $T_1 = T_2 = T_3$ (D) $T_1 = T_2 \neq T_3$ 。
11. (D) 風化作用是指岩石漸漸破碎疏鬆及改變成分的過程，請問下列何者為造成岩石風化的環境因素？
甲.空氣 乙.水 丙.生物
(A)甲乙 (B)乙丙 (C)甲丙 (D)甲乙丙。
12. (C) 小可在海邊戲水時，不小心喝了一口海水，海水的苦味讓他印象深刻，這個「苦味」應該來自下列何種成分？(A)氯化鈉 (B)氯化鉍 (C)氯化鎂 (D)碳酸鈉。
13. (C) 關於時間的敘述，下列何者錯誤？(A)一平均太陽日等於 86400 秒 (B)一分鐘等於 1/1440 平均太陽日 (C)一太陽日剛好為 24 小時 (D)一分鐘等於 60 秒。
14. (B) 由下列位置與時間關係圖、速度與時間關係圖中，哪兩張圖可能為同一物體的運動狀態？(A)甲、丁 (B)乙、丙 (C)甲、丙 (D)乙、丁。



15. (D) 如附圖，一物體作直線運動，自 A 點向右移動到 B 點，再由 B 點折返移動到 C 點，則總位移及總路程分別為多少？
(A)總位移 3cm，總路程 9cm (B)總位移 - 3cm，總路程 9cm (C)總位移 3cm，總路程 15cm (D)總位移 - 3cm，總路程 15cm

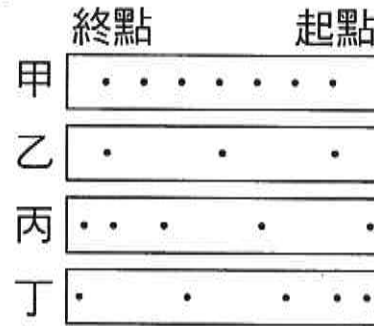


16. (B) 下列四個函數圖形為一質點做直線運動，其位置(x)對時間(t)的關係圖和速率(v)對時間(t)的關係圖，則其運動經過的路徑長恰與位移大小相等的圖形為何？(A)a、b (B)b、c (C)c、d (D)a、d

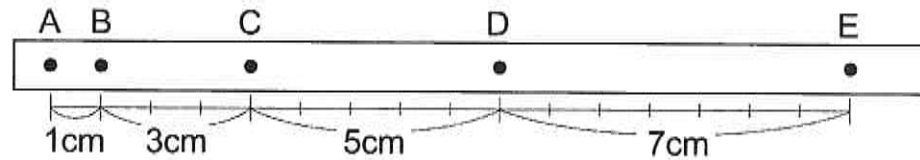


17. (C) 地下水是相當重要的水資源，但過度的抽取將可能帶來不良的影響，請問下列何者不屬於抽取地下水所可能導致的災害？(A)地層下陷 (B)地下水鹹化 (C)山崩 (D)海水倒灌。
18. (C) 在描述以下哪一個物理量時，不需要考慮其方向？(A)位移 (B)速度 (C)速率 (D)加速度。
19. (A) 地形的起伏與氣候的變化都是影響地下水高低變化的因素之一，地勢較高和降雨量豐沛的地區，其地下水面的高、低分別為何？(A)高；高 (B)高；低 (C)低；高 (D)低；低。
20. (B) 黃河的侵蝕、搬運和沉積等作用，最終會對地表高低落差造成下列什麼影響？(A)使地表高低落差漸漸變大 (B)使地表高低落差漸漸縮小 (C)不一定 (D)沒有影響。
21. (B) 下列對於風化作用與侵蝕作用的敘述，何者正確？(A)風吹拂岩石表面帶走細小的岩石碎屑，是一種風化作用 (B)侵蝕地表最主要的力量是河流 (C)河流、冰川、風與海浪無時無刻都對地表進行風化作用 (D)太魯閣國家公園的峽谷地形是一種冰川侵蝕的結果。
22. (C) 如果連續長時間不下雨，河川、湖泊與水庫的水都會減少或枯竭，這時候使用下列何種水資源最經濟、方便？(A)將海水淡化 (B)將冰川融化 (C)地下水 (D)收集大氣中的水蒸氣。

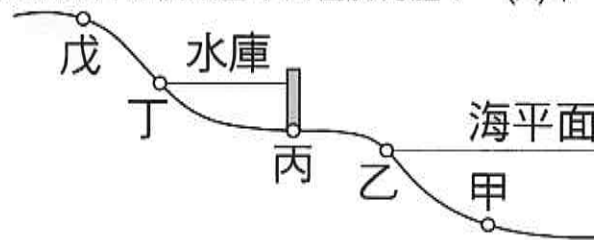
33. (D) 小文以打點計時器，記錄甲、乙、丙、丁四台玩具車的運動情形，紙帶上的打點分布如附圖所示，哪一台車具有正的加速度？ (A)甲 (B)乙 (C)丙 (D)丁



34. (A) 某物體向左做加速度運動，其運動的軌跡由打點計時器在物體後面所拉的紙帶上所留的點，分布情形如附圖所示。已知打點計時器的頻率為 10Hz，請問此物體的加速度的大小為多少 cm/s^2 ？ (A)200 (B)400 (C)600 (D)800。



35. (A) (甲)沿海地區的湖泊通常有出口，而形成了淡水湖；(乙)臺灣會有用水不足的問題，和降雨期集中、河流短急等因素有關；(丙)除了南北兩極外，臺灣的玉山溫度很低，也有冰川存在；(丁)冰川通常是海水因溫度降低而結冰形成。上列有關水之敘述哪些正確？ (A)甲乙 (B)乙丙 (C)甲丁 (D)乙丁
36. (B) 美臻和爸媽到中東地區的死海去體驗身體不會下沉的自然奇蹟，結果她不小心喝了一口水，發現非常鹹，和臺灣的日月潭完全不一樣，請問死海和日月潭兩者的成因，下列何者是正確的？
 (A)前者位於乾旱之地，且和大海相通 (B)前者位於乾旱之地，且無出口流向大海 (C)後者的水流封閉，無出口 (D)日月潭非常廣大，湖水把鹽分稀釋了
37. (B) 若某地的岩石表面凹凸不平，如野柳的女王頭，此情形的形成原因為何？ (A)風化作用進行時風或水的營力改變 (B)侵蝕作用進行時母岩抗侵蝕能力不同 (C)搬運作用進行時沿途顆粒磨細程度不一 (D)堆積作用進行時顆粒大的沉積在下方，顆粒小的在上方
38. (D) 附圖為某條河流的地形剖面圖，此河流的暫時侵蝕基準面位於何處？ (A)甲 (B)乙 (C)丙 (D)丁



39. (B) 下列哪一選項的地質作用與其他三者不同？
 (A)冰川挾帶的沉積物在所經之處底層岩石上留下刮痕 (B)植物的根深入岩石裂隙中將岩石撐破 (C)風夾帶的沙粒磨蝕岩石表面，形成平坦的面與稜線 (D)波浪衝擊岸邊陸地，將海岸衝擊成凹洞
40. (D) 台灣的跨河大橋，常發現橋墩裸露的現象，試問下列哪一項最有可能是造成此現象的原因？
 (A)可能發生過土石流 (B)在下游河流出海處蓋防波堤 (C)河流上游可能有山坡地被濫墾 (D)靠近橋的下游河段遭濫採砂石